

# **AGENZIA DELLE ENTRATE**

**Selezione pubblica per l'assunzione a tempo  
indeterminato di complessive 118 unità per la  
terza area funzionale, fascia retributiva F1,  
profilo professionale**

**FUNZIONARIO TECNICO**

**PROVA  
OGGETTIVA ATTITUDINALE**

**QUESTIONARIO 1**

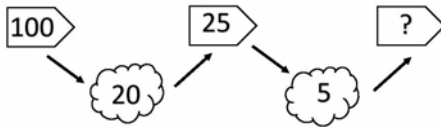
001. "ROMA" sta a "ITALIA", come " \_\_\_\_\_ " sta a "AUSTRALIA".

- A) Sidney. B) Melbourne. C) Canberra.

002. 3 tessitori lavorano 12 giorni per fare un arazzo; in quanto tempo sarebbe terminato lo stesso arazzo fatto da 4 tessitori?

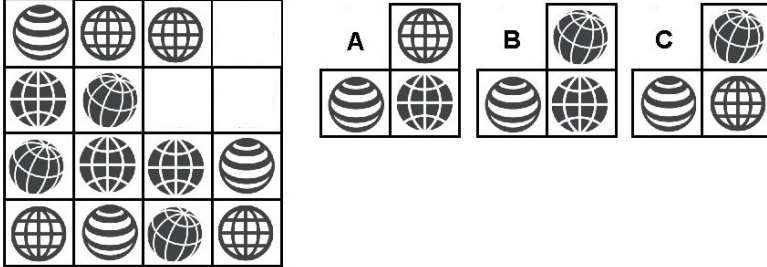
- A) 9 giorni. B) 10 giorni. C) 8 giorni.

003. Quale tra i seguenti numeri integra correttamente la serie?



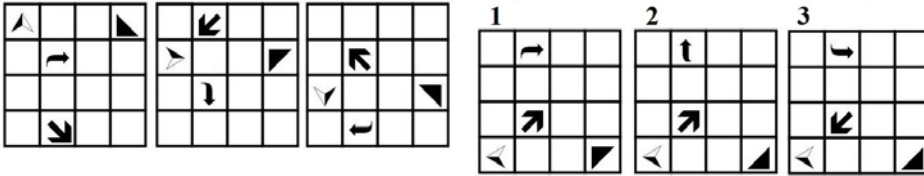
- A) 5. B) 15. C) 10.

004. Individuare la figura che completa logicamente la griglia.



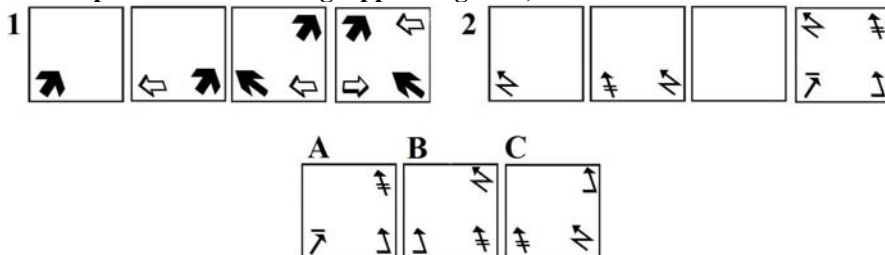
- A) Figura A. B) Figura C. C) Figura B.

005. Quale delle figure proposte completa la serie?



- A) Figura 3. B) Figura 1. C) Figura 2.

006. Dopo aver osservato il gruppo di figure 1) indicare l'elemento mancante nel gruppo di figure 2).

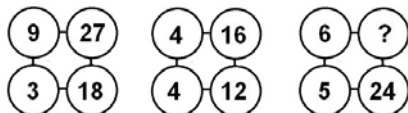


- A) Elemento A. B) Elemento B. C) Elemento C.

007. Individuare il gruppo di numeri che risulti esattamente il contrario della seguente base: KK02031974060119411938KK.

- A) KK83911491016047910320KK.  
B) KK83911491106047913020KK.  
C) KK83911419106074913020KK.

008. Individuare il numero mancante:



- A) 35. B) 40. C) 30.

009. Quali termini possono essere logicamente inseriti nel seguente gruppo?

"insomma, in conclusione, in definitiva".

- A) Molto - Raramente.  
B) Insomma - Pazientemente.  
C) Infine - Dopotutto.

010. Antonio, che è tutt'altro che attivo, è:

- A) Indolente. B) Non inerte. C) Molto volitivo.

011. Scon \_\_\_\_\_ - bene \_\_\_\_\_ ri - af \_\_\_\_\_ mmo

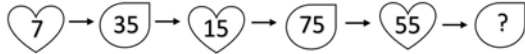
Quali termini dovranno essere inseriti nell'ordine affinché si ottengano tutte parole di senso compiuto ed uso comune?

- A) FITTO ; FATTI ; FETTA. B) FITTO ; FATTI ; FITTA. C) FITTO ; FATTO ; FETTA.



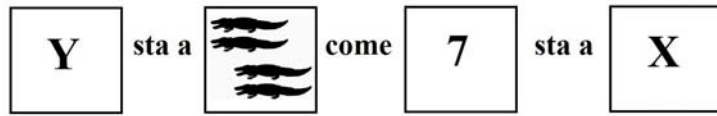


035. Completare la sequenza con il numero corretto:



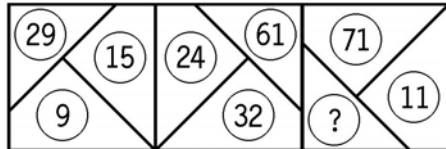
- A) 255. B) 275. C) 235.

036. Completare la seguente proporzione.



- A)  $Y=B - X=A$ . B)  $Y=B - X=C$ . C)  $Y=A - X=C$ .

037. Quale numero deve logicamente integrare la struttura?



- A) 91. B) 87. C) 89.

038. Quale dei seguenti termini può sostituire la parola "avversione" senza modificare il significato della frase ove essa è inserita?

- A) Idiosincrasia.  
B) Simpatia.  
C) Indifferenza.

039. " \_\_\_\_\_ " sta a "Isola" come "Monte Bianco" sta a " \_\_\_\_\_ ".

- A) Procida - Argentera.  
B) Arcipelago - Montagna.  
C) Pantelleria - Montagna.

040. Una caffetteria-sala da the acquista 50 scatole di pasticcini artigianali da 5 kg ciascuna. Se ogni scatola ha una tara di 25 g, quanto ricava vendendo i pasticcini a euro 5 il chilogrammo?

- A) Euro 1.242,75.  
B) Euro 1.244,75.  
C) Euro 1.243,75.

**Leggere il brano e rispondere alle seguenti 5 domande. (041 - 045)**

*Mascherina antismog made in Italy*

*Una società italiana ha lanciato sul mercato una nuova mascherina antismog costruita con materiale in seta. Si tratta di un prodotto che va per la maggiore negli Stati Uniti, dove viene giudicata più igienica e funzionale della normale mascherina in cotone e più lussuosa della mascherina in neoprene. I Paesi europei, quelli asiatici e Singapore, al contrario, non sembrano apprezzare tale entusiasmo e continuano ad essere i maggiori acquirenti delle mascherine in cotone. Infatti, in base alle richieste, la produzione annuale di queste ultime è in ogni caso decisamente maggiore di quella delle mascherine in seta che comunque, essendo un articolo nuovo, vengono prodotte in quantità minore rispetto a quelle in neoprene.*

041. Complessivamente, secondo il brano, le mascherine in neoprene sono prodotte:

- A) Più delle mascherine in seta.  
B) Tanto quanto quelle in cotone e quelle in seta.  
C) Meno delle mascherine in seta e di quelle in cotone.

042. Secondo il brano, i Paesi europei e Singapore:

- A) Considerano le mascherine in seta molto igieniche e funzionali.  
B) Continuano ad acquistare più mascherine in cotone.  
C) Sembrano essere entusiasti delle nuove mascherine.

043. Secondo il brano, i clienti americani giudicano la mascherina in seta, rispetto a quella in neoprene:

- A) Più igienica. B) Più funzionale. C) Più lussuosa.

044. Secondo il brano, i clienti americani giudicano le mascherine in seta, rispetto a quelle in cotone:

- A) Più funzionali ed igieniche. B) Più lussuose e pratiche. C) Più igieniche e lussuose.

045. Secondo il brano, su quale mercato la nuova mascherina riscuote maggiori consensi?

- A) Sul mercato dei Paesi europei e su quello di Singapore.  
B) Sul mercato dei Paesi europei.  
C) Sul mercato degli Stati Uniti.

**Leggere il brano e rispondere alle seguenti 5 domande. (046 - 050)**

*Iacopo non sa a quale corso di pittura, offerto dalla scuola "Atelier e Scuola d'arte" di Milano, partecipare tra quattro possibili: "Schizzo prospettico", "Incisione", "Urban Sketching", "Tonalismo".*

*I docenti sono: Francesco Fontana, Romel de la Torre, Davide Lovatini e Gabriele Ratti, non necessariamente in questo ordine.*

*Le durate dei corsi sono: tre, sei, nove e dodici mesi, non necessariamente in questo ordine.*

*È inoltre noto che:*

- Francesco Fontana è il docente del corso che dura sei mesi;
- il corso "Urban Sketching" dura dodici mesi;
- il corso "Tonalismo" è tenuto da Gabriele Ratti e non dura nove mesi;
- il docente del corso di "Incisione" è Romel de la Torre.

**046. Quale tra le seguenti situazioni non è plausibile?**

- A) Iacopo, volendo partecipare al corso tenuto da Gabriele Ratti, ha scelto quello che dura tre mesi.
- B) Iacopo, volendo partecipare al corso tenuto da Francesco Fontana, ha scelto "Schizzo prospettico".
- C) Iacopo, avendo poco tempo da dedicare a questa sua passione, ha scelto il corso "Incisione", in quanto di durata più breve rispetto agli altri.

**047. Quale corso dura tre mesi?**

- A) "Urban Sketching", tenuto da Romel de la Torre.
- B) "Schizzo prospettico", tenuto da Davide Lovatini.
- C) "Tonalismo", tenuto da Gabriele Ratti.

**048. Da chi è tenuto il corso di "Urban Sketching"?**

- A) Romel del la Torre.
- B) Davide Lovatini.
- C) Francesco Fontana.

**049. Basandosi sulla durata del corso, quale corso è terzo in ordine decrescente?**

- A) "Tonalismo".
- B) "Schizzo prospettico".
- C) "Incisione".

**050. Il corso che ha durata maggiore:**

- A) È quello di "Tonalismo".
- B) È tenuto da Gabriele Ratti.
- C) È tenuto da Davide Lovatini.