

AGENZIA DELLE ENTRATE
510 UNITÀ PROFILO PROFESSIONALE FUNZIONARIO, PER ATTIVITÀ AMMINISTRATIVO-TRIBUTARIA
QUESTIONARIO - 23

027. Non è conforme al brano affermare che sia impegno del Governo:

- A) Intraprendere ogni iniziativa per la promozione e la protezione dell'allattamento al seno materno.
- B) Vietare la pubblicità avente ad oggetto "cibo spazzatura".
- C) Attuare le raccomandazioni contenute nella risoluzione WHA63 14, approvata dall'Assemblea mondiale della sanità.

028. La sigla SDG indica:

- A) Substantial Development Goals.
- B) Safeguard Devices Goals.
- C) Sustainable Development Goals.

029. Avendo presente quanto esposto nel brano si individui l'affermazione corretta.

- A) Il Governo si impegna a intraprendere ogni iniziativa per la promozione dell'allattamento artificiale.
- B) L'Eccesso di peso è stato inserito nel set di indicatori di benessere e sostenibilità che sono entrati a far parte del ciclo di programmazione della politica economica del Governo.
- C) Tra gli indicatori del primo obiettivo (goal 1: Zero hunger) è inserita proprio la prevalenza dell'obesità.

030. In quale coppia, tra quelle proposte, i due vocaboli sono collegati da un rapporto di inclusione?

- A) Fantasmini, collant.
- B) Fantasmini, calze.
- C) Calze, scarpe.

031. In quali dei seguenti punti i termini sono proposti nell'ordine NOME/VERBO/AGGETTIVO/AVVERBIO?

- A) Candore/Incivilire/Acre/Caramente.
- B) Dolcezza/Capacitarsi/Decenza/Ciecamente.
- C) Acutamente/Conformarsi/Contiguo/Classicamente.

032. Quale dei seguenti termini può sostituire la parola "icastico" senza modificare il significato della frase ove essa è inserita?

- A) Sottile.
- B) Incisivo.
- C) Ammirevole.

033. Quale termine è il più adatto per indicare un "errore madornale, strafalcione"?

- A) Guisa.
- B) Gibus.
- C) Granciporro.

034. Trovare il termine intruso tra quelli proposti.

- A) Parmenide.
- B) Sant'Agostino.
- C) Pitagora.

035. Data la parola "forza", quale tra quelle proposte è la meno attinente/collegabile?

- A) Centripeta.
- B) Gravità.
- C) Principato.

036. Quali lettere non inserirebbe al posto degli spazi per ottenere una parola di senso compiuto ed uso corrente?

- V_L_.
- A) I - E.
 - B) E - O.
 - C) I - A.

037. Individuare tra i seguenti il sillogismo che conduce ad una falsa conclusione.

- A) Tutte le cene di Natale sono noiose. La cena di ieri sera era noiosa, quindi era una cena di Natale.
- B) Tutti i pranzi di lavoro sono impegnativi. Quello di ieri era un pranzo di lavoro, quindi è stato un pranzo impegnativo.
- C) Tutti gli aperitivi tra colleghi sono divertenti. Quello di ieri sera era un aperitivo tra colleghi, quindi è stato un aperitivo divertente.

038. Costanza è più grande di Cork ma più piccola di Budapest. Budapest è più grande di Praga ma più piccola di Manchester.

Manchester è più piccola di Istanbul. Ne deriva che...

- A) Costanza è più grande di Manchester.
- B) Istanbul è la città più grande.
- C) Cork non è la città più piccola.

039. Cosa significa negare la frase "tutti i castelli sono espugnabili"?

- A) Devono esistere almeno due castelli inespugnabili.
- B) Esiste almeno un castello inespugnabile.
- C) Nessun castello è inespugnabile.

040. Se la sequenza è "maiuscolo minuscolo", quale stringa è scritta in modo errato?

- A) "PiGrDgCbFfCyGnMbPiUmNo".
- B) "ObQzAtDoXsThGvZcSpOiLb".
- C) "ThOuSiLbNbCbZgFSyGtCvAp".

041. Quale, tra le seguenti serie di numeri, non presenta errori di battitura rispetto alla seguente sequenza?

530035,45 - 8956344 - 5548460406.

- A) 530035,45 - 8956344 - 5548460406.
- B) 530335,45 - 8956344 - 5548460606.
- C) 530335,45 - 8986344 - 5548460406.


042. Individuare il gruppo di numeri che risulti esattamente il contrario della seguente base: 141219712604738511.

- A) 115837046217912141.
- B) 115837406217911241.
- C) 115837406217912141.

043. In quale dei seguenti gruppi la lettera L non precede immediatamente la S e la lettera R non segue immediatamente la O?

- A) SLRSLRSLOSLSRSOOSLOL.
- B) SLRSLRSLORLSRSOOSLOL.
- C) SLORLSLOSLSRSORLSOL.

044. Qual è il totale di "cavalli" presenti nelle due tabelle? Quanti "fenicotteri" sono presenti rispettivamente nella prima e nella seconda tabella?



- A) 12. In entrambe le tabelle sono presenti 7 "fenicotteri".
- B) 11. In entrambe le tabelle sono presenti 6 "fenicotteri".
- C) 12. Nella tabella 1 sono presenti 6 "fenicotteri", nella tabella 2 sono presenti 7 "fenicotteri".

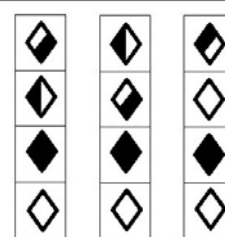
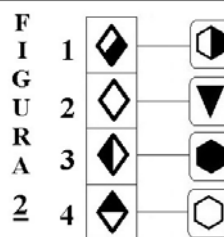
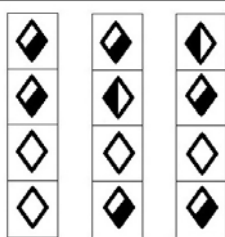
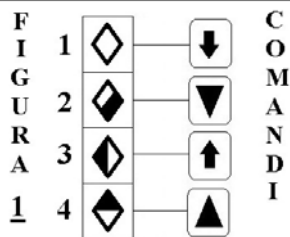
045. In quale riga è presente la seguente sequenza: NPPNPNN?

- A) PPNPNPNNNNPPPNPNPNNN.
- B) NPNPNPNPNNNPPPNPNPNNN.
- C) PNNPPPNNNPNPNPNPNPNNN.

Osservare la figura e rispondere alle seguenti 2 domande. (046 - 047)

ELENCO COMANDI

- scambia con il box numero 1
- inverte i colori
- copia nel box numero 4
- scambia con il box subito sopra
- colora il disegno nel box di bianco
- colora il disegno nel box di nero
- copia nel box subito sotto



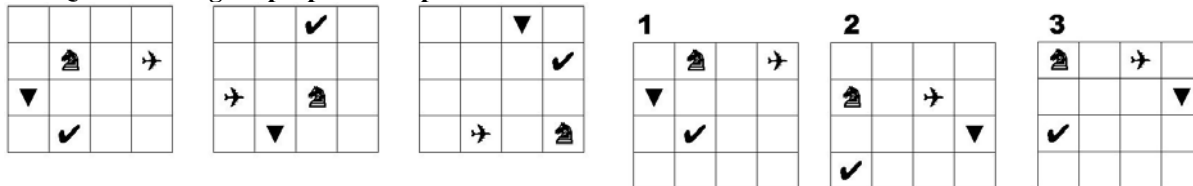
046. Quale figura si ottiene applicando alla FIGURA 1 i COMANDI a lato?

- A) La figura B.
- B) La figura C.
- C) La figura A.

047. Quale figura si ottiene applicando alla FIGURA 2 i COMANDI a lato?

- A) La figura A.
- B) La figura B.
- C) La figura C.

048. Quale delle figure proposte completa la serie?



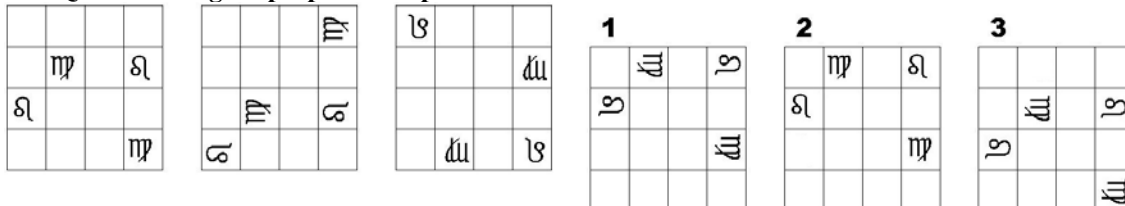
- A) La figura 2.
- B) La figura 1.
- C) La figura 3.

049. In quale dei seguenti quadrati è proposto il disegno 1, dopo essere stato ruotato e ribaltato?



- A) Nel quadrato A.
- B) Nel quadrato C.
- C) Nel quadrato B.

050. Quale delle figure proposte completa la serie ?



- A) La figura 2.
- B) La figura 1.
- C) La figura 3.