

043. In quale dei seguenti gruppi il numero 5 non segue immediatamente il 2 e il numero 1 non precede immediatamente il 4?

- A) 2452521155144244124525121.
- B) 1242415212452211554124521.
- C) 4414212124525211551442255.

044. Individuare il gruppo di numeri che risulti esattamente il contrario della seguente base: 257845698732569741.


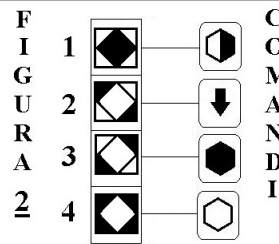

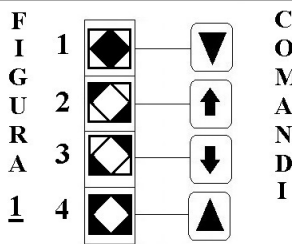
- A) 147956237869584752.
- B) 147965237896548752.
- C) 147965238796568752.

045. Quale, tra le seguenti, presenta due discrepanze rispetto alla base? CADDE - FETTA - MANNA.

- A) CADDI - FETTE - NANNA.
- B) CADDE - FETTE - NANNA.
- C) CADDE - FETTE - MANNA.

Osservare la figura e rispondere alle seguenti 2 domande. (046 - 047)
ELENCO COMANDI

- ↑ scambia con il box numero 1
- ◫ inverti i colori
- ↓ copia nel box numero 4
- ▲ scambia con il box subito sopra
- ◯ colora il disegno nel box di bianco
- ◼ colora il disegno nel box di nero
- ▼ copia nel box subito sotto



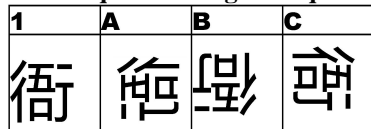
046. Quale figura si ottiene applicando alla FIGURA 2 i COMANDI a lato?

- A) La figura C.
- B) La figura B.
- C) La figura A.

047. Quale figura si ottiene applicando alla FIGURA 1 i COMANDI a lato?

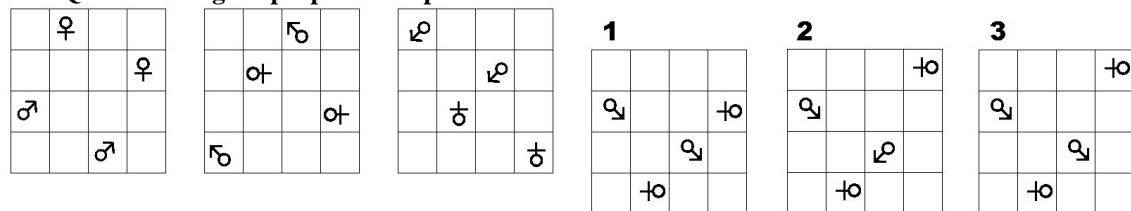
- A) La figura B.
- B) La figura A.
- C) La figura C.

048. In quale dei seguenti quadrati è proposto il disegno 1, dopo essere stato ruotato e ribaltato?



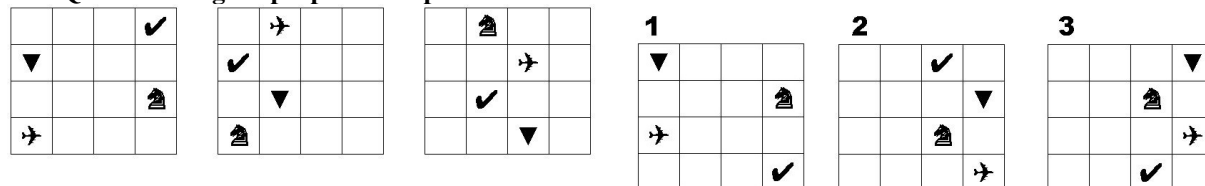
- A) Nel quadrato C.
- B) Nel quadrato B.
- C) Nel quadrato A.

049. Quale delle figure proposte completa la serie ?



- A) La figura 2.
- B) La figura 3.
- C) La figura 1.

050. Quale delle figure proposte completa la serie?



- A) La figura 2.
- B) La figura 3.
- C) La figura 1.