

AGENZIA DELLE ENTRATE
510 UNITÀ PROFILO PROFESSIONALE FUNZIONARIO, PER ATTIVITÀ AMMINISTRATIVO-TRIBUTARIA
QUESTIONARIO - 37

001. Una collezione di monete è composta complessivamente da 120 pezzi, 20 per ogni espositore. 10 pezzi di ogni espositore sono monete con errori di conio, i restanti pezzi sono legati a particolari imperatori. Quante monete legate a particolari imperatori contiene la collezione?

- A) 62. B) 60. C) 61.

002. Quali numeri completano la serie? 146 - 151 - 142 - 147 - 138 - 143 - ... - ... - 130 - 135.

- A) 134 e 139. B) 134 e 140. C) 135 e 139.

003. Possiedo 75 ettari di terreno. Sapendo che gli ettari coltivati a frutteto sono quattro ventunesimi di quelli coltivati a vigna, si calcoli quanti ettari sono a frutteto e quanti a vigna.

- A) 12 ettari e 63 ettari.
B) 13 ettari e 62 ettari.
C) 15 ettari e 60 ettari.

004. Con quali di questi numeri deve continuare la serie? 37 - 74 - 44 - 65 - 51 - 56 - 58 - 47 - ... -

- A) 65 e 37. B) 66 e 38. C) 65 e 38.

005. Quale dei seguenti numeri eliminerebbe? 339 - 91 - 65 - 78 - 364.

- A) 91.
B) 65.
C) 339.

006. Se si moltiplica per 170 e si divide il risultato per 10 si ottiene 476. Il numero è:

- A) 26. B) 28. C) 30.

007. Quale simbolo deve essere inserito al posto della Y?

$(5x7+7) + (9-6x3) + (9x2-10) Y (5x4 -8) + (4x4 -8) + (4x8 -11)$

- A) <.
B) >.
C) =.

008. Quali numeri devono essere inseriti al posto dei puntini? 199 - 213 - ... - 241 - ... - 269 - 283.

- A) 227 e 256. B) 228 e 255. C) 227 e 255.

009. Usando solo la cifra "5" si sono costruite espressioni con risultati diversi. In quale delle seguenti il risultato è "5"?

- A) $? = 5 - 5 + 5 - 5 + 5$.
B) $? = 5 - 5/5 - 5/5$.
C) $? = 5 - 55/55$.

010. Elsa pesa 49 kg; Elga pesa 3 kg in meno rispetto a Elsa; Olga pesa 10 kg in più rispetto a Elga e Alina pesa 6 kg in meno rispetto a Olga. Il peso di Alina è:

- A) 52 kg. B) 51 kg. C) 50 kg.

Leggere il brano e rispondere alle seguenti 6 domande. (011 - 016)

Ilaria non sa quale attività avviare tra: un negozio di fiori, una tabaccheria, una rivendita di giornali e una libreria. I costi degli arredi sono euro: 4.000, 5.000, 7.000 e 9.000, ed i costi per le attrezzature sono euro: 9.000, 10.000, 11.000 e 12.000, entrambi non necessariamente in questo ordine. Il personale occorrente per le attività è: 2, 3, 4 e 5 addetti, non necessariamente in questo ordine. È inoltre noto che: l'attività per la quale occorrono 3 addetti ha costi di arredo di euro 4.000 e costi per le attrezzature inferiori a euro 10.000; 5 sono gli addetti necessari per la rivendita di giornali e i costi per le attrezzature sono superiori a euro 11.000; la libreria ha come costi di arredo euro 9.000 e per questa attività non occorrono 4 addetti; la tabaccheria ha come costi di arredi euro 5.000 mentre quelli per le attrezzature non sono euro 10.000.

011. Qual è l'attività che ha costi per le attrezzature maggiori?

- A) Tabaccheria. B) Negozio di fiori. C) Rivendita di giornali.

012. Quale attività ha avviato Ilaria sapendo che è stata scelta quella che, in base ai costi di arredi, è ultima in ordine decrescente?

- A) Negozio di fiori. B) Tabaccheria. C) Libreria.

013. Quale attività richiede 3 addetti?

- A) Negozio di fiori. B) Libreria. C) Tabaccheria.

014. Quale attività ha come costi degli arredi 7.000 euro?

- A) La rivendita di giornali. B) La tabaccheria. C) La libreria.

015. Sulla base delle informazioni fornite è corretto affermare che:

- A) Per l'attività i cui costi per le attrezzature sono di euro 11.000 occorrono 2 addetti.
B) Gli addetti necessari per la libreria sono 4.
C) Per l'attività i cui costi degli arredi sono di euro 9.000 occorrono 2 addetti.

016. Sulla base delle informazioni fornite, occorrono 2 addetti per l'avvio:

- A) Della libreria. B) Della tabaccheria. C) Della rivendita di giornali.

017. Individuare la coppia che completa correttamente la proporzione. Cascate delle Marmore : Umbria = (X) : Lombardia = Tavoliere : (Y).

- A) (X) Val Camonica ; (Y) Puglia.
B) (X) Valtellina : (Y) Lombardia.
C) (X) Agro Pontino ; (Y) Marche.

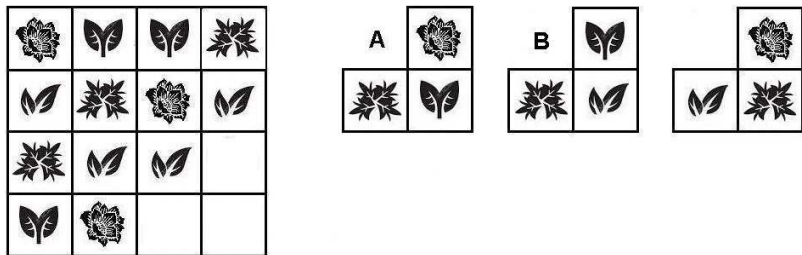
018. Ad un tavolo rettangolare sono seduti: un africano (1), un asiatico (2), un nord-americano (3), un sud-americano (4), un europeo (5) e un australiano (6) (2 da un lato, 2 dall'altro e 2 capotavola). L'australiano e l'asiatico siedono a capotavola. L'africano siede all'immediata sinistra dell'asiatico, mentre il nord-americano siede all'immediata destra dell'australiano. Chi siede sullo stesso lato dell'africano?

- A) Il sud-americano. B) Il nord-americano. C) L'europeo.

019. Si elimini dal gruppo il termine logicamente "disomogeneo": Fustagno, Chintz, Idaho, Gabardine, Batista.

- A) Chintz. B) Gabardine. C) Idaho.

020. Individuare la figura che completa logicamente la griglia.



- A) Figura B. B) Figura A. C) Figura C.

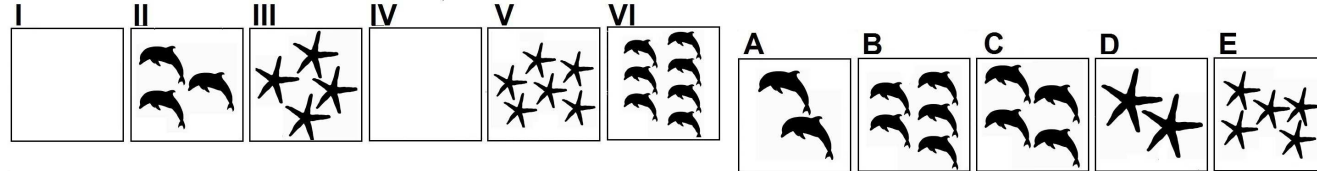
021. Individuare il termine che completa logicamente la proporzione. "geniale" sta a "gergale" come "bagnare" sta a ..?..

- A) Bastare. B) Balenare. C) Bagnina.

022. Se X si trova tra A e B; A si trova tra Y e X; B si trova tra X e K; Y si trova tra C e A; K si trova tra B e D è sicuramente vero che:

- A) Non è possibile stabilire se Y sia più vicino a B che a D.
B) X è più vicino a A che a C.
C) B è più vicino a Y che a X.

023. Quali sono rispettivamente il primo e il quarto elemento nella serie?



- A) Elementi C - E. B) Elementi D - B. C) Elementi A - E.

024. Quale dei seguenti termini integra correttamente la serie? gambi - gabella - gadiforme.

- A) Gabbianella.
B) Gabellieri.
C) Gagliardetto.

Leggere il brano e rispondere alle seguenti 5 domande. (025 - 029)

Nel terzo trimestre 2018 si stima che l'indice destagionalizzato del fatturato dei servizi sia stazionario rispetto al trimestre precedente e che l'indice generale grezzo cresca in termini tendenziali dell'1,4%, con una variazione media dei primi tre trimestri del 2018 sul corrispondente periodo del 2017 pari a +2,1%. Tra i principali settori di attività economica, l'unica variazione congiunturale positiva si riscontra nel trasporto e magazzinaggio. Si registrano invece flessioni nelle attività professionali, scientifiche e tecniche e nei servizi di informazione e comunicazione. I settori del commercio all'ingrosso, commercio e riparazione di autoveicoli e motocicli, delle attività dei servizi di alloggio e ristorazione e delle agenzie di viaggio e servizi di supporto alle imprese riportano variazioni nulle. Gli incrementi tendenziali più consistenti si registrano per il commercio all'ingrosso, commercio e riparazione di autoveicoli e motocicli (+2,2%), le attività dei servizi di alloggio e ristorazione (+1,9%) e le agenzie di viaggio e i servizi di supporto alle imprese (+1,8%). Si registra una flessione tendenziale marcata nelle attività professionali, scientifiche e tecniche (-3,2%).

025. Il settore delle agenzie di viaggio e i servizi di supporto alle imprese:

- A) Riportano una variazione congiunturale nulla e un incremento tendenziale del +1,9%.
B) Riportano una variazione congiunturale nulla e un incremento tendenziale del +1,8%.
C) Riportano una variazione congiunturale e un incremento tendenziale entrambi positivi.

026. Nel terzo trimestre 2018 si stima che l'indice generale grezzo cresca in termini tendenziali dell'1,4%, con una variazione media dei primi tre trimestri del 2018 pari a +2,1%:

- A) Sul corrispondente periodo del 2017. B) Sul trimestre precedente. C) Rispetto i nove mesi precedenti.

AGENZIA DELLE ENTRATE
510 UNITÀ PROFILO PROFESSIONALE FUNZIONARIO, PER ATTIVITÀ AMMINISTRATIVO-TRIBUTARIA
QUESTIONARIO - 37

027. Nel terzo trimestre 2018 quale indice si stima sia stazionario rispetto al trimestre precedente?

- A) Nessuno di quelli citati nelle altre risposte.
- B) L'indice destagionalizzato del fatturato dei servizi.
- C) L'indice generale grezzo.

028. Analizzando le variazioni congiunturali, si registra una flessione:

- A) Nei servizi di ristorazione.
- B) Nei servizi di informazione e comunicazione.
- C) Nel commercio all'ingrosso, commercio e riparazione di autoveicoli e motocicli.

029. Secondo il brano si riscontra una variazione congiunturale positiva:

- A) Nel trasporto e magazzinaggio.
- B) Nelle attività dei servizi di alloggio.
- C) Nelle attività professionali, scientifiche e tecniche.

030. In quali dei seguenti punti i termini sono proposti nell'ordine NOME/VERBO/AGGETTIVO/AVVERBIO?

- A) Cortigiana/Coprire/Cortesia/Delicatamente.
- B) Disconcio/Chiudere/Bruttura/Brillantemente.
- C) Copertura/Acceccare/Corrivo/Comunemente.

031. Data la parola "porto", quale tra quelle proposte è la meno attinente/collegabile?

- A) Franco.
- B) Stanco.
- C) Armi.

032. Quale termine è il più adatto per indicare "qualcosa che è di supporto, propedeutico, serve, aiuta"?

- A) Ancillare.
- B) Locupletare.
- C) Anelare.

033. Trovare il termine intruso tra quelli proposti.

- A) Avena.
- B) Noci.
- C) Farro.

034. La borsa di Amelia è più capiente di quella di Barbara, ma meno capiente di quella di Chiara. La borsa di Daiana è meno capiente di quella di Amelia, ma più capiente di quella di Barbara. La borsa di Elisabetta è più capiente di quella di Chiara. Possiamo concluderne che...

- A) La borsa di Amelia è la più capiente.
- B) La borsa di Daiana è la meno capiente.
- C) La borsa di Barbara è la meno capiente.

035. Individuare tra i seguenti il sillogismo che conduce ad una falsa conclusione.

- A) Se compri una prugna, ti regalano una pesca. Cecilia ha comprato una prugna, quindi le hanno regalato una pesca.
- B) Se compri un ananas, ti regalano una banana. Debora ha comprato un ananas, quindi le hanno regalato una banana.
- C) Se compri una mela, ti regalano una pera. A Silvia è stata regalata una mela, quindi ha comprato una pera.

036. Cosa significa negare la frase "tutti i pettirossi sono malati"?

- A) Nessun pettirosso è sano.
- B) Devono esistere almeno due pettirossi sani.
- C) Esiste almeno un pettirosso sano.

037. Quale dei seguenti termini può sostituire la parola "sicofante" senza modificare il significato della frase ove essa è inserita?

- A) Assassino.
- B) Mecenate.
- C) Delatore.

038. In quale coppia, tra quelle proposte, i due vocaboli sono collegati da un rapporto di inclusione?

- A) Forchetta, coltelli.
- B) Forchetta, posate.
- C) Coltello, affettare.

039. Quali lettere non inserirebbe al posto degli spazi per ottenere una parola di senso compiuto ed uso corrente?

- V _ S _ .
- A) A - O.
 - B) E - I.
 - C) I - O.

040. Quale, tra le seguenti, presenta due discrepanze rispetto alla base? ABELE - CALCE - FERME.

- A) ABELE - CALDE - FERME.
- B) ABELE - CALDE - FERMA.
- C) ABETE - CALDE - FERMA.

041. In quale, tra le seguenti sequenze di cifre, è presente, almeno una volta, la seguente stringa numerica "121978"?

- A) 10121781021782101287121097.
- B) 12101219781012978101218971.
- C) 81021178101297810129781210.

042. Il "fiocco di neve" quante volte è presente nelle due tabelle? Quanti "telefoni" sono contenuti rispettivamente nella prima e nella seconda tabella?

Tabella 1										Tabella 2									
♪	❄	♪	☎	☎	☎	❄	☎	☎	☎	❄	❄	☎	☎	☎	☎	❄	☎	❄	☎
☎	♪	☎	❄	♪	♪	☎	❄	♪	☎	☎	☎	♪	❄	☎	♪	☎	❄	☎	☎

- A) 9. In entrambe le tabelle sono contenuti 5 "telefoni".
 B) 8. Nella tabella 1 sono contenuti 5 "telefoni", nella tabella 2 sono contenuti 6 "telefoni".
 C) 9. Nella tabella 1 sono contenuti 6 "telefoni", nella tabella 2 sono contenuti 5 "telefoni".

043. In quale dei seguenti gruppi il numero 8 non segue immediatamente il 7 e il numero 2 non precede immediatamente il 1?

- A) 1121727271878722882117788.
 B) 7187872288211711271878272.
 C) 2717128727187722881271872.

044. In quale sequenza di lettere le "B" sono a pari numero delle "P"?

- A) BAKBAPSBKPKPASSBAP.
 B) BABBAKSBKPKPASLPPP.
 C) BLHBLABAKSBKPKPASB.

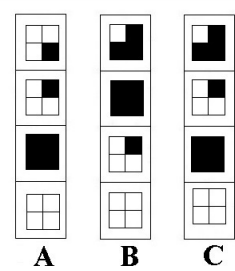
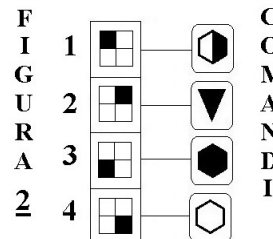
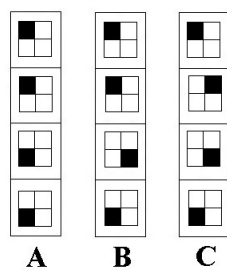
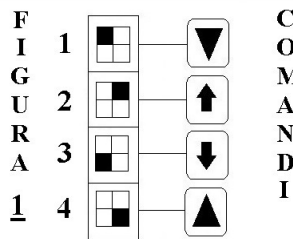
045. Se la sequenza è "consonante-consonante-vocale-vocale", quale stringa è scritta in modo errato?

- A) SQAERTEAPEALGFEDSAO. B) FBUUNMEENMEAPTAORQOE. C) QLEAGFEURTUOPLEEGFAA.

Osservare la figura e rispondere alle seguenti 2 domande. (046 - 047)

ELENCO COMANDI

- | | | | |
|-------------------------------------|-----------------------------------|----------------------------|---------------------------------|
| scambia con il box numero 1 | inverte i colori | copia nel box numero 4 | scambia con il box subito sopra |
| colora il disegno nel box di bianco | colora il disegno nel box di nero | copia nel box subito sotto | |



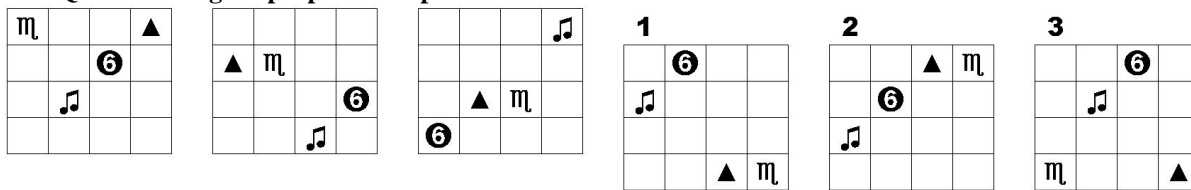
046. Quale figura si ottiene applicando alla FIGURA 2 i COMANDI a lato?

- A) La figura B. B) La figura C. C) La figura A.

047. Quale figura si ottiene applicando alla FIGURA 1 i COMANDI a lato?

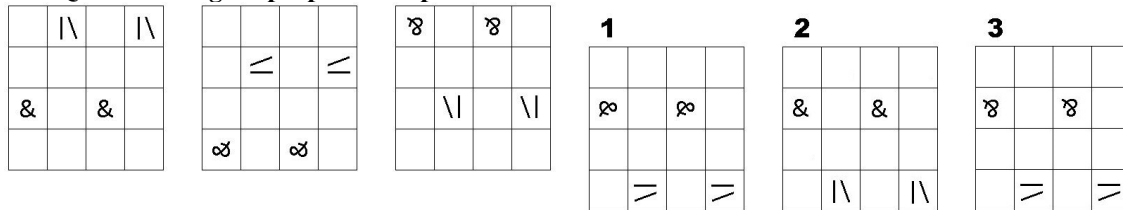
- A) La figura A. B) La figura B. C) La figura C.

048. Quale delle figure proposte completa la serie?



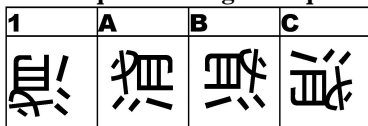
- A) La figura 2. B) La figura 3. C) La figura 1.

049. Quale delle figure proposte completa la serie ?



- A) La figura 2. B) La figura 3. C) La figura 1.

050. In quale dei seguenti quadrati è proposto il disegno 1, dopo essere stato ruotato e ribaltato?



- A) Nel quadrato C. B) Nel quadrato B. C) Nel quadrato A.