

AGENZIA DELLE ENTRATE
510 UNITÀ PROFILO PROFESSIONALE FUNZIONARIO, PER ATTIVITÀ AMMINISTRATIVO-TRIBUTARIA
QUESTIONARIO - 36

001. Quali numeri devono essere inseriti al posto dei puntini? 46 - 57 - ... - 79 - ... - 101 - 112.

- A) 68 e 91. B) 68 e 90. C) 69 e 90.

002. Giulia ha un guardaroba molto fornito ed ama soprattutto le camicette. Un settimo delle sue camicette sono a righe, gli 8 ventunesimi sono bianche e 30 sono a pois. Quante camicette ha Giulia nel proprio guardaroba?

- A) 63. B) 75. C) 58.

003. Quale dei seguenti numeri eliminerebbe? 222 - 169 - 507 - 637 - 39.

- A) 637. B) 507. C) 222.

004. ! uguale +; / uguale x; " uguale - e ? uguale : Svolgere la seguente espressione: (5 / 6) ! (7 / 8) " (9 / 4) ! (5 / 4) " (4 / 4) =.

- A) 54.
B) 65.
C) 23.

005. Con quali di questi numeri deve continuare la serie? 42 - 71 - 61 - 60 - 80 - 49 - 99 - 38 - ... -

- A) 118 e 27.
B) 118 e 26.
C) 119 e 27.

006. Davanti ad un ufficio che apre alle 14:00, ci sono già in coda 5 persone alle ore 12:00. Alle ore 13:00 le persone sono diventate 7. Alle ore 14:00 le persone sono ormai 10. Di quanto aumentano, in media, le persone ogni ora?

- A) 2 l'ora. B) 1,5 l'ora. C) 2,5 l'ora.

007. Bo; Mo'; Vado e Ro sono 4 paesini disposti l'uno dopo l'altro lungo un percorso rettilineo. Per andare da Bo a Mo' occorrono 25 minuti; per andare da Mo' a Ro ne occorrono 40 e per andare da Mo' a Vado 15. Se parto alle ore 23:51 da Vado, quando arriverò a Ro?

- A) 00:15. B) 00:16. C) 00:17.

008. Calcolare il numero il cui cubo diviso 2 è uguale a 256.

- A) 9. B) 7. C) 8.

009. Quali numeri completano la serie? 202 - 213 - 207 - 218 - 212 - 223 - ... - ... - 222 - 233.

- A) 218 e 228. B) 217 e 228. C) 217 e 229.

010. Quale simbolo deve essere inserito al posto della Y?

$$(9 \times 8) + (2 \times 7) - (5 \times 3) \quad Y \quad (5 \times 7) + (9 \times 4) - (4 \times 7)$$

- A) =.
B) <.
C) >.

Leggere il brano e rispondere alle seguenti 6 domande. (011 - 016)

Un dirigente ha ricevuto quattro offerte di lavoro da: 1) Super Spa, 2) Top Spa, 3) Number one Spa, 4) Primis Spa. Le previsioni di fatturato delle società, per l'anno 2019, sono euro: 30mila, 33mila, 35mila, 36mila, non necessariamente in questo ordine. Ogni società ha la sede in una città diversa: Milano, Modena, Napoli e Palermo non necessariamente in questo ordine. Le quattro società hanno in ordine sparso: 220, 280, 290, 305 dipendenti.

È inoltre noto che: la previsione di fatturato della società che ha sede a Milano è 30mila euro; Top Spa ha 280 dipendenti e non ha sede a Modena; la previsione di fatturato della Primis Spa è superiore a 33mila euro e ha un numero di dipendenti inferiore a 305; Number one spa ha sede a Napoli, ha una previsione di fatturato di 36mila euro e 220 dipendenti.

011. Qual è la Spa con 290 dipendenti?

- A) Quella che ha sede a Palermo. B) Quella che ha sede a Milano. C) Primis Spa.

012. Qual è la Spa la cui previsione di fatturato è 33mila euro?

- A) Quella che ha sede a Palermo. B) Quella con 290 dipendenti. C) Quella con 305 dipendenti.

013. Quale società ha il maggiore numero di dipendenti?

- A) Super Spa. B) Quella che ha sede a Modena. C) Top Spa.

014. Sulla base delle informazioni fornite, indicare l'affermazione corretta.

- A) 30mila euro è la previsione di fatturato della Super Spa.
B) Primis Spa ha sede a Palermo.
C) La previsione di fatturato della Top Spa è 35mila euro.

015. Quale Spa sceglierebbe il dirigente se decidesse per quella che, in base alla previsione di fatturato, è terza in ordine decrescente?

- A) Quella che ha sede a Palermo. B) La Spa con 305 dipendenti. C) Primis Spa.

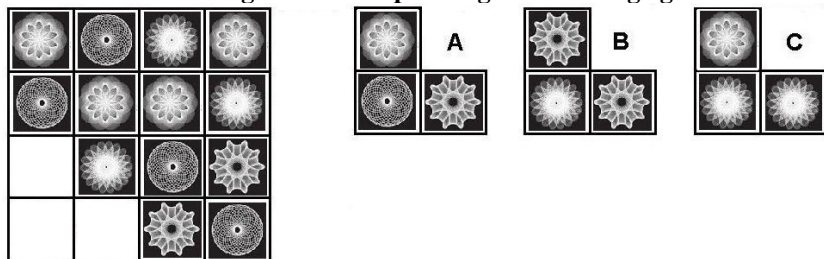
016. Quale Spa sceglierebbe il dirigente se decidesse per quella che, in base al numero dei dipendenti, è terza in ordine crescente?

- A) Quella che ha sede a Milano.
B) La Spa la cui previsione di fatturato è 35mila euro.
C) Quella che ha sede a Palermo.

AGENZIA DELLE ENTRATE
510 UNITÀ PROFILO PROFESSIONALE FUNZIONARIO, PER ATTIVITÀ AMMINISTRATIVO-TRIBUTARIA
QUESTIONARIO - 36


017. Quali dei seguenti termini integrano la serie? focosa - sapore - remoto - topone - _____ - _____.
A) Nebbia - mare. B) Chiodo - doveroso. C) Negato - topaia.

018. Individuare la figura che completa logicamente la griglia.



A) Figura B. B) Figura A. C) Figura C.

019. La proporzione si completa con gli elementi indicati con:



A) Le lettere A – E. B) Le lettere C – B. C) Le lettere A – D.

020. Se X si trova tra A e B; A si trova tra Y e X; B si trova tra X e K; Y si trova tra C e A; K si trova tra B e D è sicuramente vero che:

- A) C è più vicino a D che a A.
- B) A è più vicino a K che a D.
- C) Non è possibile stabilire se C sia più vicino a A che a B.

021. Individuare la coppia che completa correttamente la proporzione. Stromboli : Sicilia = (X) : Sardegna = Ponza : (Y).

- A) (X) Cagliari; (Y) Latina.
- B) (X) Tavolara; (Y) Isola.
- C) (X) La Maddalena; (Y) Lazio.

022. Portiere (1), Terzino (2), Stopper (3), Libero (4), Centrocampista (5) e Attaccante (6) della Virtus XYZ siedono ad una tavola rettangolare (2 da un lato, 2 dall'altro e 2 capotavola). Sapendo che né il Portiere, né il Terzino siedono a capotavola, che lo Stopper è di fronte al Terzino e che il Portiere è di fronte al Libero, posso concludere che a capotavola:

- A) Siede lo Stopper.
- B) Vi sono Libero e Stopper.
- C) Vi è il centrocampista.

023. Se .?. sta a .?. allora è logico che Nuotare stia a Sarda.

- A) Moscone - Caravella. B) Mare - Dirigibile. C) Volare - Sparviere.

024. Individuare il termine che completa logicamente la proporzione. «mentire» sta a «mentore» come «volgare» sta a ..?..

- A) Voliera. B) Voltare. C) Volgere.

Leggere il brano e rispondere alle seguenti 5 domande. (025 - 029)

Ad ottobre 2018 si registra un aumento congiunturale dell'1,3% dell'indice dei prezzi alla produzione dell'industria. Su base annua si registra una crescita del 5,8%. Sul mercato interno i prezzi alla produzione dell'industria aumentano dell'1,8% su settembre e del 7,1% su base annua. Al netto del comparto energetico la dinamica congiunturale è stazionaria e si registra un incremento tendenziale molto più contenuto (+1,0%). Sul mercato estero la dinamica congiunturale è lievemente positiva (+0,1%) e su base annua si registra un aumento dell'1,9% (+1,5% area euro, +2,3% area non euro). Al netto dell'energia il ritmo di crescita tendenziale dei prezzi all'export è più contenuto (+1,0% per l'area euro e +1,3% per quella non euro). Nel trimestre agosto-ottobre si registra un incremento dei prezzi alla produzione nell'industria del 2,0% sul trimestre precedente; la dinamica congiunturale dei prezzi è più sostenuta sul mercato interno (+2,8%) rispetto a quello estero (+0,2%).

025. È corretto affermare che, al netto del comparto energetico, sul mercato interno la dinamica congiunturale è stazionaria?

- A) No, è sul mercato estero che la dinamica congiunturale è stazionaria.
- B) No, sul mercato interno la dinamica congiunturale è positiva.
- C) Sì, sul mercato interno la dinamica congiunturale è stazionaria.

026. Secondo il brano, il valore del 5,8% si riferisce:

- A) All'aumento congiunturale dell'indice dei prezzi alla produzione dell'industria.
- B) Alla crescita su base annua dell'indice dei prezzi alla produzione dell'industria.
- C) Esclusivamente al mercato interno.

AGENZIA DELLE ENTRATE
510 UNITÀ PROFILO PROFESSIONALE FUNZIONARIO, PER ATTIVITÀ AMMINISTRATIVO-TRIBUTARIA
QUESTIONARIO - 36

027. È corretto affermare che nel trimestre agosto-ottobre si registra un incremento dei prezzi alla produzione dell'industria del 2,0% sul trimestre precedente?

- A) No, si registra un incremento dei prezzi produzione dell'industria del 3% sul trimestre precedente.
 B) Sì.
 C) No, si registra un incremento dei prezzi di produzione dell'industria del 2% sullo stesso periodo dell'anno precedente.

028. Nel trimestre agosto-ottobre la dinamica congiunturale dei prezzi è più sostenuta sul mercato interno o su quello estero?

- A) Il brano nulla dice in proposito. B) Su quello estero. C) Su quello interno.

029. Sul mercato estero, al netto dell'energia il ritmo di crescita tendenziale dei prezzi dell'export:

- A) È minore per l'area euro rispetto a quello dell'area non euro.
 B) È uguale per l'area euro e l'area non euro.
 C) È maggiore per l'area euro rispetto a quello dell'area non euro.

030. Quale termine è il più adatto per indicare "qualcosa di sovrabbondante, più numeroso di quanto sarebbe utile o necessario"?

- A) Guidrigildo. B) Pletorico. C) Esecrabile.

031. Individuare tra i seguenti il sillogismo che conduce ad una falsa conclusione.

- A) Tutti i Salernitani amano le sfogliatelle. Maria ama le sfogliatelle, quindi è di Salerno.
 B) Tutti i Genovesi amano il cappon magro. Pietro è di Genova, quindi ama il cappon magro.
 C) Tutti i Milanesi amano il risotto allo zafferano. Riccardo è di Milano, quindi ama il risotto allo zafferano.

032. Data la parola "penna", quale tra quelle proposte è la meno attinente/collegabile?

- A) Traliccio. B) Rigata. C) Sfera.

033. Quale dei seguenti termini può sostituire la parola "callido" senza modificare il significato della frase ove essa è inserita?

- A) Candido. B) Bello. C) Astuto.

034. In quali dei seguenti punti i termini sono proposti nell'ordine NOME/VERBO/AGGETTIVO/AVVERBIO?

- A) Corrodibile/Accomunare/Chiaro/Concretamente.
 B) Comicità/Accertare/Corruzione/Comodamente.
 C) Certezza/Incrudire/Epico/Contrariamente.

035. In quale coppia, tra quelle proposte, i due vocaboli sono collegati da un rapporto di inclusione?

- A) Lavastoviglie, aspirapolvere.
 B) Lavastoviglie, elettrodomestici.
 C) Aspirapolvere, scopa.

036. Quali lettere non inserirebbe al posto degli spazi per ottenere una parola di senso compiuto ed uso corrente? R_SS_.

- A) E - A. B) O - I. C) I - U.

037. Trovare il termine intruso tra quelli proposti.

- A) Ceci. B) Mais. C) Fave.

038. Cosa significa negare la frase "tutti gli uffici sono rumorosi"?

- A) Esiste almeno un ufficio silenzioso.
 B) Nessun ufficio è silenzioso.
 C) Devono esistere almeno due uffici silenziosi.

039. La borsa di Anna è più capiente di quella di Beatrice, ma meno capiente di quella di Carola. La borsa di Debora è meno capiente di quella di Anna, ma più capiente di quella di Beatrice. La borsa di Elisa è più capiente di quella di Carola. Possiamo concluderne che...

- A) La borsa di Debora è la meno capiente.
 B) La borsa di Beatrice è la meno capiente.
 C) La borsa di Anna è la più capiente.

040. Quale, tra le seguenti serie di numeri, presenta un solo errore di battitura rispetto alla seguente sequenza?

5577311/177 - 566697/01 - 3253546.

- A) 5577311/777 - 566697/01 - 3253546.
 B) 5577311/177 - 566697/01 - 3253546.
 C) 5777311/177 - 566697/11 - 3253546.

041. Qual è il totale di "orologi" presenti nelle due tabelle? Quante "note" sono contenute rispettivamente nella prima e nella seconda tabella?

Tabella 1										Tabella 2									
♪	⌚	⌚	⌚	⌚	⌚	⌚	⌚	⌚	⌚	⌚	⌚	⌚	⌚	⌚	⌚	⌚	⌚	⌚	⌚
⌚	⌚	⌚	⌚	⌚	⌚	⌚	⌚	⌚	⌚	⌚	⌚	⌚	⌚	⌚	⌚	⌚	⌚	⌚	⌚
⌚	⌚	⌚	⌚	⌚	⌚	⌚	⌚	⌚	⌚	⌚	⌚	⌚	⌚	⌚	⌚	⌚	⌚	⌚	⌚

- A) 12. In entrambe le tabelle sono contenute 6 "note".
 B) 12. Nella tabella 1 sono contenute 6 "note", nella tabella 2 sono contenute 9 "note".
 C) 11. Nella tabella 1 sono contenute 5 "note", nella tabella 2 sono contenute 9 "note".

042. In quale dei seguenti gruppi la lettera Y non precede immediatamente la D e la lettera K non segue immediatamente la M?
 A) MKYDYKYDMDYKDMMDY.
 B) DMKDYKMDYMYDMDYKD.
 C) DYKDYKDYMDYKDMMDY.

043. Se la sequenza è "pari-pari-dispari-pari", quale stringa è scritta in modo errato?
 A) 2638229682526852265822962292.
 B) 8258225668922296825262988252.
 C) 6823286968232683226982256299.

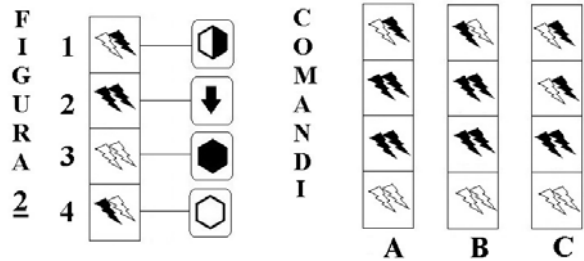

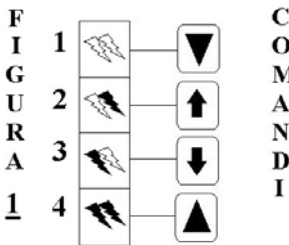
044. In quale sequenza di lettere le "C" sono a pari numero delle "T"?
 A) UCCCBCTPTUTCBCPTUT.
 B) CCCUCPUCBCTPTUTBTVT.
 C) CCCCTPTUTBMCTUTBMTU.

045. In quale, tra le seguenti sequenze di cifre, è presente, almeno una volta, la seguente stringa numerica "051895"?
 A) 1105147811105189510516891.
 B) 1895189511058951105189110.
 C) 1105187511057865110517851.

Osservare la figura e rispondere alle seguenti 2 domande. (046 - 047)

ELENCO COMANDI

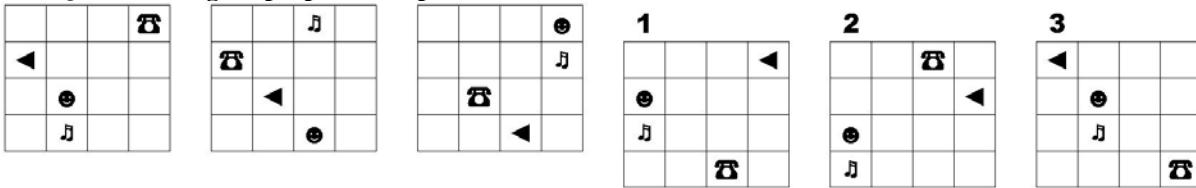
- | | | | |
|--|---|--|---|
|  scambia con il box numero 1 |  inverte i colori |  copia nel box numero 4 |  scambia con il box subito sopra |
|  colora il disegno nel box di bianco |  colora il disegno nel box di nero |  copia nel box subito sotto | |



046. Quale figura si ottiene applicando alla FIGURA 2 i COMANDI a lato?
 A) La figura A. B) La figura B. C) La figura C.

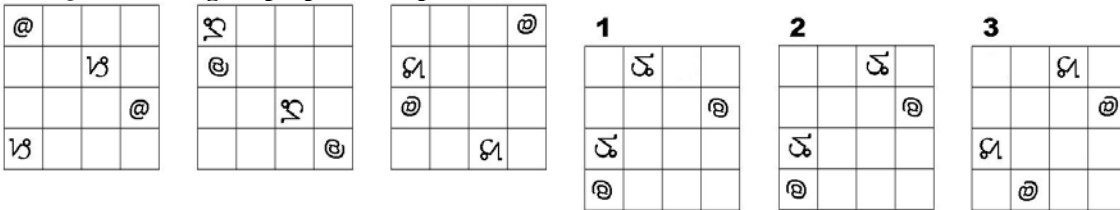
047. Quale figura si ottiene applicando alla FIGURA 1 i COMANDI a lato?
 A) La figura C. B) La figura B. C) La figura A.

048. Quale delle figure proposte completa la serie?



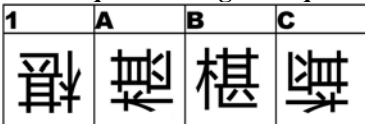
A) La figura 3. B) La figura 2. C) La figura 1.

049. Quale delle figure proposte completa la serie ?



A) La figura 3. B) La figura 1. C) La figura 2.

050. In quale dei seguenti quadrati è proposto il disegno 1, dopo essere stato ruotato e ribaltato?



A) Nel quadrato B. B) Nel quadrato C. C) Nel quadrato A.