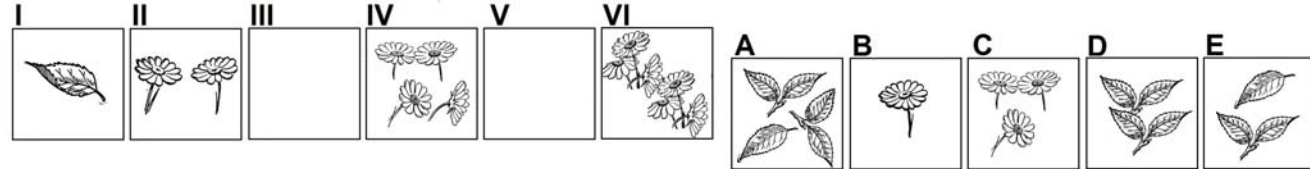


**AGENZIA DELLE ENTRATE**  
**510 UNITÀ PROFILO PROFESSIONALE FUNZIONARIO, PER ATTIVITÀ AMMINISTRATIVO-TRIBUTARIA**  
**QUESTIONARIO - 9**

<b>001. Con quali di questi numeri deve continuare la serie? 42 - 68 - 53 - 64 - 64 - 60 - 75 - 56 - ... - ....</b> A) 87 e 52.                                      B) 86 e 52.                                      C) 86 e 51.
<b>002. ! uguale +; / uguale x; " uguale - e ? uguale :</b> Svolgere la seguente espressione: $(3 / 9) ! (6 / 8) " (5 / 7) ! (6 / 3) " (4 / 2) =$ . A) 48.    B) 50.    C) 96.
<b>003. Quali numeri completano la serie? 105 - 110 - 101 - 106 - 97 - 102 - ... - ... - 89 - 94.</b> A) 93 e 98. B) 94 e 98. C) 93 e 99.
<b>004. Quale dei seguenti numeri eliminerebbe? 507 - 248 - 481 - 650 - 611.</b> A) 650.    B) 248.    C) 507.
<b>005. Quali segni matematici devono essere inseriti nell'ordine al posto dei punti affinché:</b> <div style="border: 1px solid black; padding: 5px; display: inline-block;">934 ... 837 ... 84 ... 8.579 ... 984 = 11.418</div> A) + - - + +. B) + + + + +. C) + + - - +.
<b>006. Nella graduatoria stilata dall'Università di Bologna sono attribuiti i seguenti punteggi: 3 p.ti per i residenti in Emilia Romagna, 4 p.ti per ogni figlio a carico e 1.pto per ogni anno di età. A quanti punti ha diritto la Sig.ra Tina, residente a Vercelli, di età pari a 56 anni e con 5 figli a carico?</b> A) 76 p.ti.    B) 75 p.ti.    C) 74 p.ti.
<b>007. La mia professoressa di matematica ama dire che nella classe la metà degli alunni è portata per la matematica, un quarto è svogliato, un settimo sono asini e tre sono femmine. Di quanti alunni è composta la mia classe?</b> A) 27 alunni.    B) 28 alunni.    C) 30 alunni.
<b>008. Quali numeri devono essere inseriti al posto dei puntini? 105 - 122 - ... - 156 - ... - 190 - 207.</b> A) 139 e 173.    B) 139 e 174.    C) 140 e 173.
<b>009. Se si moltiplica per 400 e si divide il risultato per 25 si ottiene 512. Il numero è:</b> A) 30.    B) 32.    C) 34.
<b>010. In luglio al Residence Lido i prezzi di listino sono maggiorati del 9%, mentre in agosto la maggiorazione è dell'11%. Egle ha soggiornato in luglio spendendo di listino 107 Euro. Quanto ha risparmiato rispetto a chi ha effettuato un soggiorno del tutto analogo e con lo stesso prezzo di listino ma nel mese di agosto?</b> A) Poco più di 2 Euro. B) Poco più di 3 Euro. C) Poco meno di 1 Euro.
<b>Leggere il brano e rispondere alle seguenti 6 domande. (011 - 016)</b>
<i>Marta non sa quale attività avviare tra: palestra, centro abbronzatura, centro estetico e stabilimento balneare. I costi per gli arredi sono euro: 61.000, 65.000, 68.000 e 71.000, ed i costi per le attrezzature sono euro: 9.000, 13.000, 21.000 e 29.000, entrambi non necessariamente in questo ordine. Il personale occorrente per le attività è: 3, 5, 7 e 9 addetti, non necessariamente in questo ordine. È inoltre noto che: l'attività per la quale occorrono 5 addetti ha costi di arredo di euro 61.000 e costi per le attrezzature inferiori a euro 13.000; 9 sono gli addetti necessari per centro estetico e i costi per le attrezzature sono superiori a euro 21.000; lo stabilimento balneare ha come costi di arredo euro 71.000 e per questa attività non occorrono 7 addetti; il centro abbronzatura ha come costi di arredi euro 65.000 mentre quelli per le attrezzature non sono euro 13.000.</i>
<b>011. Quale attività ha come costi per arredi 68.000 euro?</b> A) Il centro estetico.                                      B) Il centro abbronzatura.                                      C) Lo stabilimento balneare.
<b>012. Qual è l'attività che ha costi per le attrezzature maggiori?</b> A) La palestra.    B) Il centro estetico.    C) Il centro abbronzatura.
<b>013. Sulla base delle informazioni fornite, occorrono 3 addetti per l'avvio:</b> A) Del centro abbronzatura.                                      B) Del centro estetico.                                      C) Dello stabilimento balneare.
<b>014. Quale attività ha avviato Marta sapendo che è stata scelta quella che, in base ai costi di arredi, è ultima in ordine decrescente?</b> A) Lo stabilimento balneare.                                      B) La palestra.    C) Il centro abbronzatura.
<b>015. Quale attività richiede 5 addetti?</b> A) Lo stabilimento balneare.                                      B) Il centro abbronzatura.                                      C) La palestra.
<b>016. Sulla base delle informazioni fornite è corretto affermare che:</b> A) Per l'attività i cui costi per gli arredi sono di euro 71.000 occorrono 3 addetti. B) Per l'attività i cui costi per le attrezzature sono di euro 21.000 occorrono 3 addetti. C) Gli addetti necessari per lo stabilimento balneare sono 7.

**AGENZIA DELLE ENTRATE**  
**510 UNITÀ PROFILO PROFESSIONALE FUNZIONARIO, PER ATTIVITÀ AMMINISTRATIVO-TRIBUTARIA**  
**QUESTIONARIO - 9**

**017. Quali sono rispettivamente il terzo e il quinto elemento nella serie?**

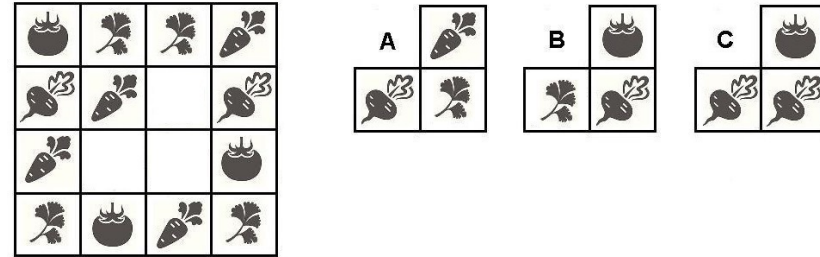


- A) Elementi E - A.                                      B) Elementi B - D.                                      C) Elementi C - A.

**018. Completare la seguente proporzione logica: “ceruleo” sta a “azzurro” come “cremisi” sta a “?”.**

- A) ? = marrone.                                      B) ? = giallo.                                      C) ? = rosso.

**019. Individuare la figura che completa logicamente la griglia.**



- A) Figura C.    B) Figura A.    C) Figura B.

**020. Quali dei seguenti termini integrano la serie? natica - calore - reciso - sonoro - \_\_\_\_\_ - \_\_\_\_\_.**

- A) Rosone - nevosio.  
 B) Rombo - bolide.  
 C) Rostro - sole.

**021. Individuare il termine che completa logicamente la proporzione. "zirlano" sta a "zingano" come "cablero" sta a ..?..**

- A) Caduto.    B) Caddero.    C) Cablato.

**022. Individuare la coppia che completa correttamente la proporzione. Asinara : Sardegna = (X) : Campania = Stromboli : (Y).**

- A) (X) Capri; (Y) Sardegna.  
 B) (X) Isola; (Y) Vulcano.  
 C) (X) Procida; (Y) Sicilia.

**023. Ad un tavolo tondo siedono: Alan, Bruna, Ciro, Dafne e Raul. Se Alan non è accanto a Dafne e Bruna è tra Ciro e Alan, di conseguenza Raul:**

- A) Siede tra Alan e Dafne.  
 B) Siede vicino a Ciro.  
 C) Non può sedere accanto a Dafne.

**024. Se X si trova tra A e B; A si trova tra Y e X; B si trova tra X e K; Y si trova tra C e A; K si trova tra B e D è sicuramente vero che:**

- A) A è più vicino a D che a K.  
 B) K è più vicino a B che a Y.  
 C) Non è possibile stabilire se X sia più vicino a B che a K.

**Leggere il brano e rispondere alle seguenti 5 domande. (025 - 029)**

*A ottobre '18 si stima che l'indice destagionalizzato della produzione industriale aumenti dello 0,1% rispetto a settembre. Nella media del trimestre agosto-ottobre '18 il livello della produzione cresce dello 0,8% rispetto ai tre mesi precedenti. L'indice destagionalizzato mensile mostra un aumento congiunturale solo nel comparto dei beni di consumo; variazioni negative registrano, invece, l'energia e, in modo più lieve, i beni intermedi e i beni strumentali. Corretto per gli effetti di calendario, a ottobre '18 l'indice è aumentato in termini tendenziali dell'1,0%. Nella media dei primi dieci mesi dell'anno la produzione è cresciuta dell'1,7% rispetto all'anno precedente. Gli indici corretti per gli effetti di calendario registrano a ottobre '18 una crescita tendenziale per i beni strumentali (+2,4) e i beni di consumo (+2,0); diminuzioni si osservano invece per l'energia (-1,5) e, in misura più contenuta, per i beni intermedi (-0,3). I settori di attività economica con i più elevati tassi di crescita tendenziale sono la fabbricazione di computer, prodotti di elettronica e ottica, apparecchi elettromedicali, apparecchi di misurazione e orologi (+5,9), le industrie alimentari, bevande e tabacco (+3,8) e le altre industrie manifatturiere, riparazione e installazione di macchine ed apparecchiature (+3,7). Le maggiori flessioni si rilevano invece nell'industria del legno, della carta e stampa (-5,4), nella fabbricazione di coke e prodotti petroliferi raffinati (-4,8) e nella produzione di prodotti farmaceutici di base e preparati farmaceutici (-3,6)*

**025. Gli indici corretti per gli effetti di calendario registrano a ottobre '18 una crescita tendenziale:**

- A) Per i beni di consumo.                                      B) Per i beni intermedi.                                      C) Per l'energia.

**026. Per i beni strumentali a ottobre '18 registra una crescita tendenziale:**

- A) Nessun indice.  
 B) Indice corretto per gli effetti di calendario.  
 C) Indice destagionalizzato mensile.

**AGENZIA DELLE ENTRATE**  
**510 UNITÀ PROFILO PROFESSIONALE FUNZIONARIO, PER ATTIVITÀ AMMINISTRATIVO-TRIBUTARIA**  
**QUESTIONARIO - 9**

**027. È conforme a quanto esposto nel brano l'affermazione:**

- A) Corretto per gli effetti di calendario, a ottobre '18 l'indice è aumentato in termini tendenziali dello 0,1%.  
 B) A ottobre '18 si stima che l'indice destagionalizzato della produzione industriale aumenti dell'1% rispetto a settembre.  
 C) Nella media dei primi dieci mesi dell'anno la produzione è cresciuta dell'1,7% rispetto all'anno precedente.

**028. Il settore industriale con il tasso tendenziale in valore assoluto più elevato di crescita/decrecita tra quelli di seguito citati è:**

- A) Coke e prodotti petroliferi raffinati.      B) Alimentari, bevande e tabacco.      C) Legno, carta e stampa.

**029. L'indice destagionalizzato mensile mostra un aumento congiunturale nel comparto dei beni:**

- A) Intermedi.      B) Strumentali.      C) Di consumo.

**030. In quali dei seguenti punti i termini sono proposti nell'ordine NOME/VERBO/AGGETTIVO/AVVERBIO?**

- A) Presente/Spesso/Presenza/Recidere.  
 B) Rozzamente/Santificare/Segretezza/Saggio.  
 C) Turgidità/Perfezionare/Pigro/Quietamente.

**031. Cosa significa negare la frase "tutti i dottori sono cordiali"?**

- A) Nessun dottore è burbero.  
 B) Devono esistere almeno due dottori burberi.  
 C) Esiste almeno un dottore burbero.

**032. Quali lettere non inserirebbe al posto degli spazi per ottenere una parola di senso compiuto ed uso corrente? L\_M\_.**

- A) A - E.  
 B) U - E.  
 C) O - A.

**033. Trovare il termine intruso tra quelli proposti.**

- A) Liuto.      B) Basso.      C) Sassofono.

**034. Quale dei seguenti termini può sostituire la parola "esecrabile" senza modificare il significato della frase ove essa è inserita?**

- A) Abominevole.  
 B) Encomiabile.  
 C) Esercitabile.

**035. Data la parola "bocca", quale tra quelle proposte è la meno attinente/collegabile?**

- A) Aperta.      B) Stomaco.      C) Prebenda.

**036. Individuare tra i seguenti il sillogismo che conduce ad una falsa conclusione.**

- A) Se lavori in un ambiente piacevole, rendi di più. Alberto lavora in un ambiente piacevole, dunque rende di più.  
 B) Tutti i collaboratori scolastici sono pazienti. Mirka è paziente, quindi è una collaboratrice scolastica.  
 C) Se studi ciò di cui sei appassionato, ti laurei prima. Debora studia ciò di cui è appassionata, dunque si laurea prima.

**037. In quale coppia, tra quelle proposte, i due vocaboli sono collegati da un rapporto di inclusione?**

- A) Birra, vino.  
 B) Lager, Pilsner.  
 C) Lager, birra.



























**038. Chi è entrato almeno una volta nella camera della Regina, dopo non può più entrare nella camera della Principessa. Solo chi è già entrato nella camera del Principe può entrare nella camera della Principessa. Chi è entrato almeno una volta nella camera della Principessa, dopo non può più entrare nella camera del Re. Se sono entrato nella camera del Re...**

- A) Sicuramente sono entrato prima nella camera del Principe.  
 B) Sicuramente non sono entrato prima nella camera della Regina.  
 C) Potrei essere entrato prima nella camera della Regina.

**039. Quale termine è il più adatto per indicare «un tema troppo schematico, inconsistente, che tende alla banalità»?**

- A) Eristico.      B) Opimo.      C) Puerile.

**040. Qual è il totale di "elefanti" presenti nelle due tabelle? Quante "pecore" sono presenti rispettivamente nella prima e nella seconda tabella?**

Tabella 1										Tabella 2															
																									

- A) 13. Nella tabella 1 sono presenti 5 "pecore", nella tabella 2 sono presenti 6 "pecore".  
 B) 13. Nella tabella 1 sono presenti 4 "pecore", nella tabella 2 sono presenti 5 "pecore".  
 C) 12. Nella tabella 1 sono presenti 5 "pecore", nella tabella 2 sono presenti 6 "pecore".

**041. In quale riga è presente la seguente sequenza: SSRRRSSR?**

- A) SSRRRSSRRRSRSRSSRS.  
 B) RSSSSRSRSSRRSSRS.  
 C) RSSRRSSRSRRSSRRRS.

**042. Quale, tra le seguenti serie di numeri, non presenta errori di battitura rispetto alla seguente sequenza?  
 78995/533 - 565774531 - 5774,9707.**

- A) 78995/513 - 565774531 - 5774,9707.
- B) 78995/533 - 565774531 - 5774,9707.
- C) 78995/533 - 565774431 - 5874,9007.

**043. Individuare il gruppo di numeri che risulti esattamente il contrario della seguente base: 11349844560204871009.**

- A) 90017840205644849311.
- B) 90017840206544894311.
- C) 90018740205644984311.

**044. In quale dei seguenti gruppi il numero 4 non segue immediatamente lo 0 e il numero 5 non precede immediatamente il 7?**

- A) 5405074005544507077507405.
- B) 5050740405544577077570044.
- C) 5050740405544577077507404.

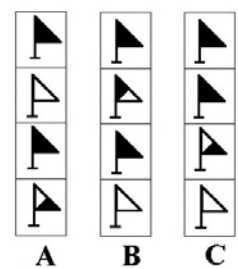
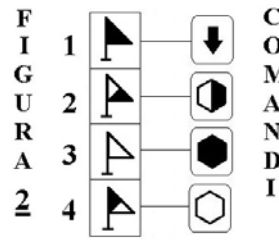
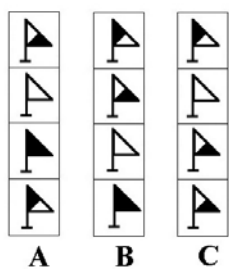
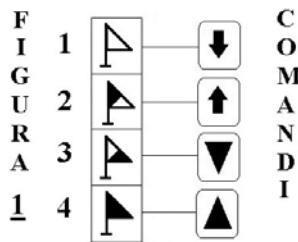
**045. Se la sequenza è "dispari-dispari-pari-dispari", quale stringa è scritta in modo corretto?**

- A) 5969392355295569992355693529.
- B) 9352599239325592559893525992.
- C) 5923932559255989352599299259.

**Osservare la figura e rispondere alle seguenti 2 domande. (046 - 047)**

**ELENCO COMANDI**

- scambia con il box numero 1
- inverte i colori
- copia nel box numero 4
- scambia con il box subito sopra
- colora il disegno nel box di bianco
- colora il disegno nel box di nero
- copia nel box subito sotto



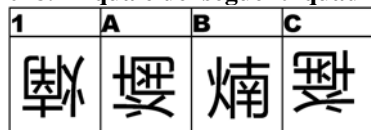
**046. Quale figura si ottiene applicando alla FIGURA 1 i COMANDI a lato?**

- A) La figura B.
- B) La figura C.
- C) La figura A.

**047. Quale figura si ottiene applicando alla FIGURA 2 i COMANDI a lato?**

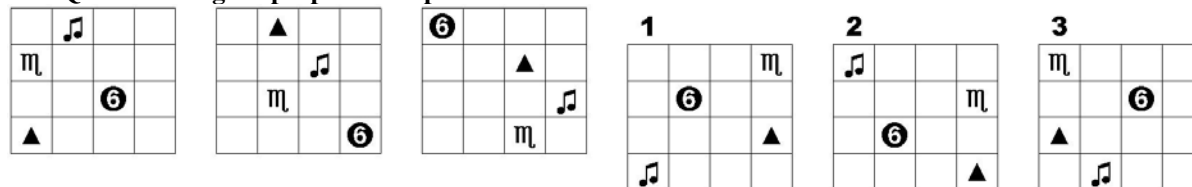
- A) La figura B.
- B) La figura C.
- C) La figura A.

**048. In quale dei seguenti quadrati è proposto il disegno 1, dopo essere stato ruotato e ribaltato?**



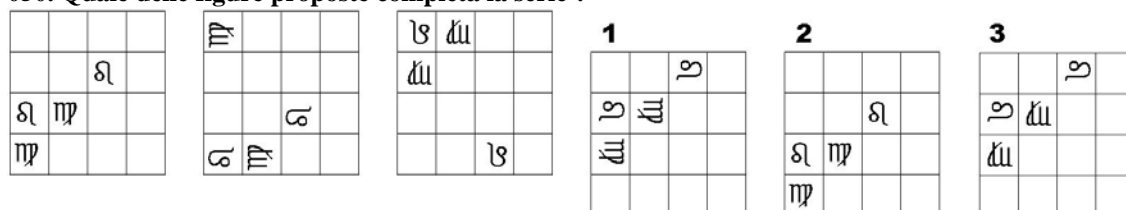
- A) Nel quadrato B.
- B) Nel quadrato A.
- C) Nel quadrato C.

**049. Quale delle figure proposte completa la serie?**



- A) La figura 3.
- B) La figura 1.
- C) La figura 2.

**050. Quale delle figure proposte completa la serie ?**



- A) La figura 1.
- B) La figura 3.
- C) La figura 2.