

<p><b>001. Il numero * viene moltiplicato per 18, diminuito di 46 ed infine diviso per 4, ottenendo 218. Il numero * è:</b> A) 53. B) 49. C) 51.</p>	
<p><b>002. In un centro di addestramento cinofilo, i cani vengono addestrati per guardia, guida e salvataggio in mare. Sapendo che i cani sono 50 e che, di questi, i 2/5 vengono addestrati per guardia; i 3/10 per guida e i rimanenti per salvataggio in mare; quanti sono i cani che vengono addestrati per salvataggio in mare e che frazione rappresentano di tutto il centro?</b> A) Sono 12 e rappresentano 4/5 di tutto il centro. B) Sono 15 e rappresentano 3/10 di tutto il centro. C) Sono 2 e rappresentano 1/25 di tutto il centro.</p>	
<p><b>003. Con quali di questi numeri deve continuare la serie? 173 - 173 - 164 - 179 - 155 - 185 - 146 - 191 - ... - ....</b> A) 137 e 197. B) 137 e 199. C) 139 e 197.</p>	
<p><b>004. Quale dei seguenti numeri eliminerebbe? 312 - 978 - 507 - 195 - 468.</b> A) 312. B) 195. C) 978.</p>	
<p><b>005. La Società finanziaria XX Spa per un prestito di Euro 50.000 per un anno, alla fine del periodo riscuoterà la cifra prestata maggiorata del 4%. La Società finanziaria YY Spa presta la stessa cifra chiedendo alla fine la cifra, Euro 1.020 di spese di istruttoria/varie e il 3% del capitale come interessi. Quale proposta è più conveniente? Qual è il vantaggio in percentuale?</b> A) XX Spa Euro 52.000; YY Spa Euro 52.720; 2,7%. B) XX Spa Euro 52.000; YY Spa Euro 52.520; circa 1%. C) XX Spa Euro 52.000; YY Spa Euro 57.520; 3,5%.</p>	
<p><b>006. Quali numeri completano la serie? 75 - 90 - * - 97 - 89 - 104 - 96 - 111 - 103 - *.</b> A) 81 - 117. B) 80 - 116. C) 82 - 118.</p>	
<p><b>007. Quali numeri devono essere inseriti al posto dei puntini? 439 - 468 - ..... - 526 - ..... - 584.</b> A) 497 - 555. B) 498 - 554. C) 498 - 555.</p>	
<p><b>008. Sia ! l'operatore addizione, / l'operatore prodotto, " l'operatore sottrazione e ? l'operatore divisione. Svolgere quindi la seguente espressione:</b> <math>\{[28''(19!7)]/1\} =</math>. A) 1. B) 2. C) 4.</p>	
<p><b>009. A mezzanotte montano per il 2° turno di guardia 4 soldati, che iniziano e finiscono il proprio giro di ronda nel posto di guardia. I giri di ronda durano rispettivamente 3, 5, 6, 10 minuti, a che ora si incontreranno al posto di guardia per la prima volta?</b> A) 01.30. B) 24.24. C) 24.30.</p>	
<p><b>010. Quale simbolo deve essere inserito al posto della Y?</b>  <table border="1" style="margin-left: 20px; border-collapse: collapse;"> <tr> <td><math>(2x2)+(5x4)+(8x2)</math> Y <math>(2x3)+(4x4)+(4x9)</math></td> </tr> </table>  A) &lt;. B) &gt;. C) =.</p>	$(2x2)+(5x4)+(8x2)$ Y $(2x3)+(4x4)+(4x9)$
$(2x2)+(5x4)+(8x2)$ Y $(2x3)+(4x4)+(4x9)$	
<p style="text-align: center;"><b>Leggere il brano e rispondere alle seguenti 6 domande. (011 - 016)</b></p> <p><i>Giovanni non sa quale attività avviare tra l'aprire un chiosco di sushi, una hamburgerie, una ludoteca o un food delivery. I costi per l'onorario del notaio sono euro: 1.750, 2.350, 3.720 e 3.950, ed i costi di avviamento sono euro: 5.000, 7.000, 9.000 e 9.800, entrambi non necessariamente in questo ordine. Il personale occorrente per le attività è: 9, 10, 11 e 13 addetti, non necessariamente in questo ordine.</i></p> <p><i>È inoltre noto che: per l'attività per la quale occorrono 10 addetti l'onorario del notaio è di 1.750 euro ed i costi per l'avviamento sono inferiori a euro 7.000; 13 sono gli addetti necessari nella ludoteca e i costi per l'avviamento sono superiori a euro 9.000; per il food delivery l'onorario del notaio è euro 3.950 e per questa attività non occorrono 11 addetti; per la hamburgerie l'onorario del notaio è di euro 2.350 mentre il costo dell'avviamento è euro 7.000.</i></p>	
<p><b>011. Sulla base delle informazioni fornite è corretto affermare che:</b> A) Per l'attività per cui il costo dell'avviamento è euro 9.000 occorrono 13 addetti. B) Gli addetti necessari per la hamburgerie sono 11. C) L'onorario del notaio per il chiosco di sushi è 3.720 euro.</p>	
<p><b>012. Quale attività ha avviato Giovanni sapendo che è stata scelta quella che richiede il minor numero di addetti?</b> A) Il food delivery. B) Il chiosco di sushi. C) La hamburgerie.</p>	
<p><b>013. Quale attività ha avviato Giovanni sapendo che è stata scelta quella che, in base ai costi di avviamento, è terza in ordine crescente?</b> A) Il food delivery. B) La hamburgerie. C) Il chiosco di sushi.</p>	
<p><b>014. Sulla base delle informazioni fornite, occorrono 11 addetti per l'avvio:</b> A) Della hamburgerie. B) Del food delivery. C) Della ludoteca.</p>	
<p><b>015. Per il chiosco di sushi:</b> A) L'onorario del notaio è 2.350 euro. B) I costi di avviamento sono 9.000 euro. C) Occorrono 10 addetti.</p>	
<p><b>016. Quale attività ha come costi di avviamento 9.000 euro?</b> A) La hamburgerie. B) Il food delivery. C) La ludoteca.</p>	

**AGENZIA DELLE ENTRATE**  
**510 UNITÀ PROFILO PROFESSIONALE FUNZIONARIO, PER ATTIVITÀ AMMINISTRATIVO-TRIBUTARIA**  
**QUESTIONARIO - 63**

**017. Individuare la coppia che completa correttamente la proporzione. Monte Conero : Marche = (X) : Abruzzo = Terminillo : (Y).**

- A) (X) Monte Amiata ; (Y) Toscana.  
 B) (X) Monte Lauro ; (Y) Emilia Romagna.  
 C) (X) Monte Velino ; (Y) Lazio.

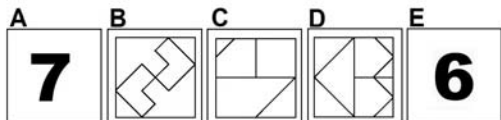
**018. Quali dei seguenti termini integrano la serie? Casella – latrato – tonnarello – lontano - \_\_\_\_\_ - \_\_\_\_\_.**

- A) Nostromo – moresco.  
 B) Novità – valeriana.  
 C) Nocivo – valoroso.

**019. Individuare il termine che completa logicamente la proporzione. "cestello" sta a "castello" come "ramare" sta a ..?..**

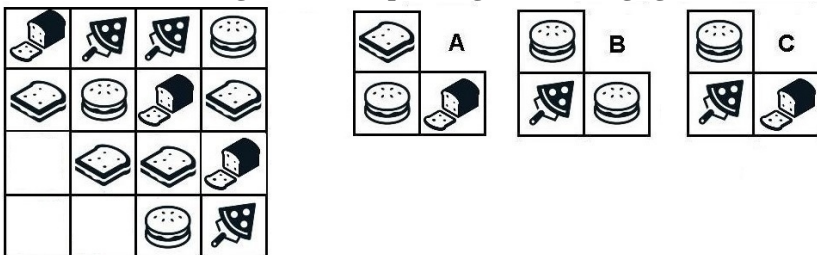
- A) Ramato. B) Ramarro. C) Rimare.

**020. La proporzione si completa con gli elementi indicati con:**



- A) Le lettere A – C. B) Le lettere E – B. C) Le lettere E – D.

**021. Individuare la figura che completa logicamente la griglia.**



- A) Figura C. B) Figura A. C) Figura B.

**022. Nell'ambito di incontri sulle autonomie un ligure (1), un campano (2), un siciliano (3), un veneto (4), un toscano (5) e un pugliese (6) siedono ad una tavola rettangolare (2 da un lato, 2 dall'altro e 2 capotavola). Sapendo che né il veneto, né il campano siedono a capotavola, che il veneto è di fronte al ligure e il siciliano è di fronte al campano, posso concludere che a capotavola:**

- A) Forse vi è il veneto.  
 B) Vi è il pugliese.  
 C) Non vi è il pugliese.

**023. Se .?. sta a .?. allora è logico che Nuotare stia a Sogliola.**

- A) Saltare - Rana. B) Rana - Girino. C) Nuotare – Pipistrello.

**024. Se M si trova tra H e W; J si trova tra Q e H; Z si trova tra F e Q; Q si trova tra Z e J; H si trova tra J e M è sicuramente vero che:**

- A) Q è più vicino a J che a W.  
 B) Non è possibile stabilire se M sia più vicino a J che a F.  
 C) W è più vicino a Z che a H.

**Leggere il brano e rispondere alle seguenti 5 domande. (025 - 029)**

***FIDUCIA DEI CONSUMATORI E DELLE IMPRESE** - A maggio 2019 l'indice del clima di fiducia dei consumatori torna ad aumentare dopo tre mesi consecutivi di calo, passando da 110,6 a 111,8; un'evoluzione positiva si rileva anche per l'indice composito del clima di fiducia delle imprese, che aumenta da 98,8 a 100,2. Tutte le componenti dell'indice di fiducia dei consumatori sono in miglioramento: il clima economico e quello corrente registrano gli incrementi più marcati mentre un aumento più contenuto si registra per il clima personale e, soprattutto, per quello futuro. Più in dettaglio, il clima economico sale da 122,8 a 125,9, il clima corrente aumenta da 106,9 a 109,6 il clima personale cresce da 105,9 a 107,4, e il clima futuro passa da 115,6 a 115,8. Con riferimento alle imprese, l'indice di fiducia registra un aumento diffuso a tutti i settori coperti dalle indagini sulla fiducia: nel settore manifatturiero l'indice passa da 100,8 a 102,0, nelle costruzioni aumenta da 141,2 a 144,3, nei servizi va da 99,1 a 99,3 e nel commercio al dettaglio sale da 101,3 a 102,6.*

**025. A maggio 2019 passa da 110,6 a 111,8 l'indice del clima di fiducia dei consumatori dopo:**

- A) 6 mesi di calo. B) 3 mesi di calo. C) 2 mesi di calo.

**026. 1. Indice del clima di fiducia dei consumatori. 2. Indice composito del clima di fiducia delle imprese. Uno dei due indici fa registrare un incremento numerico maggiore?**

- A) No. B) Sì, l'1. C) Sì, il 2.

AGENZIA DELLE ENTRATE  
510 UNITÀ PROFILO PROFESSIONALE FUNZIONARIO, PER ATTIVITÀ AMMINISTRATIVO-TRIBUTARIA  
QUESTIONARIO - 63

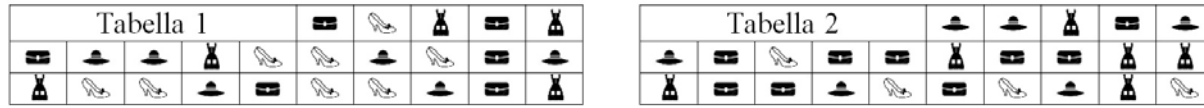
<b>027. Quante sono le componenti dell'indice di fiducia dei consumatori?</b> A) 4. B) 3. C) 5.
<b>028. Quale delle seguenti componenti dell'indice di fiducia dei consumatori fa registrare un incremento numerico pari a 2,2?</b> A) Nessuno. B) Il clima corrente. C) Il clima personale.
<b>029. Con riferimento alle imprese, quale settore fa registrare l'incremento numerico minore?</b> A) Servizi. B) Commercio al dettaglio. C) Costruzioni.
<b>030. Data la parola "borsa", quale tra quelle proposte è la meno attinente/collegabile?</b> A) Spalla. B) Saluto. C) Spesa.
<b>031. Cosa significa negare la frase "tutti i dipinti sono falsi"?</b> A) Nessun dipinto è autentico. B) Esiste almeno un dipinto autentico. C) Devono esistere almeno due dipinti autentici.
<b>032. Chi ha letto almeno una volta "La Divina Commedia", dopo non può più leggere il "Decameron". Solo chi ha letto "I Promessi Sposi" può leggere il "Decameron". Chi ha letto almeno una volta il "Decameron", dopo non può più leggere "I Malavoglia". Se ho letto "I Malavoglia"...</b> A) Sicuramente ho letto prima "I Promessi Sposi". B) Sicuramente non ho letto prima "La Divina Commedia". C) Potrei aver letto prima "La Divina Commedia".
<b>033. In quali dei seguenti punti i termini sono proposti nell'ordine NOME/VERBO/AGGETTIVO/AVVERBIO?</b> A) Marinaio/Rinnovare/Geloso/Crudelmente. B) Madornale/Finalizzare/Esternamente/Follia. C) Malinconico/Stupire/Ghiotto/Saporitamente.
<b>034. Quali lettere non inserirebbe al posto degli spazi per ottenere una parola di senso compiuto ed uso corrente?</b> B RR _ A) I - A. B) E - I. C) U - O.
<b>035. Individuare tra i seguenti il sillogismo che conduce ad una falsa conclusione.</b> A) Tutte le ragazze di Vicenza sono intelligenti. Io sono di Vicenza, quindi sono intelligente. B) Se leggi Volo allora non leggi Baricco. Io leggo Volo, quindi non leggo Baricco. C) Tutti i siciliani mangiano i carciofi. Io mangio i carciofi, dunque sono siciliano.
<b>036. Trovare il termine intruso tra quelli proposti.</b> A) Ballerine. B) Loden. C) Décoletté.
<b>037. In quale coppia, tra quelle proposte, i due vocaboli sono collegati da un rapporto di inclusione?</b> A) Ginecologo, vagina. B) Cardiologo, ginecologo. C) Cardiologo, medico.
<b>038. Quale termine è il più adatto per indicare "fecondità, fertilità, abbondanza e copiosità"?</b> A) Ubertà. B) Suità. C) Aseità.
<b>039. Quale dei seguenti termini può sostituire la parola "apostata" senza modificare il significato della frase ove essa è inserita?</b> A) Divulgatore. B) Rinnegato. C) Seguace.
<b>040. Se la sequenza è "dispari-dispari-pari-pari", quale stringa è scritta in modo errato?</b> A) 132499823124552239287164. B) 912635649188356211225946. C) 536897241526162899261584.
<b>041. In quale riga è presente la seguente sequenza: ABRACAD?</b> A) ZXVBYRQWEPILOIHJKLRIN. B) BNMUITYEOTRUDBCUSHGUB. C) VCBNRYTIOLKABRACADNAI.
<b>042. In quale dei seguenti gruppi la lettera P non precede immediatamente la A e la lettera R non segue immediatamente la N?</b> A) PDKFRPOOAENOFRSFNPII. B) ASKFKJSPARENDRSDFNPIF. C) DPFKDSASNREIPAPDFSNF.

043. Quale, tra le seguenti serie di numeri, non presenta errori di battitura rispetto alla seguente sequenza?

5678 - 101,9706 - 4354169.

- A) 100,7906 - 4354169 - 5678.  
B) 5687 - 4345169 - 101,9706.  
C) 101,9706 - 5678 - 4354169.

044. Qual è il totale di "scarpe" presenti nelle due tabelle? Quante "borse" sono contenute rispettivamente nella prima e nella seconda tabella?



- A) 11. Nella tabella 1 sono contenute 6 "borse", nella tabella 2 sono contenute 9 "borse".  
B) 12. Nella tabella 1 sono contenute 6 "borse", nella tabella 2 sono contenute 8 "borse".  
C) 12. Nella tabella 1 sono contenute 6 "borse", nella tabella 2 sono contenute 9 "borse".

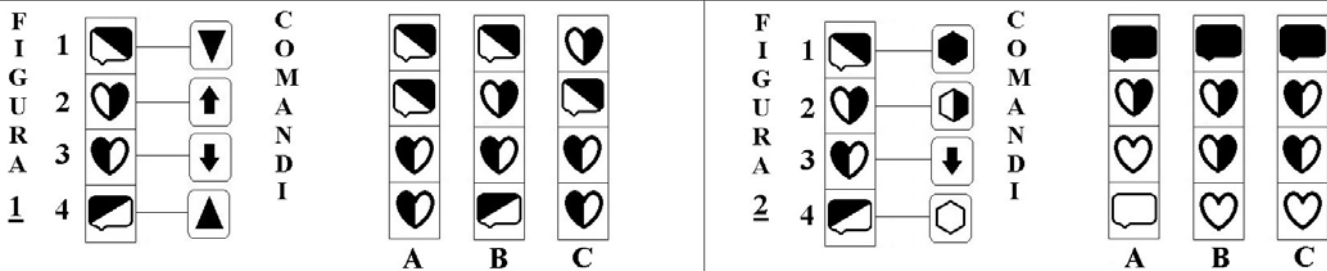
045. Individuare il gruppo di numeri che risulti esattamente il contrario della seguente base: 361907623905612430.

- A) 034216509326709163.  
B) 034216509325709163.  
C) 034216503926709163.

Osservare la figura e rispondere alle seguenti 2 domande. (046 - 047)

ELENCO COMANDI

- scambia con il box numero 1      inverti i colori      copia nel box numero 4      scambia con il box subito sopra  
 colora il disegno nel box di bianco      colora il disegno nel box di nero      copia nel box subito sotto



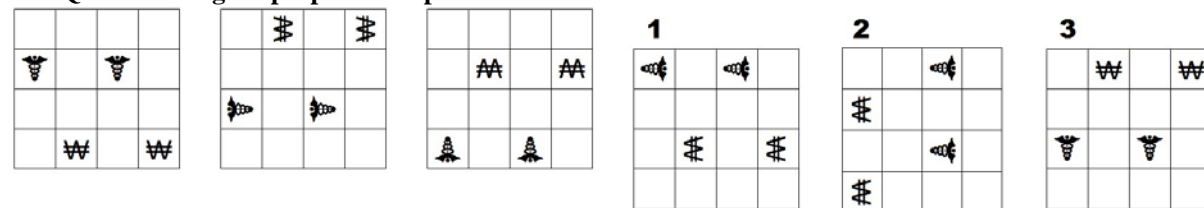
046. Quale figura si ottiene applicando alla FIGURA 2 i COMANDI a lato?

- A) La figura A.      B) La figura B.      C) La figura C.

047. Quale figura si ottiene applicando alla FIGURA 1 i COMANDI a lato?


- A) La figura C.      B) La figura A.      C) La figura B.

048. Quale delle figure proposte completa la serie ?



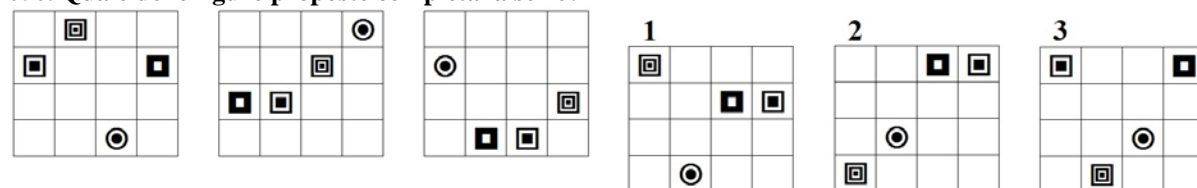
- A) La figura 2.      B) La figura 3.      C) La figura 1.

049. In quale dei seguenti quadrati è proposto il disegno 1, dopo essere stato ruotato e ribaltato?



- A) Nel quadrato A.      B) Nel quadrato B.      C) Nel quadrato C.

050. Quale delle figure proposte completa la serie?



- A) La figura 2.      B) La figura 3.      C) La figura 1.