

AGENZIA DELLE ENTRATE
510 UNITÀ PROFILO PROFESSIONALE FUNZIONARIO, PER ATTIVITÀ AMMINISTRATIVO-TRIBUTARIA
QUESTIONARIO - 1

001. Quali segni matematici devono essere inseriti nell'ordine al posto dei punti affinché:

$641 \dots 874 \dots 32 \dots 8.741 \dots 132 = 10.420$

- A) + - - + +. B) + + + + +. C) + + - - +.

002. In questo istante a Filadelfia sono le ore 01:45. A Londra il fuso orario è di 7 ore in avanti rispetto a Filadelfia; a Boston il fuso orario è di 4 ore indietro rispetto a Londra e a Roma è di 5 ore in avanti rispetto a Boston. Che ore sono, in questo stesso istante, a Roma?

- A) Le 10:45. B) Le 08:45. C) Le 09:45.

003. Se si moltiplica un numero per la differenza tra 26 e 14 si ottiene 288. Il numero è:

- A) 22. B) 24. C) 26.

004. Quali numeri devono essere inseriti al posto dei puntini? 141 - 158 - ... - 192 - ... - 226 - 243.

- A) 175 e 210.
B) 176 e 209.
C) 175 e 209.

005. Nonna Luce ha 10 nipoti; Nonna Leda ha 5 nipoti; Nonna Lea ha 7 nipoti e Nonna Lia ne ha 9. Quanti nipoti hanno in media le 4 nonne?

- A) 6,75. B) 7,25. C) 7,75.

006. Il costo di una poltrona è $\frac{7}{9}$ del costo di un divano. Il costo di entrambi è Euro 640. Quanto costa ciascuno dei due mobili?

- A) Euro 280 e Euro 360.
B) Euro 270 e Euro 370.
C) Euro 290 e Euro 350.

007. Con quali di questi numeri deve continuare la serie? 43 - 76 - 56 - 61 - 69 - 46 - 82 - 31 - ... -

- A) 95 e 16. B) 96 e 16. C) 95 e 15.

008. Quali numeri completano la serie? 71 - 74 - 67 - 70 - 63 - 66 - ... - ... - 55 - 58.

- A) 60 e 62.
B) 59 e 63.
C) 59 e 62.

009. Quale dei seguenti numeri eliminerebbe? 169 - 322 - 70 - 210 - 175.

- A) 169. B) 322. C) 210.

010. Usando solo la cifra "5" si sono costruite espressioni con risultati diversi. In quale delle seguenti il risultato è "3"?

- A) $? = (5 + 5 \times 5) / 5 - 5$.
B) $? = 5 - 5 / 5 - 5 / 5$.
C) $? = 5 - 55 / 55$.

Leggere il brano e rispondere alle seguenti 6 domande. (011 - 016)

Loredana ha deciso di acquistare un paio di occhiali da vista fra quattro possibili: 1) Isotta, 2) Alma, 3) Clarissa, 4) Diamante. Le forme delle lenti sono: ovali, circolari, squadrate, a occhi di gatto non necessariamente in questo ordine; i prezzi degli occhiali sono euro: 80, 90, 120 e 180 non necessariamente in questo ordine. I colori delle lenti sono: marrone, giallo, blu e verde, non necessariamente in questo ordine.

È inoltre noto che: i Clarissa costano 180 euro e hanno le lenti squadrate di colore marrone; gli occhiali che costano 80 euro hanno le lenti a occhi di gatto; gli Alma hanno le lenti ovali di colore giallo; i Diamante costano 120 euro e le lenti non sono verdi.

011. Quali occhiali costano 90 euro?

- A) Quelli con le lenti verdi.
B) Quelli con le lenti circolari.
C) Quelli con le lenti gialle.

012. Gli occhiali con le lenti verdi:

- A) Hanno forma circolare. B) Hanno forma ovale. C) Hanno forma a occhi di gatto.

013. Quali occhiali hanno le lenti a forma di occhi di gatto?

- A) Isotta.
B) Quelli che costano 120 euro.
C) Clarissa.

014. Sulla base delle informazioni fornite, indicare l'affermazione corretta.

- A) Gli Isotta costano 80 euro.
B) Gli occhiali con le lenti blu costano 90 euro.
C) Gli Alma costano 120 euro.

015. Quali occhiali sceglierebbe Loredana se decidesse per quelli con le lenti verdi?

- A) Diamante. B) Isotta. C) Clarissa.

AGENZIA DELLE ENTRATE
510 UNITÀ PROFILO PROFESSIONALE FUNZIONARIO, PER ATTIVITÀ AMMINISTRATIVO-TRIBUTARIA
QUESTIONARIO - 1

016. Quali occhiali potrebbe scegliere Loredana se avesse a disposizione non più di 100 euro?

- A) Quelli con le lenti verdi o gialle.
- B) Quelli con le lenti verdi o blu.
- C) Quelli con le lenti gialle o marroni.

017. Individuare l'intruso tra i seguenti termini, accomunati tra loro da un legame di tipo logico: macaron; profiterole; quiche Lorraine; éclair; Saint Honoré.

- A) Quiche Lorraine.
- B) Macaron.
- C) Profiterole.

018. Se X si trova tra A e B; A si trova tra Y e X; B si trova tra X e K; Y si trova tra C e A; K si trova tra B e D è sicuramente vero che:

- A) Non è possibile stabilire se K sia più vicino a X che a Y.
- B) Y è più vicino a B che a K.
- C) D è più vicino a C che a Y.

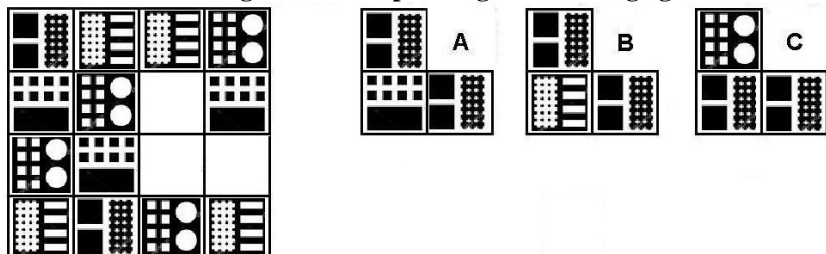
019. Quali dei seguenti termini integrano la serie? Fucina – nababbo – botanica – cammello - _____ - _____.

- A) Libertà - taurino.
- B) Lievemente – tacito.
- C) Lotto - tostapane.

020. Individuare il termine che completa logicamente la proporzione. "sapore" sta a "salire" come "denaro" sta a ..?..

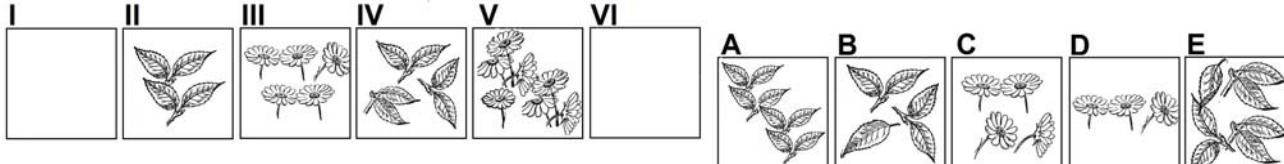
- A) Decoro.
- B) Desueto.
- C) Decano.

021. Individuare la figura che completa logicamente la griglia.



- A) Figura B.
- B) Figura A.
- C) Figura C.

022. Quali sono rispettivamente il primo e il sesto elemento nella serie?



- A) Elementi C - E.
- B) Elementi B - A.
- C) Elementi D - A.

023. Titti, Gatto Silvestro, Willy il coyote, Roger Rabbit, Hello Kitty e Winnie Poo si riuniscono ad un tavolo rotondo per discutere delle royalties sui cartoni animati. Sappiamo che: Titti è seduto tra Gatto Silvestro e Roger Rabbit; Roger Rabbit è seduto vicino a Hello Kitty; Hello Kitty non è seduta vicino a Winnie Poo. Vicino a chi è seduto Gatto Silvestro?

- A) Vicino a Winnie Poo.
- B) Vicino a Roger Rabbit.
- C) Vicino a Willy il coyote.

024. Individuato il legame che mette A in relazione a B, trovare C. A (Alleghe): B (Veneto) = C (..?..) : D (Friuli- Venezia Giulia).

- A) Scrivia.
- B) Beigua.
- C) Cavazzo.

Leggere il brano e rispondere alle seguenti 5 domande. (025 - 029)

C'è tempo fino al 12/12/2018 per rispondere online, dal pc di casa o anche dalle postazioni web messe a disposizione dal Centro Comunale di Rilevazione, al questionario del Censimento Permanente della Popolazione (CPP) che ha coinvolto un campione di famiglie in tutta Italia. Fino al 20/12 sarà invece possibile ricevere la visita a domicilio di un rilevatore o recarsi nel centro comunale di rilevazione per un'intervista con un operatore. Sono oltre un milione (1.073.724 per la precisione) i questionari già compilati per il nuovo CPP. Un aspetto rilevante è il risparmio ottenuto: si potranno tagliare di circa il 50% i costi rispetto al Censimento 2011, contenendo anche in maniera sensibile il disturbo statistico sulle famiglie. La partecipazione al censimento è un obbligo di legge e quindi soggetto a sanzione in caso d'inadempienza. L'invito dell'Istat è di compilare il questionario per contribuire al miglioramento sostanziale dei registri anagrafici, al rafforzamento sistematico dell'apparato statistico organizzativo dei comuni e all'aggiornamento dei dati sulla popolazione italiana. Per ulteriori informazioni o per richiedere assistenza vi invitiamo a contattare il numero verde Istat: 800 811 177.

AGENZIA DELLE ENTRATE
510 UNITÀ PROFILO PROFESSIONALE FUNZIONARIO, PER ATTIVITÀ AMMINISTRATIVO-TRIBUTARIA
QUESTIONARIO - 1

025. Per quale delle seguenti situazioni c'è tempo solo fino al 12/12/2018:

- A) Per rispondere online dalle postazioni web messe a disposizione dal Centro Comunale di Rilevazione al questionario del CPP.
- B) Per recarsi nel centro comunale di rilevazione per un'intervista con un operatore.
- C) Per ricevere la visita a domicilio di un rilevatore.

026. Alla luce di quanto esposto nel brano è corretto affermare che:

- A) Per richiedere ulteriori informazioni è possibile contattare il numero verde Istat: 800 811 117.
- B) Compilando il questionario si contribuisce anche al rafforzamento sistematico dell'apparato statistico organizzativo dei comuni.
- C) Il Censimento Permanente della Popolazione ha coinvolto tutte le famiglie d'Italia.

027. Quale delle seguenti affermazioni è errata?

- A) La partecipazione al censimento è un obbligo di legge e quindi soggetto a sanzione in caso d'inadempienza.
- B) Con il Censimento permanente si potranno tagliare di circa il 50% i costi rispetto al Censimento 2011.
- C) C'è tempo fino al 20/12 per rispondere online dal pc di casa al questionario del CPP.

028. Con il Censimento permanente della popolazione italiana rispetto al Censimento 2011:

- A) Aumenta il risparmio e diminuisce il disturbo statistico sulle famiglie.
- B) Aumentano i costi e diminuisce il disturbo statistico sulle famiglie.
- C) Diminuiscono i costi e aumenta il disturbo statistico sulle famiglie.

029. Secondo il brano i questionari già compilati per il nuovo CPP sono più o meno di un milione e centomila?

- A) Il brano non lo indica con precisione.
- B) Di più.
- C) Di meno.

030. Quale termine è il più adatto per indicare una "taccola"?

- A) Pesce.
- B) Uccello.
- C) Felino.

031. In quali dei seguenti punti i termini sono proposti nell'ordine NOME/VERBO/AGGETTIVO/AVVERBIO?

- A) Acutezza/Inasprire/Accorto/Notoriamente.
- B) Accorto/Inasprire/Acutezza/Notoriamente.
- C) Notoriamente/Inasprire/Acutezza/Accorto.

032. Quali lettere non inserirebbe al posto degli spazi per ottenere una parola italiana di senso compiuto ed uso corrente? L _ N _.

- A) I - E.
- B) A - A.
- C) U - A.

033. Quale dei seguenti termini può sostituire la parola "tracotante" senza modificare il significato della frase ove essa è inserita?

- A) Presuntuoso.
- B) Aggressivo.
- C) Subdolo.

034. Individuare tra i seguenti il sillogismo che conduce ad una falsa conclusione.

- A) Se sei gentile con le persone ti senti meglio anche con te stesso. Io sono gentile con le persone, dunque mi sento meglio anche con me stesso.
- B) Se guidi con prudenza non fai incidenti. Io guido con prudenza, dunque non faccio incidenti.
- C) Se ripeti ad alta voce passi gli esami con successo. Ho passato l'esame con successo, dunque ho ripetuto ad alta voce.

035. Trovare il termine intruso tra quelli proposti.

- A) Volpino.
- B) Siamese.
- C) Spinone.

036. In quale coppia, tra quelle proposte, i due vocaboli sono collegati da un rapporto di inclusione?

- A) Margherita, Marinara.
- B) Pizza, pastasciutta.
- C) Margherita, pizza.

037. Data la parola "tributo", quale tra quelle proposte è la meno attinente/collegabile?

- A) Vaso.
- B) Tassa.
- C) Omaggio.

038. Cosa significa negare la frase "tutte le donne austriache sono precise"?

- A) Esiste almeno una donna austriaca imprecisa.
- B) Nessuna donna austriaca è imprecisa.
- C) Devono esistere almeno due donne austriache imprecise.

039. Chi è entrato almeno una volta nella casa blu, dopo non può più entrare nella casa gialla. Solo chi è già entrato nella casa rossa può entrare nella casa gialla. Chi è entrato almeno una volta nella casa gialla, dopo non può più entrare nella casa verde. Se sono entrato nella casa verde...

- A) Sicuramente sono entrato prima nella casa rossa.
- B) Sicuramente non sono entrato prima nella casa blu.
- C) Potrei essere entrato prima nella casa blu.

040. In quale riga è presente la seguente sequenza: SVSSSVS?

- A) VSSVSVSSSSSVSSSV.
- B) SVSSSVSSSSSVSSSV.
- C) SVSSSVSSSSSVSSSVSS.

041. Quale, tra le seguenti, presenta il minor numero di errori rispetto alla base? TSO PFDT PRT YAM TECH GCM.

- A) GCM PRT YEM TECH PDFT TSO.
- B) PRT TECH TSI PFDT YEM GCM.
- C) TSO PFDT PRT YAM TECH GCN.

AGENZIA DELLE ENTRATE
510 UNITÀ PROFILO PROFESSIONALE FUNZIONARIO, PER ATTIVITÀ AMMINISTRATIVO-TRIBUTARIA
QUESTIONARIO - 1

042. Individuare il gruppo di numeri che risulti esattamente il contrario della seguente base: 020319361102194720.

- A) 027491201163190320.
 B) 027491201163913020.
 C) 024791021136913020.

043. Se la sequenza è "maiuscolo-maiuscolo-minuscolo-maiuscolo", quale stringa è scritta in modo corretto?

- A) "TScPBOchBRcUBFbBLPnG". B) "MSuBUBcMUBbNDDcDCOcB". C) "SDcSSDcGSQuODGsbMLPrL".

044. Qual è il totale di "fiori" presenti nelle due tabelle? Quante "forbici" sono contenute rispettivamente nella prima e nella seconda tabella?

Tabella 1										Tabella 2									
✿	✂	✿	⇒	✂	✂	✂	✂	✂	⇒	✂	✂	⇒	✂	✂	⇒	✂	✂	⇒	✂
✂	✂	✂	⇒	✂	✂	✂	✂	✂	⇒	✂	✂	⇒	✂	✂	⇒	✂	✂	⇒	✂
⇒	✂	✂	✂	✂	✂	✂	✂	✂	⇒	⇒	✂	✂	✂	✂	✂	✂	✂	⇒	✂

- A) 15. Nella tabella 1 sono contenute 5 "forbici", nella tabella 2 sono contenute 10 "forbici".
 B) 16. Nella tabella 1 sono contenute 4 "forbici", nella tabella 2 sono contenute 9 "forbici".
 C) 16. Nella tabella 1 sono contenute 5 "forbici", nella tabella 2 sono contenute 10 "forbici".

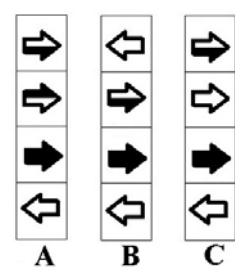
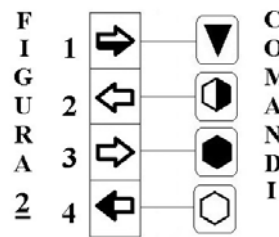
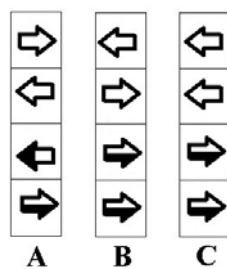
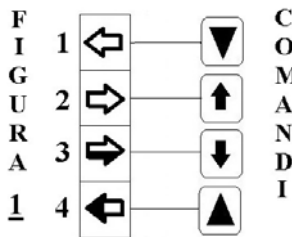
045. In quale dei seguenti gruppi il numero 4 non segue immediatamente l'8 e il numero 2 non precede immediatamente il 9?

- A) 8948482244299899289484282.
 B) 8229828948444299899289484.
 C) 2898924828948822449289482.

Osservare la figura e rispondere alle seguenti 2 domande. (046 - 047)

ELENCO COMANDI

- scambia con il box numero 1
 inverte i colori
 copia nel box numero 4
 scambia con il box subito sopra
 colora il disegno nel box di bianco
 colora il disegno nel box di nero
 copia nel box subito sotto



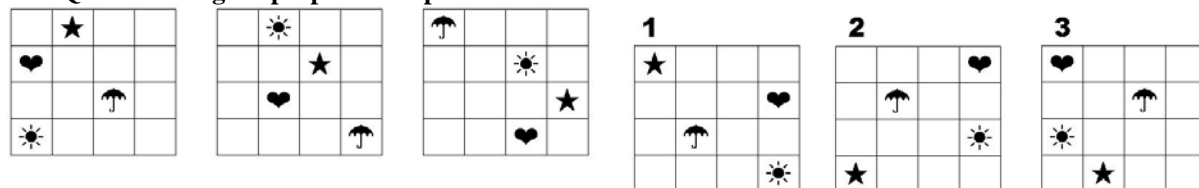
046. Quale figura si ottiene applicando alla FIGURA 2 i COMANDI a lato?

- A) La figura B. B) La figura C. C) La figura A.

047. Quale figura si ottiene applicando alla FIGURA 1 i COMANDI a lato?

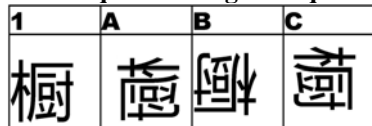
- A) La figura A. B) La figura C. C) La figura B.

048. Quale delle figure proposte completa la serie?



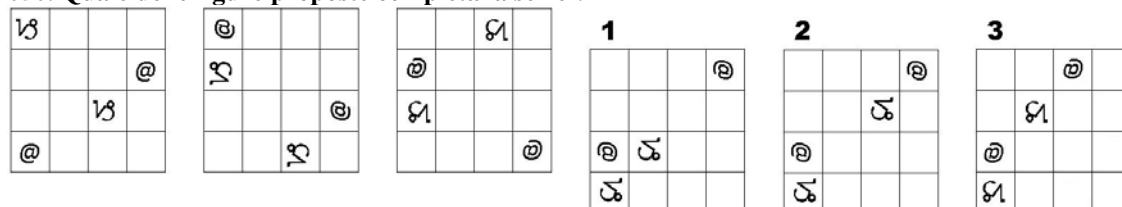
- A) La figura 2. B) La figura 1. C) La figura 3.

049. In quale dei seguenti quadrati è proposto il disegno 1, dopo essere stato ruotato e ribaltato?



- A) Nel quadrato B. B) Nel quadrato A. C) Nel quadrato C.

050. Quale delle figure proposte completa la serie ?



- A) La figura 1. B) La figura 3. C) La figura 2.