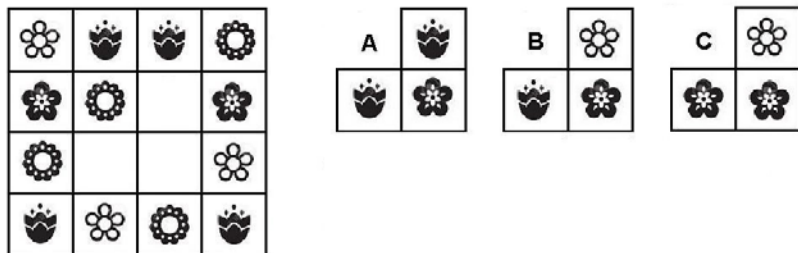


AGENZIA DELLE ENTRATE
510 UNITÀ PROFILO PROFESSIONALE FUNZIONARIO, PER ATTIVITÀ AMMINISTRATIVO-TRIBUTARIA
QUESTIONARIO - 22

| |
|---|
| 001. Quale dei seguenti numeri eliminerebbe? 133 - 98 - 57 - 336 - 189. A) 98. B) 57. C) 336. |
| 002. Quest'anno ho trascorso in montagna i due ottavi delle mie vacanze, nelle città d'arte un quinto e al mare undici giorni. Quanti giorni di vacanze mi sono concessa quest'anno? A) 18. B) 28. C) 20. |
| 003. ! uguale +; / uguale x; " uguale - e ? uguale : Svolgere la seguente espressione: $(2/8)!(7/7)"(2/8)!(2/4)"(1/1)=$. A) 54. B) 45. C) 56. |
| 004. Sulla cattedra della prima M del liceo S. Pertini vi sono 132 penne (nere, blu, rosse), 22 per contenitore; 11 per ogni contenitore sono penne nere. Quante sono le penne di colore blu e rosso contenute nei contenitori? A) 68. B) 66. C) 67. |
| 005. Quali numeri completano la serie? 201 - 212 - 206 - 217 - 211 - 222 - ... - ... - 221 - 232. A) 216 e 227. B) 216 e 228. C) 217 e 227. |
| 006. Il quadruplo di quale numero, aumentato di 20 è uguale a 156? A) 35. B) 33. C) 34. |
| 007. Quali numeri devono essere inseriti al posto dei puntini? 175 - 184 - ... - 202 - ... - 220 - 229. A) 193 e 212. B) 193 e 211. C) 194 e 211. |
| 008. Con quali di questi numeri deve continuare la serie? 42 - 67 - 59 - 54 - 76 - 41 - 93 - 28 - ... - A) 110 e 14. B) 110 e 15. C) 111 e 15. |
| 009. Oggi a Viù la temperatura è 1,5°. A Rea il termometro segna 3 gradi in più rispetto a Viù. Ad Alba il termometro segna 9 gradi in meno rispetto a Rea. A Bulzi il termometro segna 4 gradi in più rispetto ad Alba. Qual è la temperatura oggi a Bulzi? A) +0,5°. B) -0,5°. C) -1,5°. |
| 010. Quali segni matematici devono essere inseriti nell'ordine al posto dei punti affinché: 124 ... 458 ... 92 ... 4.586 ... 693 = 5.953 A) + - - + +. B) + + - - +. C) + + + + +. |
| Leggere il brano e rispondere alle seguenti 6 domande. (011 - 016) <i>Debora ha deciso di sostituire una vecchia poltrona e la scelta è tra quattro della Ditta X: Karin, Cloè, Soor, Alasia. Le forme delle poltrone sono molto diverse: una ricorda un fiore di loto, una ha la struttura in fili metallici, una la ha seduta in piume, una ricorda un cubo, non necessariamente in questo ordine; i prezzi delle poltrone sono euro: 985, 990, 1.150 e 1.210 non necessariamente in questo ordine, mentre le dimensioni sono: 66x66, 70x70, 75x75, 80x80 cm.</i> <i>È inoltre noto che: - Soor ha la seduta in piume, costa 1.210 euro e misura 66x66 cm; - la poltrona che costa 985 euro ricorda un fiore di loto; - Alasia misura 70x70 ed ricorda un cubo; - Cloè costa 1.150 euro e misura meno di 80x80 cm.</i> |
| 011. Quale poltrona sceglierebbe Debora se decidesse per quella che, in base alle dimensioni è terza in ordine crescente? A) Quella che ricorda un cubo. B) Quella che ricorda un fiore di loto. C) Quello che costa 1.150 euro. |
| 012. Quale poltrona costa 990 euro? A) Quella che misura 80x80 cm. B) Quella che ricorda un cubo. C) Quella che misura 75x75 cm. |
| 013. Sulla base delle informazioni fornite, indicare l'affermazione corretta. A) Karin è la meno costosa. B) Alasia costa 1.150 euro. C) Cloè ricorda un cubo. |
| 014. Quale poltrona ha dimensioni 75x75 cm? A) Quella che ricorda un fiore di loto. B) Cloè. C) Quella che una ricorda un cubo. |
| 015. Quale poltrona ha dimensioni maggiori? A) Karin. B) Cloè. C) Alasia. |
| 016. Quale poltrona sceglierebbe Debora se decidesse per quella che, in base al prezzo è seconda in ordine decrescente? A) Quella che misura 75x75. B) Quella che misura 80x80 cm. C) Alasia. |
| 017. Individuare la coppia che completa correttamente la proporzione. Lago di Varano : Puglia = (X) : Lombardia = Lago d'Orta : (Y). A) (X) Lago d'Iseo ; (Y) Piemonte. B) (X) Lago di Varese ; (Y) Trentino Alto Adige. C) (X) Lago di Bracciano ; (Y) Veneto. |

018. Individuare la figura che completa logicamente la griglia.



A) Figura C.

B) Figura A.

C) Figura B.

019. Ad un tavolo tondo siedono: Paul, Pino, Paola, Eva, Pietro e Pina. Ogni uomo siede tra due donne. Se Eva non è accanto a Pietro e Paola è tra Paul e Pietro, di conseguenza Pino quali donne avrà vicino?

A) Eva e Paola.

B) Pina e Paola.

C) Eva e Pina.

020. Quali dei seguenti termini integrano la serie? rigare - resina - natale - lepido - _____ - _____.

A) Domani - nipote.

B) Dolce - colorato.

C) Diruto - tondo.

021. Se X si trova tra A e B; A si trova tra Y e X; B si trova tra X e K; Y si trova tra C e A; K si trova tra B e D è sicuramente vero che:

A) X è più vicino a C che a Y.

B) D è più vicino a Y che a C.

C) Non è possibile stabilire se D sia più vicino a B che a Y.

022. Individuare il termine che completa logicamente la proporzione. "cantine" sta a "canzone" come "zincone" sta a ..?..

A) Zingane.

B) Zigante.

C) Zillera.

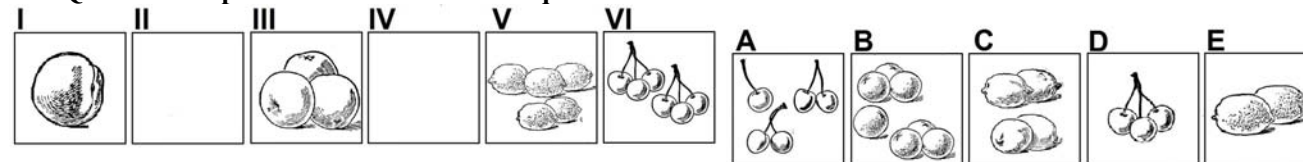
023. Si legga la seguente serie «Lev/Sterlina/Renminbi/...» e si indichi il logico completamento:

A) Tientsin.

B) Amamelide.

C) Lek.

024. Quali sono rispettivamente il secondo e il quarto elemento nella serie?



A) Elementi B - D.

B) Elementi A - E.

C) Elementi E - C.

Leggere il brano e rispondere alle seguenti 5 domande. (025 - 029)

INDAGINE ISTAT SULLE SPESE DELLE FAMIGLIE: COME VENGONO RACCOLTI I DATI.

L'intervista è affidata a un rilevatore, munito di cartellino identificativo, che opera per conto dell'Istat con l'ausilio di un personal computer. La famiglia riceve una prima visita da parte del rilevatore che effettua l'intervista iniziale e consegna un diario da compilare per un periodo di 14 giorni. Il questionario per l'intervista iniziale serve a rilevare le principali caratteristiche socio-demografiche di tutti i componenti della famiglia e le informazioni sull'abitazione, sul possesso di beni durevoli, di mezzi di trasporto e di comunicazione. Sul diario cartaceo le famiglie devono invece annotare quotidianamente: le spese sostenute da tutti i componenti per alimentari e beni e servizi di largo consumo; il consumo di beni autoprodotti, riportando la quantità consumata o regalata; i luoghi di acquisto di alcuni beni e servizi. Nei primi giorni del mese successivo a quello di compilazione del diario, il rilevatore passa a ritirare il diario ed effettuare un'intervista finale volta a rilevare le altre spese familiari e i movimenti turistici.

025. È estraneo alle finalità della prima visita:

A) Rilevare le informazioni sul possesso di beni durevoli.

B) Rilevare le informazioni sul possesso di mezzi di trasporto e di comunicazione.

C) Annotare i luoghi di acquisto di alcuni beni e servizi.

026. Sul diario le famiglie dovranno annotare anche il consumo di beni autoprodotti?

A) No.

B) Sì, riportando la quantità consumata o regalata.

C) Sì, senza distinzione tra quantità consumata o regalata.

027. Sul diario cartaceo le famiglie devono quotidianamente annotare le spese sostenute:

A) Da tutti i componenti per i beni alimentari o meno, esclusi i servizi.

B) Dal solo capofamiglia anche per alimentari e beni di largo consumo.

C) Da tutti i componenti per alimentari e beni e servizi di largo consumo.

028. Il questionario per l'intervista iniziale serve:

- A) Tra l'altro a rilevare le informazioni sull'abitazione.
- B) Esclusivamente a rilevare le principali caratteristiche socio-demografiche di tutti i componenti della famiglia.
- C) Tra l'altro a rilevare le altre spese familiari e i movimenti turistici.

029. L'intervista è svolta con l'ausilio:

- A) Di uno smartphone.
- B) Di un PC.
- C) Di un tablet.

030. In quale coppia, tra quelle proposte, i due vocaboli sono collegati da un rapporto di inclusione?

- A) Pagina, copertina.
- B) Poliziesco, genere.
- C) Thriller, commedia.

031. Cosa significa negare la frase "tutti i cavalli sono educati"?

- A) Devono esistere almeno due cavalli maleducati.
- B) Esiste almeno un cavallo maleducato.
- C) Nessun cavallo è maleducato.

032. In quali dei seguenti punti i termini sono proposti nell'ordine NOME/VERBO/AGGETTIVO/AVVERBIO?

- A) Chiuso/Accaldare/Caramente/Chiaro.
- B) Equo/Barare/Equità/Blandamente.
- C) Cortesia/Curvare/Cupo/Congruamente.

033. Mosca è più grande di Bordeaux ma più piccola di Valencia. Valencia è più grande di Toronto ma più piccola di Zagabria. Zagabria è più piccola di Dublino. Ne deriva che...

- A) Dublino è la città più grande.
- B) Mosca è più grande di Zagabria.
- C) Bordeaux non è la città più piccola.

034. Quale termine è il più adatto per indicare un "discorso prolisso, enfatico e inconcludente"?

- A) Ruglio.
- B) Sproloquio.
- C) Compendio.

035. Quali lettere non inserirebbe al posto degli spazi per ottenere una parola di senso compiuto ed uso corrente?

C _ R _ .

- A) A - O.
- B) O - A.
- C) E - A.

036. Data la parola "strada", quale tra quelle proposte è la meno attinente/collegabile?

- A) Sterrata.
- B) Casa.
- C) Sonno.

037. Individuare tra i seguenti il sillogismo che conduce ad una falsa conclusione.

- A) Tutte le donne di mezza età dedicano grande cura al loro corpo. Patrizia è una donna di mezza età quindi dedica grande cura al proprio corpo.
- B) Tutti i pensionati guardano i lavori in corso. Gabriella guarda i lavori in corso, quindi è pensionata.
- C) Tutti i giovani trascorrono giornate intere sui social. Liana è giovane quindi trascorre giornate intere sui social.









































038. Trovare il termine intruso tra quelli proposti.

- A) Sallustio.
- B) Cesare.
- C) Eschilo.

039. Quale dei seguenti termini\locuzioni può sostituire la parola "valetudinario" senza modificare il significato della frase ove essa è inserita?

- A) Volenteroso.
- B) Nobile d'animo.
- C) Cagionevole di salute.

040. Qual è il totale di "polli" presenti nelle due tabelle? Quanti "fenicotteri" sono presenti rispettivamente nella prima e nella seconda tabella?

| Tabella 1 | | | | | | | | | | Tabella 2 | | | | | | | | | |
|--|---|---|---|---|---|---|---|---|---|---|---|--|---|---|---|---|---|---|---|
|  |  |  |  |  |  |  |  |  |  |  |  |  |  |  |  |  |  |  |  |
|  |  |  |  |  |  |  |  |  |  |  |  |  |  |  |  |  |  |  |  |

- A) 11. Nella tabella 1 sono presenti 6 "fenicotteri", nella tabella 2 sono presenti 7 "fenicotteri".
- B) 12. In entrambe le tabelle sono presenti 6 "fenicotteri".
- C) 12. In entrambe le tabelle sono presenti 7 "fenicotteri".

041. In quale riga è presente la seguente sequenza: HHHOOOOOH?

- A) OHHHHOOOOOHOOHOH.
- B) HHHOOOOHOOOHOHHHO.
- C) HOHHOHHHOOOOOHO.

042. Quale, tra le seguenti serie di numeri, presenta meno errori di battitura rispetto alla seguente sequenza?

7143, 421; 79856531; 76455674 / 916.

- A) 7413, 421; 74656574 / 917; 79865531.
B) 7142, 422; 76455677 / 916; 79856531.
C) 1743, 142; 76455647 / 961; 79856531.

043. Individuare il gruppo di numeri che risulti esattamente il contrario della seguente base: 92041919180219572912.

- A) 29127591208191941029.
B) 21925791028191914029.
C) 21927591208191914029.

044. In quale dei seguenti gruppi la lettera G non precede immediatamente la L e la lettera I non segue immediatamente la M?

- A) LGMIGILGMLGILMMGLMGM.
B) LGILGILGMIGLLMMLGMGM.
C) LGILGILGMLGILMMLGMGM.

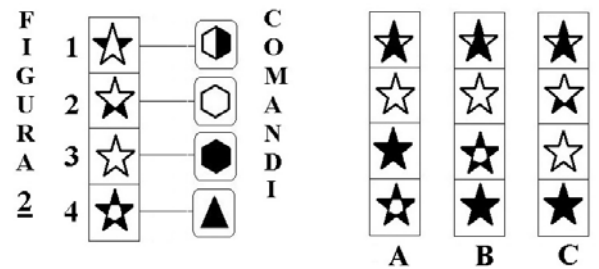

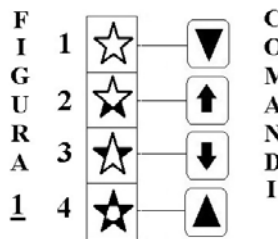
045. Se la sequenza è "lettera-lettera-numero-lettera", quale stringa è scritta in modo errato?

- A) Uh5àTo9ðAh9uNp8dSb5fDb6g.
B) Do3yMn2uNz2iBz5oFp5pGh6à.
C) Fm3sLb2cPm3vBs5mBp6bD5cd.

Osservare la figura e rispondere alle seguenti 2 domande. (046 - 047)

ELENCO COMANDI

-  scambia con il box numero 1
  inverte i colori
  copia nel box numero 4
  scambia con il box subito sopra
 colora il disegno nel box di bianco
  colora il disegno nel box di nero
  copia nel box subito sotto



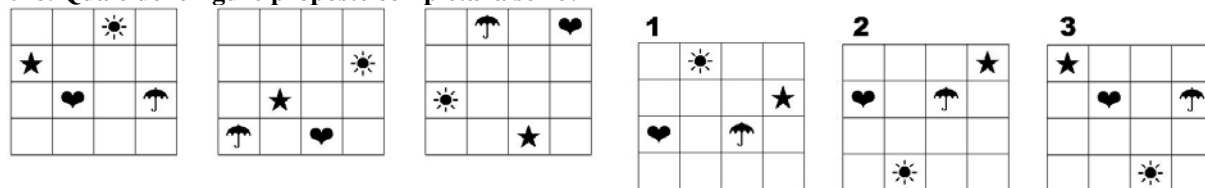
046. Quale figura si ottiene applicando alla FIGURA 2 i COMANDI a lato?

- A) La figura A. B) La figura C. C) La figura B.

047. Quale figura si ottiene applicando alla FIGURA 1 i COMANDI a lato?

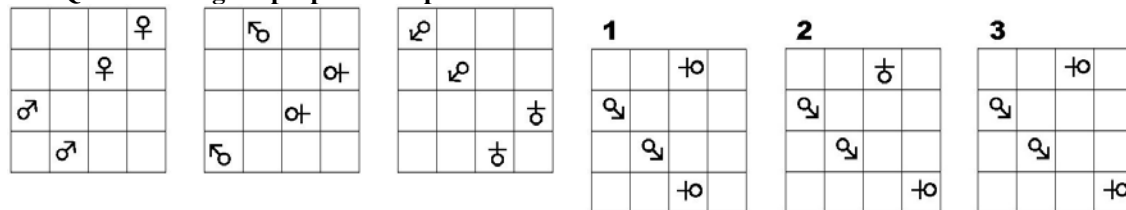
- A) La figura C. B) La figura A. C) La figura B.

048. Quale delle figure proposte completa la serie?



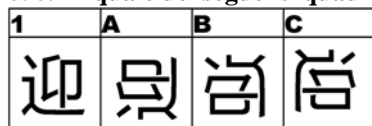
- A) La figura 2. B) La figura 3. C) La figura 1.

049. Quale delle figure proposte completa la serie ?



- A) La figura 3. B) La figura 1. C) La figura 2.

050. In quale dei seguenti quadrati è proposto il disegno 1, dopo essere stato ruotato e ribaltato?



- A) Nel quadrato A. B) Nel quadrato B. C) Nel quadrato C.