

AGENZIA DELLE ENTRATE  
510 UNITÀ PROFILO PROFESSIONALE FUNZIONARIO, PER ATTIVITÀ AMMINISTRATIVO-TRIBUTARIA  
QUESTIONARIO - 33

**001. Quali numeri devono essere inseriti al posto dei puntini? 184 - 198 - ... - 226 - ... - 254 - 268.**

- A) 213 e 240.                                  B) 212 e 241.                                  C) 212 e 240.

**002. Quali segni matematici devono essere inseriti nell'ordine al posto dei punti affinché:**

$343 \dots 716 \dots 6 \dots 341 \dots 4 \dots 809 = 2.219$

- A) + + + + +.  
B) + + - - +.  
C) + - - + +.

**003. Quale dei seguenti numeri eliminerebbe? 350 - 64 - 322 - 77 - 301.**

- A) 64.    B) 350.    C) 77.

**004. Se si moltiplica un numero per la differenza tra 26 e 14 si ottiene 324. Il numero è:**

- A) 27.    B) 29.    C) 25.

**005. ! uguale +; / uguale x; " uguale - e ? uguale : Svolgere la seguente espressione:  $(7/4)!(4/6)"(4/7)!(4/4)"(2/2) =$ .**

- A) 32.  
B) 23.  
C) 36.

**006. Quali numeri completano la serie? 85 - 88 - 81 - 84 - 77 - 80 - ... - ... - 69 - 72.**

- A) 73 e 76.    B) 74 e 76.    C) 73 e 77.

**007. Con quali di questi numeri deve continuare la serie? 141 - 143 - 136 - 152 - 131 - 161 - 126 - 170 - ... - ....**

- A) 120 e 179.    B) 121 e 179.    C) 121 e 180.

**008. Temperature registrate alle ore 16:00 del 15 gennaio 2019 nelle principali località sciistiche: Vail 1°, Tux -4°, Pila -11°, Laax 0°. Supponendo che quanto riportato sia vero, allora è vero affermare che:**

- A) A Laax c'è 1° meno che a Vail.  
B) Pila registra 8° meno che a Vail.  
C) Tux ha superato di 6° Pila.

**009. Il piccolo Pietro ha un nono dell'età della sua mamma. Sapendo che la somma delle loro età è pari a 30, quanti anni hanno rispettivamente la mamma e il piccolo Pietro?**

- A) 29 e 1.    B) 26 e 4.    C) 27 e 3.

**010. L'Azienda Municipalizzata Trasporti di Borgo a Basso offre i seguenti abbonamenti: mensile a euro 78,90; trimestrale a euro 210 e annuale a euro 850. Quanto si risparmia mensilmente se si acquista l'abbonamento annuale rispetto a quello mensile?**

- A) Poco più di 9 Euro.                                  B) Poco più di 8 Euro.                                  C) Poco più di 7 Euro.

**Leggere il brano e rispondere alle seguenti 6 domande. (011 - 016)**

*Un capo negozio ha ricevuto quattro offerte di lavoro da: 1) Giocando Spa, 2) Nano Spa, 3) Fortuna Spa, 4) Giocattolandia Spa. Le previsioni di fatturato delle società, per l'anno 2019, sono euro: 63mila, 75mila, 78mila, 81mila, non necessariamente in questo ordine. Ogni società ha la sede in una città diversa: Sondrio, Parma, Vicenza ed Enna non necessariamente in questo ordine. Le quattro società hanno in ordine sparso: 137, 151, 173 e 180 dipendenti.*

*È inoltre noto che: la previsione di fatturato della società che ha sede a Sondrio è 63mila euro; Nano Spa ha 151 dipendenti e non ha sede a Parma; la previsione di fatturato di Giocattolandia Spa è superiore a 75mila euro e ha un numero di dipendenti inferiore a 180; Fortuna spa ha sede a Vicenza, ha una previsione di fatturato di 81mila euro e 137 dipendenti.*

**011. Quale Spa sceglierebbe il capo negozio se decidesse per quella che, in base alla previsione di fatturato, è terza in ordine decrescente?**

- A) La Spa con 180 dipendenti.                          B) Quella che ha sede ad Enna.                          C) Giocattolandia Spa.

**012. Quale società ha il maggiore numero di dipendenti?**

- A) Quella che ha sede a Parma.                          B) Nano Spa.    C) Giocando Spa.

**013. Qual è la Spa la cui previsione di fatturato è 75mila euro?**

- A) Quella con 173 dipendenti.                          B) Quella con 180 dipendenti.                          C) Quella che ha sede ad Enna.

**014. Sulla base delle informazioni fornite, indicare l'affermazione corretta.**

- A) 63mila euro è la previsione di fatturato della Giocando Spa.  
B) Giocattolandia Spa ha sede ad Enna.  
C) La previsione di fatturato della Nano Spa è 78mila euro.

**015. Qual è la Spa con 173 dipendenti?**

- A) Quella che ha sede a Sondrio.                          B) Giocattolandia Spa.    C) Quella che ha sede ad Enna.


**016. Quale Spa sceglierebbe il capo negozio se decidesse per quella che, in base al numero dei dipendenti, è terza in ordine crescente?**




- A) Quella che ha sede ad Enna.  
B) La Spa la cui previsione di fatturato è 78mila euro.  
C) Quella che ha sede a Sondrio.

**017. Ad un tavolo tondo siedono: Fosco, Maura, Piera, Michele e Loredana. Se Fosco non può essere accanto a Michele e Maura è tra Piera e Fosco, di conseguenza Loredana:**

- A) Non è tra due donne.
- B) Forse è tra Maura e Michele.
- C) È tra Fosco e Piera.

**018. La proporzione si completa con gli elementi indicati con:**

**8** sta a  come  sta a














A  B **12** C  D **11** E 




- A) Le lettere B – E.
- B) Le lettere B – C.
- C) Le lettere D – A.




**019. Quale dei seguenti termini integra correttamente la serie? quota - querela - quaresima.**




- A) Quadrifogli.
- B) Quadreremo.
- C) Quadernaccio.

**020. Individuare la figura che completa logicamente la griglia.**

			
			
	<input type="text"/>		
	<input type="text"/>	<input type="text"/>	

A  B  C 

A  B  C 

A  B  C 

- A) Figura C.
- B) Figura A.
- C) Figura B.

**021. Individuare il termine che completa logicamente la proporzione. «limando» sta a «limpido» come «voliera» sta a ..?..**

- A) Volpata.
- B) Voltata.
- C) Volpara.

**022. Individuare la coppia che completa correttamente la proporzione. Po : Veneto = (X) : Trentino Alto Adige = Adda : (Y).**

- A) (X) Brenta; (Y) Piemonte.
- B) (X) Po ; (Y) Emilia Romagna.
- C) (X) Adige ; (Y) Lombardia.

**023. Se X si trova tra A e B; A si trova tra Y e X; B si trova tra X e K; Y si trova tra C e A; K si trova tra B e D è sicuramente vero che:**

- A) C è più vicino a B che a D.
- B) Y è più vicino a D che a A.
- C) Non è possibile stabilire se K sia più vicino a Y che a C.

**024. Se .?. sta a Parrocchetto allora è logico che Nuotare stia a .?.**

- A) Torrente - Lago.
- B) Volare - Palamita.
- C) Vaporetto - Motovedetta.

**Leggere il brano e rispondere alle seguenti 5 domande. (025 - 029)**

*A novembre 2018 si registra una flessione sia dell'indice del clima di fiducia dei consumatori sia dell'indice composito del clima di fiducia delle imprese. Per le componenti dei climi di fiducia delle imprese nel comparto manifatturiero (che registra una flessione più contenuta rispetto ai settori dei servizi e a quello delle costruzioni) si rileva un peggioramento delle attese sulla produzione; i giudizi sul livello della domanda e il saldo delle scorte di magazzino rimangono sostanzialmente stabili rispetto al mese di ottobre 2018. Nel settore delle costruzioni, si registra un peggioramento sia dei giudizi sugli ordini sia delle aspettative sull'occupazione. Per quanto riguarda il settore dei servizi, tutte le componenti sono in calo: si segnala in particolare il deterioramento dei giudizi sull'andamento degli affari e la contrazione sia dei giudizi sia delle attese sugli ordini. Nel commercio al dettaglio, l'aumento dell'indice è dovuto principalmente al miglioramento dei giudizi sulle vendite e ad una marcata contrazione del saldo relativo alle scorte di magazzino. Invece, le aspettative sulle vendite future sono in diminuzione.*

**025. Secondo il brano:**

- A) Il comparto manifatturiero registra una flessione più contenuta rispetto al settore delle costruzioni ma non a quello dei servizi.
- B) Il comparto manifatturiero registra una flessione più contenuta rispetto al settore dei servizi ma non a quello delle costruzioni.
- C) Il comparto manifatturiero registra una flessione più contenuta rispetto ai settori dei servizi e a quello delle costruzioni.

**026. Nel commercio al dettaglio, l'aumento dell'indice è dovuto principalmente: (si contrassegni la risposta errata).**

- A) Ad una marcata contrazione del saldo relativo alle scorte di magazzino.
- B) Al miglioramento dei giudizi sulle vendite.
- C) Al miglioramento delle aspettative sulle vendite future.

**AGENZIA DELLE ENTRATE**  
**510 UNITÀ PROFILO PROFESSIONALE FUNZIONARIO, PER ATTIVITÀ AMMINISTRATIVO-TRIBUTARIA**  
**QUESTIONARIO - 33**

**027. Nel comparto manifatturiero si rileva un peggioramento delle attese su:**  
 A) Livello della domanda.                      B) Produzione.                                      C) Saldo delle scorte di magazzino.

**028. Secondo il brano si segnala in particolare il deterioramento dei giudizi sull'andamento degli affari e la contrazione sia dei giudizi sia delle attese sugli ordini nel settore:**  
 A) Manifatturiero.  
 B) Dei servizi.  
 C) Delle costruzioni.

**029. 1. Aspettative sull'occupazione. 2. Giudizi sugli ordini. Nel settore delle costruzioni, si registra un peggioramento di:**  
 A) Aspettative sull'occupazione.  
 B) Giudizi sugli ordini.  
 C) Entrambi.

**030. Data la parola "telefono", quale tra quelle proposte è la meno attinente/collegabile?**  
 A) Senza fili.  
 B) Cellulare.  
 C) Portalettere.

**031. Individuare tra i seguenti il sillogismo che conduce ad una falsa conclusione.**  
 A) Tutte le attrici sanno fingere le proprie emozioni. Cristiana sa fingere le proprie emozioni, quindi è un'attrice.  
 B) Tutte le sarte sanno rammendare i vestiti bucati. Barbara è una sarta, quindi sa rammendare i vestiti bucati.  
 C) Tutti i portieri sanno parare i rigori. Vittorio è un portiere, quindi sa parare i rigori.

**032. Cosa significa negare la frase "tutte le scatole sono piccole"?**  
 A) Esiste almeno una scatola grande.  
 B) Nessuna scatola è grande.  
 C) Devono esistere almeno due scatole grandi.

**033. Quale termine è il più adatto per indicare qualcosa di "risplendente, brillante, rilucente"?**  
 A) Opalescente.                                      B) Lebete.    C) Nitente.

**034. In quale coppia, tra quelle proposte, i due vocaboli sono collegati da un rapporto di inclusione?**  
 A) Flute, festa.                                      B) Flute, bicchiere.                                      C) Champagne, spumante.

**035. Quali lettere non inserirebbe al posto degli spazi per ottenere una parola di senso compiuto ed uso corrente? B\_CC\_.**  
 A) E - O.    B) A - A.    C) I - E.

**036. In quali dei seguenti punti i termini sono proposti nell'ordine NOME/VERBO/AGGETTIVO/AVVERBIO?**  
 A) Audacia/Imbizzarrire/Baldo/Arcaicamente.  
 B) Banale/Astrarre/Birbone/Formalmente.  
 C) Alidezza/Camminare/Acredine/Attivamente.

**037. La valigia di Manolo è più spaziosa di quella di Leandro, ma meno spaziosa di quella di Ennio. La valigia di Silvio è meno spaziosa di quella di Manolo, ma più spaziosa di quella di Leandro. La valigia di Ciro è più spaziosa di quella di Ennio. Possiamo concluderne che...**  
 A) La valigia di Silvio è la meno spaziosa.  
 B) La valigia di Manolo è la più spaziosa.  
 C) La valigia di Leandro è la meno spaziosa.

**038. Quale dei seguenti termini può sostituire la parola "ammannire" senza modificare il significato della frase ove essa è inserita?**  
 A) Esordire.    B) Allestire.    C) Inasprire.

**039. Trovare il termine intruso tra quelli proposti.**  
 A) Twinset.    B) Fez.    C) Lupetto.

**040. In quale dei seguenti gruppi la lettera T non precede immediatamente la K e la lettera B non segue immediatamente la F?**  
 A) KTBKTBTKFKTBKFFKTF.  
 B) KTFBTKTFKTBKFFTKF.  
 C) KTBKTBKTFKTBKFFKTF.

**041. Qual è il totale di "cavalli" presenti nelle due tabelle? Quanti "polli" sono presenti rispettivamente nella prima e nella seconda tabella?**

Tabella 1										Tabella 2																					
																															
																															

A) 12. Nella tabella 1 sono presenti 6 "polli", nella tabella 2 sono presenti 4 "polli".  
 B) 12. Nella tabella 1 sono presenti 7 "polli", nella tabella 2 sono presenti 5 "polli".  
 C) 11. Nella tabella 1 sono presenti 7 "polli", nella tabella 2 sono presenti 5 "polli".

**042. Quale, tra le seguenti, presenta tre discrepanze rispetto alla base? CALDO - PAREO - VENTO.**

- A) CALDA - PAREI - VENTI.
- B) CALDA - PAREO - VENTI.
- C) CALDO - PAREO - VENTI.

**043. In quale sequenza di lettere le "B" sono a pari numero delle "G"?**

- A) SFBObBObSBbSGSOgBSGG.
- B) BBISBIBGGIGGSSGMGIGS.
- C) BEFBEBFBGEKGObGKEKGO.

**044. In quale, tra le seguenti sequenze di cifre, è presente, almeno una volta, la seguente stringa numerica "578912"?**

- A) 2357237125521847123548933.
- B) 1972590147279850190813798.
- C) 8974856512356284578912357.


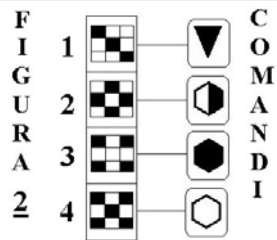

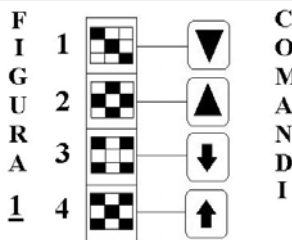
**045. Se la sequenza è "pari-pari-dispari-pari", quale stringa è scritta in modo errato?**

- A) 6892229685526298825262922693.
- B) 8232685226522638229682526852.
- C) 2258229622362256823268522632.

**Osservare la figura e rispondere alle seguenti 2 domande. (046 - 047)**

**ELENCO COMANDI**

- ↑ scambia con il box numero 1
- ◀ inverte i colori
- ↓ copia nel box numero 4
- ▲ scambia con il box subito sopra
- ◻ colora il disegno nel box di bianco
- ◼ colora il disegno nel box di nero
- ▼ copia nel box subito sotto



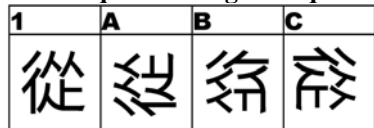
**046. Quale figura si ottiene applicando alla FIGURA 2 i COMANDI a lato?**

- A) La figura A.
- B) La figura C.
- C) La figura B.

**047. Quale figura si ottiene applicando alla FIGURA 1 i COMANDI a lato?**

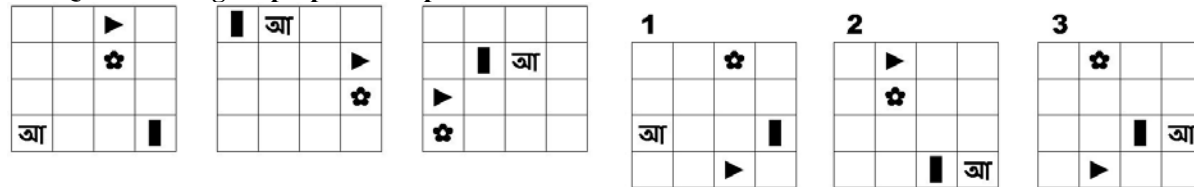
- A) La figura C.
- B) La figura A.
- C) La figura B.

**048. In quale dei seguenti quadrati è proposto il disegno 1, dopo essere stato ruotato e ribaltato?**



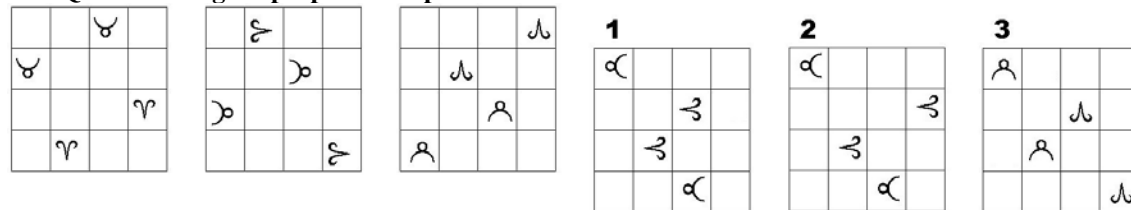
- A) Nel quadrato C.
- B) Nel quadrato B.
- C) Nel quadrato A.

**049. Quale delle figure proposte completa la serie?**



- A) La figura 2.
- B) La figura 1.
- C) La figura 3.

**050. Quale delle figure proposte completa la serie ?**



- A) La figura 2.
- B) La figura 1.
- C) La figura 3.