

AGENZIA DELLE ENTRATE
510 UNITÀ PROFILO PROFESSIONALE FUNZIONARIO, PER ATTIVITÀ AMMINISTRATIVO-TRIBUTARIA
QUESTIONARIO - 27

001. Mi compro una borsetta ed un portafoglio coordinati spendendo in totale Euro 209. Sapendo che il portafoglio costa i tre ottavi della borsa, quanto spendo per il portafoglio e quanto spendo per la borsa?

- A) Euro 39, Euro 170.
 B) Euro 58, Euro 151.
 C) Euro 57, Euro 152.

002. Quale simbolo deve essere inserito al posto della Y?

$(2 \times 5) + (7 \times 8) + (3 \times 9)$ Y $(2 \times 8) + (9 \times 4) + (1 \times 2)$

- A) =.
 B) <.
 C) >.

003. Se il numero 16 lo si divide per 80 e poi lo si moltiplica per 320 si ottiene:

- A) 64. B) 66. C) 62.

004. Con quali di questi numeri deve continuare la serie? 36 - 69 - 43 - 60 - 50 - 51 - 57 - 42 - ... -

- A) 65 e 33. B) 64 e 32. C) 64 e 33.

005. Quali numeri devono essere inseriti al posto dei puntini? 57 - 68 - ... - 90 - ... - 112 - 123.

- A) 80 e 101.
 B) 79 e 101.
 C) 79 e 102.

006. In un minimarket sono presenti 120 barattoli di marmellata (pesca, mora, ciliegia), 20 per ripiano; 10 per ogni ripiano sono alla pesca. Quanti sono i barattoli di marmellata alla mora e alla ciliegia presenti nel minimarket?

- A) 61. B) 60. C) 62.

007. Quale dei seguenti numeri eliminerebbe? 242 - 231 - 528 - 474 - 341.

- A) 528.
 B) 474.
 C) 231.

008. Quali numeri completano la serie? 73 - 76 - 69 - 72 - 65 - 68 - ... - ... - 57 - 60.

- A) 61 e 65. B) 61 e 64. C) 62 e 64.

009. ! uguale +; / uguale x; " uguale - e ? uguale : Svolgere la seguente espressione: (8 / 6) ! (7 / 4) " (9 / 3) ! (1 / 4) " (3 / 1) =.

- A) 50.
 B) 46.
 C) 48.

010. Oggi a Nus la temperatura è 2,5°. A Rho il termometro segna 3 gradi in più rispetto a Nus. Ad Almè il termometro segna 8 gradi in meno rispetto a Rho. A Buti il termometro segna 4 gradi in più rispetto ad Almè. Qual è la temperatura oggi a Buti?

- A) +0,5°. B) +1,5°. C) -1,5°.

Leggere il brano e rispondere alle seguenti 6 domande. (011 - 016)

Cecilia chiede alla mamma di iscriverla ad un corso di ballo. I corsi disponibili sono: swing, blues, balboa, lindy hop. La durata dei corsi, non necessariamente in questo ordine, è di 70, 60, 50, 46 ore ed il prezzo, sempre non necessariamente in questo ordine, è di 190, 220, 240 e 250 euro. La durata di ogni singola lezione varia a seconda del corso, le lezioni possono durare 40, 55, 50 e 60 minuti. È inoltre noto che: - ogni lezione del corso che costa 190 euro ha durata di 40 minuti e l'intero corso dura 60 ore; - le lezioni del corso di blues durano 50 minuti e l'intero corso è inferiore a 60 ore; - il corso di lindy hop costa più di 220 euro, le lezioni durano meno di 60 minuti mentre l'intero corso dura più di 46 ore; - il corso di balboa costa 250 euro.

011. Quale corso ha scelto Cecilia se le lezioni durano 50 minuti?

- A) Il corso di blues. B) Il corso di lindy hop. C) Il corso che costa 240 euro.

012. Quale corso ha il numero maggiore di ore?

- A) Lindy hop. B) Quello che costa 250 euro. C) Quello che costa 220 euro.

013. Quale corso sceglierebbe Cecilia se decidesse per quello che, in base al costo, è secondo in ordine decrescente?

- A) Il corso di 50 ore. B) Il corso di swing. C) Il corso di 46 ore.

014. Sulla base delle informazioni fornite, indicare l'affermazione corretta.

- A) Il corso di blues costa 240 euro. B) Il corso lindy hop dura 60 ore. C) Il corso di swing costa 190 euro.

015. Quale corso ha lezioni che durano 55 minuti?

- A) Lindy hop. B) Quello di 70 ore. C) Quello che costa 220 euro.

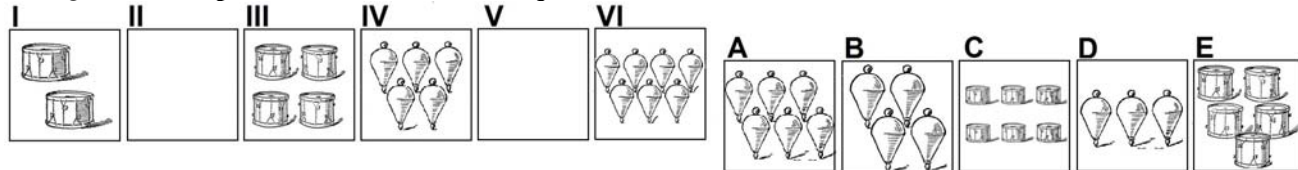
016. Qual è il corso che costa 220 euro?

- A) Lindy hop. B) Blues. C) Swing.

017. Individuare la coppia che completa correttamente la proporzione. Lago Trasimeno : Umbria = (X) : Puglia = Lago d'Orta : (Y).

- A) (X) Lago Albano ; (Y) Valle d'Aosta.
- B) (X) Lago di Garda ; (Y) Veneto.
- C) (X) Lago di Varano ; (Y) Piemonte.

018. Quali sono rispettivamente il secondo e il quinto elemento nella serie?



- A) Elementi B - E.
- B) Elementi D - A.
- C) Elementi D - C.

019. Se X si trova tra A e B; A si trova tra Y e X; B si trova tra X e K; Y si trova tra C e A; K si trova tra B e D è sicuramente vero che:

- A) A è più vicino a B che a D.
- B) C è più vicino a A che a Y.
- C) Non è possibile stabilire se X sia più vicino a K che a D.

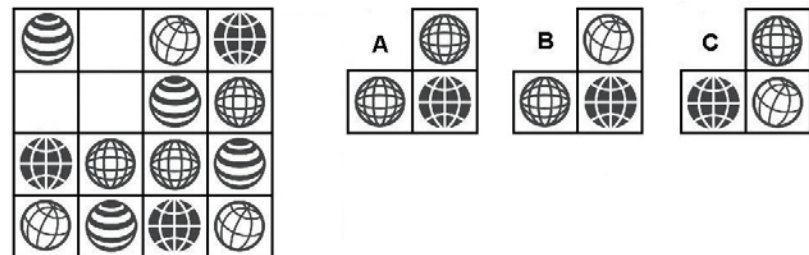
020. Il termine che integra logicamente la serie {Colera, Tigna, Scabbia, ..} è:

- A) Capinera.
- B) Tubercolosi.
- C) Francolino.

021. Quale gruppo di termini ha analogia con il seguente gruppo? quaderno - idioma - iene - bu.

- A) Taggato - goal - paesi - vip.
- B) Pappa - ragazza - tra - bo.
- C) Sabbiose - gelata - lena - fu.

022. Individuare la figura che completa logicamente la griglia.



- A) Figura C.
- B) Figura A.
- C) Figura B.

023. Individuare il termine che completa logicamente la proporzione. "gennaio" sta a "gessaio" come "vaccata" sta a ..?..

- A) Vallata.
- B) Vacando.
- C) Vaccaro.

024. Ad un tavolo tondo siedono: Berto, Livio, Sofia, Guido e Fabio. Se Berto non è accanto a Guido e Livio è tra Sofia e Berto, di conseguenza Fabio:

- A) Non siede vicino a Guido.
- B) Siede vicino a Livio.
- C) Non siede tra Sofia e Livio.

Leggere il brano e rispondere alle seguenti 5 domande. (025 - 029)

PREZZI AL CONSUMO - Nel mese di aprile 2019, si stima che l'indice nazionale dei prezzi al consumo per l'intera collettività (NIC), al lordo dei tabacchi, aumenti dello 0,2% rispetto al mese precedente e dell'1,1% su base annua (era +1,0% a marzo), confermando la stima preliminare. La lieve accelerazione dell'inflazione si deve principalmente alla dinamica dei prezzi dei Servizi relativi ai trasporti (da +0,5% a +2,8%), dei Servizi ricreativi, culturali e per la cura della persona (da +0,9% a +1,6%) e dei Beni energetici non regolamentati (da +3,3% a +3,7%). A contenere queste accelerazioni sono il netto rallentamento dei prezzi dei Beni energetici regolamentati (da +7,8% a +4,3%) cui si aggiunge quello più contenuto dei prezzi dei Beni alimentari non lavorati (da +1,9% a +1,0%) e lavorati (da +0,7% a -0,1%). Sia l'"inflazione di fondo", al netto degli energetici e degli alimentari freschi, sia quella al netto dei soli beni energetici accelerano lievemente, rispettivamente da +0,4% a +0,6% e da +0,6% a +0,7%.

025. Sia l'"inflazione di fondo", al netto degli energetici e degli alimentari freschi, sia quella al netto dei soli beni energetici:

- A) Decelerano.
- B) Accelerano.
- C) Passano da +0,6% a +0,4%.

026. A contenere le accelerazioni nei prezzi di alcune categorie di beni/servizi, è il netto rallentamento dei prezzi di altre, tra cui:

- A) Beni energetici regolamentati.
- B) Servizi ricreativi, culturali e per la cura della persona.
- C) Servizi relativi ai trasporti.

027. Nel mese di aprile 2019, si stima un aumento dello 0,2% rispetto al mese precedente del NIC al:

- A) Lordo dei tabacchi.
- B) Netto dei beni energetici.
- C) Netto dei tabacchi.

AGENZIA DELLE ENTRATE
510 UNITÀ PROFILO PROFESSIONALE FUNZIONARIO, PER ATTIVITÀ AMMINISTRATIVO-TRIBUTARIA
QUESTIONARIO - 27

028. Alla dinamica dei prezzi di quali dei seguenti beni si deve principalmente la lieve accelerazione dell'inflazione?

- A) Alimentari non lavorati. B) Alimentari lavorati. C) Energetici non regolamentati.

029. L'aumento su base annua del NIC registrato a marzo 2019, rispetto a quello registrato nell'aprile 2019, è:

- A) Stazionario.
B) Superiore.
C) Inferiore.

030. Data la parola "cuore", quale tra quelle proposte è la meno attinente/collegabile?

- A) Battito. B) Trabeazione. C) Leone.

031. Quale dei seguenti termini può sostituire la parola "elegiaco" senza modificare il significato della frase ove essa è inserita?

- A) Infervorato. B) Malinconico. C) Succinto.

032. In quale coppia, tra quelle proposte, i due vocaboli sono collegati da un rapporto di inclusione?

- A) Elio, ossigeno.
B) Elio, gas.
C) Ossigeno, maschera.

033. Cosa significa negare la frase "tutti i piatti sono caldi"?

- A) Devono esistere almeno due piatti freddi.
B) Esiste almeno un piatto freddo.
C) Nessun piatto è freddo.

034. In quali dei seguenti punti i termini sono proposti nell'ordine NOME/VERBO/AGGETTIVO/AVVERBIO?

- A) Densità/Contrariare/Caparbio/Congiuntamente.
B) Angoscioso/Contrariamente/Crudezza/Devotamente.
C) Critica/Continuare/Debolezza/Crudelmente.

035. Trovare il termine intruso tra quelli proposti.

- A) Molari. B) Denti del giudizio. C) Palato.

036. Quale termine è il più adatto per indicare "Chi esercita una critica demolitrice e sovversiva nei confronti dei principi, delle idee, delle convenzioni che regolano la società"?

- A) Idolatra. B) Iconoclasta. C) Apologeta.

037. Quali lettere non inserirebbe al posto degli spazi per ottenere una parola di senso compiuto ed uso corrente?

- N _ D _**
A) I - O.
B) O - O.
C) A - E.

038. Individuare tra i seguenti il sillogismo che conduce ad una falsa conclusione.

- A) Se vai a cena in pizzeria te la cavi con 20 euro a testa. Ieri sera abbiamo cenato in pizzeria, quindi ce la siamo cavati con 20 euro a testa.
B) Se vai a cena in trattoria spendi poco. Ieri sera a cena abbiamo speso poco quindi eravamo in trattoria.
C) Se vai a pranzo al ristorante spendi molto. Ieri abbiamo pranzato al ristorante, quindi abbiamo speso molto.

039. Cosenza è più grande di Lucca ma più piccola di Como. Como è più grande di Ferrara ma più piccola di Empoli. Empoli è più piccola di Latina. Ne deriva che...

- A) Latina è la città più grande. B) Lucca non è la città più piccola. C) Cosenza è più grande di Empoli.

040. Individuare il gruppo di numeri che risulti esattamente il contrario della seguente base: 1108031936110219472506.

- A) 6052479102113691308011.
B) 6052749120116391308011.
C) 6052749120116319038011.

041. In quale, tra le seguenti sequenze di cifre, è presente, almeno una volta, la seguente stringa numerica "512364"?

- A) 785123364698578985323825.
B) 405719720278512364025701.
C) 987654321787851136469852.

**042. Quale, tra le seguenti serie di numeri, presenta meno errori di battitura rispetto alla seguente sequenza?
67686767,371; 93478; 1110238.**

- A) 92458; 1101329; 67768767,321.
B) 67686767,361; 93378; 1110238.
C) 2210237; 76867676,731; 93428.


043. In quale dei seguenti gruppi il numero 8 non segue immediatamente il 9 e il numero 6 non precede immediatamente il 2?

- A) 2262969692899966886829968.
B) 9668969289288622922692986.
C) 6688692926896928992692896.

044. Se la sequenza è "maiuscolo-maiuscolo-minuscolo-maiuscolo", quale stringa è scritta in modo corretto?

- A) "RScPBocUBRcUBFbdLPnQ".
- B) "DPuGLNdFRGsDMAuUMBof".
- C) "GTcABcuSLOsODRoUBGuB".

045. Qual è il totale di "cavalli" presenti nelle due tabelle? Quanti "polli" sono presenti rispettivamente nella prima e nella seconda tabella?

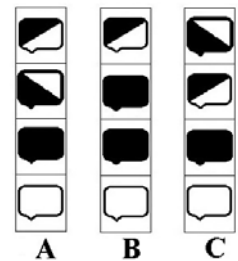
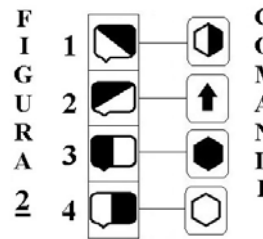
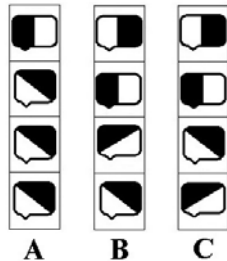
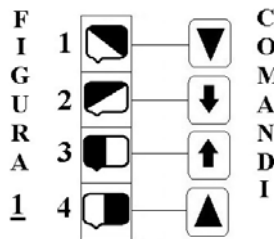


- A) 10. Nella tabella 1 sono presenti 5 "polli", nella tabella 2 sono presenti 6 "polli".
- B) 11. In entrambe le tabelle sono presenti 5 "polli".
- C) 11. Nella tabella 1 sono presenti 5 "polli", nella tabella 2 sono presenti 6 "polli".

Osservare la figura e rispondere alle seguenti 2 domande. (046 - 047)

ELENCO COMANDI

- scambia con il box numero 1
- inverte i colori
- copia nel box numero 4
- scambia con il box subito sopra
- colora il disegno nel box di bianco
- colora il disegno nel box di nero
- copia nel box subito sotto



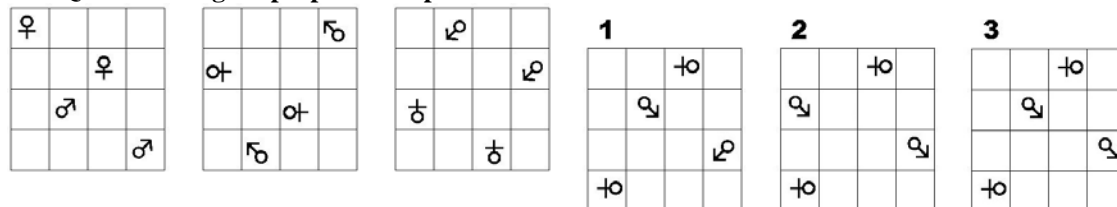
046. Quale figura si ottiene applicando alla FIGURA 2 i COMANDI a lato?

- A) La figura B.
- B) La figura C.
- C) La figura A.

047. Quale figura si ottiene applicando alla FIGURA 1 i COMANDI a lato?

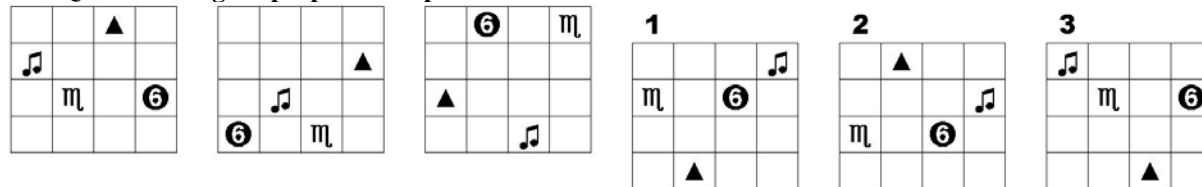
- A) La figura C.
- B) La figura A.
- C) La figura B.

048. Quale delle figure proposte completa la serie ?



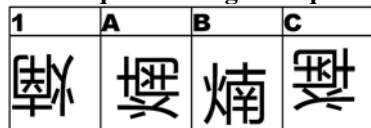
- A) La figura 3.
- B) La figura 2.
- C) La figura 1.

049. Quale delle figure proposte completa la serie?



- A) La figura 2.
- B) La figura 1.
- C) La figura 3.

050. In quale dei seguenti quadrati è proposto il disegno 1, dopo essere stato ruotato e ribaltato?



- A) Nel quadrato A.
- B) Nel quadrato C.
- C) Nel quadrato B.