

SELEZIONE PUBBLICA PER L'ASSUNZIONE A TEMPO INDETERMINATO DI 15 FUNZIONARI PER LA TERZA AREA FUNZIONALE, FASCIA RETRIBUTIVA F1, PROFILO PROFESSIONALE FUNZIONARI, PER ATTIVITÀ AMMINISTRATIVO TRIBUTARIA, DESTINATI AGLI UFFICI DELL'AGENZIA SITUATI IN PROVINCIA DI BOLZANO - PROVA OGGETTIVA ATTITUDINALE – 15 MAGGIO 2019

QUESTIONARIO 1

001. Quali numeri devono essere inseriti al posto dei puntini?

141 - 158 - ... - 192 - ... - 226 - 243.

- A) 176 e 209.
- B) 175 e 209.
- C) 175 e 210.

002. Spendo in affitto un terzo mio stipendio, un quarto va in spese fisse (bollette, assicurazione della macchina, ecc.) e mi rimangono Euro 470 per le altre spese. A quanto ammonta il mio stipendio?

- A) 1.128.
- B) 1.812.
- C) 1.218.

003. Quale dei seguenti numeri eliminerebbe?

161 - 266 - 287 - 112 - 57.

- A) 161.
- B) 57.
- C) 266.

004. Quali numeri completano la serie?

173 - 184 - 178 - 189 - 183 - 194 - ... - ... - 193 - 204

- A) 188 e 199.
- B) 189 e 199.
- C) 188 e 200.

005. Se si moltiplica per 400 e si divide il risultato per 25 si ottiene 512. Il numero è:

- A) 32.
- B) 30.
- C) 34.

006. Con quali di questi numeri deve continuare la serie?

57 - 60 - 54 - 67 - 51 - 74 - 48 - 81 - ... -

- A) 44 e 88.
- B) 45 e 88.
- C) 45 e 89.

007. Quali segni matematici devono essere inseriti nell'ordine al posto dei punti affinché:

743 ... 432 ... 89 ... 4.325 ... 389 = 5.978
--

- A) +---+.
- B) +++-+.
- C) +++++.

008. In questo istante a Bogotá sono le ore 03:20. A Dublino il fuso orario è di 7 ore in avanti rispetto a Bogotá; a Quito il fuso orario è di 4 ore indietro rispetto a Dublino e a Parigi è di 5 ore in avanti rispetto a Quito. Che ore sono, in questo stesso istante, a Parigi?

- A) Le 11:20.
- B) Le 10:20.
- C) Le 09:20.

009. Nonno Gino ha 6 nipoti; Nonno Pino ha 7 nipoti; Nonno Rino ha 8 nipoti e Nonno Dino ne ha 9. Quanti nipoti hanno in media i 4 nonni?

- A) 8.
- B) 7.
- C) 7,5.

010. Usando solo la cifra "4" si sono costruite espressioni con risultati diversi. In quale delle seguenti il risultato è "3"?

- A) $? = (4 \times 4 + 4)/4.$
 - B) $? = (4 + 4 + 4)/4.$
 - C) $? = 44/44.$
-

Leggere il brano e rispondere alle seguenti 6 domande. (011 - 016)

Marta ha deciso di acquistare un libro della collezione sulle donne uniche che hanno cambiato il mondo ed è indecisa fra quattro possibilità: "Artemisia" di M Montessori; "Vita" di M Curie; "Elogio" di R. Levi Montalcini; "Passione" di I. Gandhi. I prezzi dei libri sono, non necessariamente in questo ordine: 7 euro, 7,50 euro, 8 euro e 9 euro. Ogni libro è formato da un numero di pagine diverso e in ordine sparso le pagine che compongono i libri sono: 88, 93, 99 e 101.

È inoltre noto che: 7 euro è il prezzo del libro composto da 93 pagine; "Elogio" è composto da 99 pagine; il prezzo del libro di L Gandhi è superiore a 8 euro e non è composto da 88 pagine; il prezzo del libro di M Curie non è 8 euro.

011. Qual è il libro composto da 93 pagine?

- A) Il libro il cui prezzo è 8 euro.
- B) "Artemisia".
- C) "Passione".

012. Euro 9 è il prezzo:

- A) Del libro di M. Montessori.
- B) Del libro composto da 101 pagine.
- C) Del libro "Elogio".

013. Sulla base delle informazioni fornite, indicare l'affermazione corretta.

- A) "Vita" è composto da 88 pagine.
- B) "Elogio" costa 7,50 euro.
- C) "Passione" è composto da 99 pagine.

014. Quale libro sceglierebbe Marta se decidesse di acquistare quello che, in base al prezzo è il primo in ordine crescente?

- A) Il libro di M. Montessori.
- B) Il libro di R. Levi Montalcini.
- C) Il libro composto da 99 pagine.

015. Da quante pagine è formato il libro il cui prezzo è 8 euro?

- A) 101 pagine.
- B) 88 pagine.
- C) 99 pagine.

016. Euro 7,50 è il prezzo del libro:

- A) "Vita".
- B) Di I. Gandhi.
- C) Composto da 101 pagine.

017. Quale dei seguenti termini integra correttamente la serie? daghe - dannoso - damigella.

- A) Dattilogie.
- B) Dannunziani.
- C) Daltoniche.

018. Aldo, Bruna, Carlo, Dafne e Raul siedono ad un tavolo ovale. Se Aldo non è accanto a Dafne e Bruna è tra Carlo e Aldo, di conseguenza tra chi è seduto Raul?

- A) Due uomini.
- B) Aldo e Dafne.
- C) Bruna e Aldo.

019. Se X si trova tra A e B; A si trova tra Y e X; B si trova tra X e K; Y si trova tra C e A; K si trova tra B e D è sicuramente vero che:

- A) A è più vicino a Y che a C.
- B) D è più vicino a X che a B.
- C) Non è possibile stabilire se B sia più vicino a K che a D.

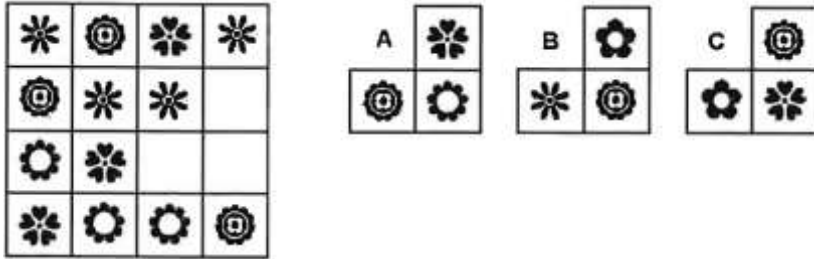
020. Se .? sta a Poiana allora è logico che .? stia a Sgombro.

- A) Volare - Nuotare.
- B) Planare - Mare.
- C) Ali - Piume.

021. Vulcano : Sicilia = (X) : Sardegna = Ortles : (Y).

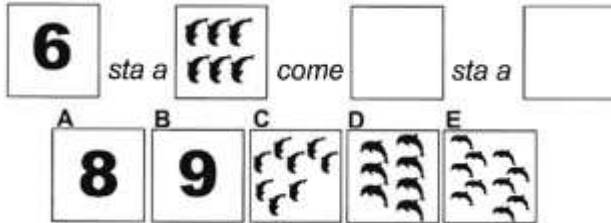
- A) (X) Gennargentu ; (Y) Trentino-Alto Adige.
- B) (X) Etna ; (Y) Piemonte.
- C) (X) Madonie ; (Y) Lombardia.

022. Individuare la figura che completa logicamente la griglia.



- A) Figura A.
- B) Figura C.
- C) Figura B.

023. La proporzione si completa con gli elementi indicati con:



- A) Le lettere A — D.
- B) Le lettere A — C.
- C) Le lettere B — E.

024. Individuare il termine che completa logicamente la proporzione. "bardare" sta a "barrare" come "gerente" sta a ..?..

- A) Geronte.
- B) Gestante.
- C) Gerenza.

Leggere il brano e rispondere alle seguenti 5 domande. (025 - 029)

Nel terzo trimestre 2018 si stima una crescita congiunturale delle esportazioni diffusa a livello territoriale ma con intensità diverse tra le ripartizioni: +4,3% per il Sud e Isole, +2,9% per il Nord-ovest, +0,7% per il Centro e +0,2% per il Nord-est. Nel periodo gennaio-settembre 2018 la crescita tendenziale dell'export si conferma molto sostenuta per le Isole e rilevante per il Nord-est, il Sud e il Nord-ovest, mentre il Centro risulta in leggera flessione. Nello stesso periodo, tra le regioni più dinamiche all'export su base annua, si segnalano Molise, Calabria, Basilicata e Valle d'Aosta che tuttavia presentano una forte polarizzazione settoriale e hanno un contenuto impatto sulla crescita dell'export nazionale. Sicilia, Friuli Venezia-Giulia, Emilia-Romagna e Lombardia contribuiscono per quasi 3 punti percentuali alla crescita complessiva. Le vendite di metalli di base e prodotti in metallo, esclusi macchine e impianti, e di mezzi di trasporto, autoveicoli esclusi, dalla Lombardia, di prodotti petroliferi raffinati dalla Sicilia e di macchinari e apparecchi n. c. a. dall'Emilia-Romagna contribuiscono alla crescita tendenziale dell'export nazionale nei primi nove mesi del 2018 per quasi un punto percentuale

025. Il contributo della Lombardia alla crescita tendenziale dell'export nazionale nei primi nove mesi del 2018 riguarda:

- A) Le vendite di metalli di base e prodotti in metallo, esclusi macchine e impianti, e di mezzi di trasporto, autoveicoli esclusi.
- B) Le vendite di metalli di base e prodotti in metallo, esclusi macchine e impianti, e di mezzi di trasporto, autoveicoli inclusi.
- C) Le vendite di metalli di base e prodotti in metallo, inclusi macchine e impianti, e di mezzi di **trasporto**, autoveicoli esclusi.

026. Nel terzo trimestre 2018 si stima una crescita congiunturale delle esportazioni diffusa a livello territoriale ma con intensità diverse tra le ripartizioni. Per quale ripartizione viene stimata l'intensità maggiore?

- A) Per il Nord-ovest, +4,3%.
- B) Per il Sud e Isole, +4,3%.
- C) Per il Sud e Isole, +2,9%.

027. Relativamente al periodo gennaio-settembre 2018, viene definita "rilevante" la crescita tendenziale dell'export per:

- A) Il Nord-ovest, il Sud e le Isole.
- B) Le Isole, il Sud e il Nord-est.
- C) Il Nord-est, il Sud e il Nord-ovest.

028. Nel periodo gennaio-settembre 2018, l'Emilia-Romagna rientra tra le regioni:

- A) Più dinamiche all'export su base annua che tuttavia presentano una forte polarizzazione settoriale.
- B) Che contribuiscono per quasi 3 punti percentuali alla crescita complessiva dell'export nazionale.
- C) Che hanno un contenuto impatto sulla crescita dell'export nazionale.

029. Contribuiscono alla crescita tendenziale dell'export nazionale nei primi nove mesi del 2018 per quasi un punto percentuale, tra l'altro, le vendite di prodotti petroliferi raffinati:

- A) Dalla Sicilia e dall'Emilia-Romagna.
- B) Dall'Emilia-Romagna.
- C) Dalla Sicilia e di macchinari e apparecchi n.c.a. dall'Emilia-Romagna.

030. Individuare tra i seguenti il sillogismo che conduce ad una falsa conclusione.

- A) Se parli inglese le aziende ti assumono al primo colloquio. Io sono stata assunta al primo colloquio, dunque parlo inglese.
- B) Se utilizzi correttamente Excel sei favorito rispetto ad altri candidati. Io utilizzo correttamente Excel dunque sono favorito rispetto ad altri candidati.
- C) Se sei puntuale, il tuo datore di lavoro non ti rimprovera. Io sono puntuale, dunque il mio datore di lavoro non mi rimprovera.

031. Quale dei seguenti termini può sostituire la parola "favellare" senza modificare il significato della frase ove essa è inserita?

- A) Bofonchiare.
- B) Parlare.
- C) Mentire.

032. In quale coppia, tra quelle proposte, i due vocaboli sono collegati da un rapporto di inclusione?

- A) Sardegna, isola.
- B) Sicilia, Elba.
- C) Isola, penisola.

033. Cosa significa negare la frase "tutti i conigli sono energici"?

- A) Nessun coniglio è pigro.
- B) Esiste almeno un coniglio pigro.
- C) Devono esistere almeno due conigli pigri.

034. Quale termine è il più adatto per indicare un "Ragionamento non valido dal punto di vista logico, ma che in apparenza sembra veritiero"?

- A) Deduzione.
- B) Sillogismo.
- C) Paralogismo.

035. Data la parola "aereo", quale tra quelle proposte è la meno attinente/collegabile?

- A) Cioccolato.
- B) Disastro.
- C) Linea.

036. Quali lettere non inserirebbe al posto degli spazi per ottenere una parola di senso compiuto ed uso corrente? P_N_.

- A) A - E.
- B) U - O.
- C) E - A.

037. Trovare il termine intruso tra quelli proposti.

- A) Ulna.
- B) Perone.
- C) Omero.

038. Chi è entrato almeno una volta nella casa blu, dopo non può più entrare nella casa gialla. Solo chi è già entrato nella casa rossa può entrare nella casa gialla. Chi è entrato almeno una volta nella casa gialla, dopo non può più entrare nella casa verde. Se sono entrato nella casa verde...

- A) Potrei essere entrato prima nella casa blu.
- B) Sicuramente sono entrato prima nella casa rossa.
- C) Sicuramente non sono entrato **prima** nella casa blu.

039. In quali dei seguenti punti i termini sono proposti nell'ordine NOME/VERBO/AGGETTIVO/AVVERBIO?

- A) Quiete/Mantenersi/Elegante/Stortamente.
- B) Pinguedine/Perpetuare/Sconcezza/Stoicamente.
- C) Noioso/Inumidire/Uggioso/Turgidamente.

040. Se la sequenza è "vocale-consonante-consonante-vocale", quale stringa è scritta in modo corretto?

- A) MPEATROUQLEAGFEURTUO.
- B) AGFEURTUOPOPLEEGFAADE.
- C) EGFAADSEEZCAEFBUUNME.

041. Quale, tra le seguenti serie di numeri, presenta un solo errore di battitura rispetto alla seguente sequenza? 566678 325537764 — 7773311.

- A) 566678 — 325537763 — 7783311.
- B) 566678 — 325577764 — 7773311.
- C) 566688 — 325537764 — 7773312.

042. Individuare il gruppo di numeri che risulti esattamente il contrario della seguente base: 25071955230119651210.

- A) 01215691103255917052.
- B) 01215961103259517052.
- C) 01216591103255910752.

043. In quale dei seguenti gruppi la lettera D non precede immediatamente la O e la lettera A non segue immediatamente la N?

- A) NODAOAODAODONAODNDNO.
- B) ODAODAODNODAONNODNDN.
- C) ODAODANODNDONODANANO.

044. In quale riga è presente la seguente sequenza: MMRMMMMMR?

- A) RMMMMRMMMMMMRMR.
- B) MRMMRMMMMMMMRMM.
- C) MMRMRMMMMRMMMMMR

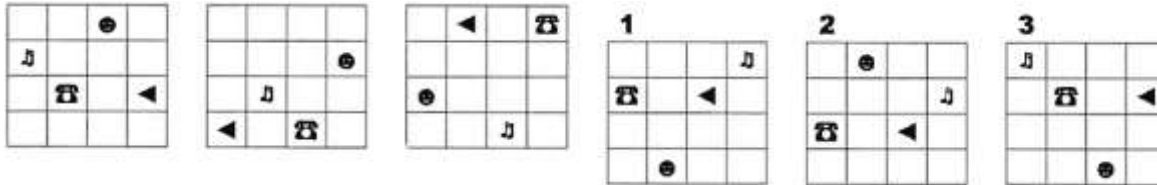
045. Qual è il totale di "forbici" presenti nelle due tabelle? Quanti "fiori" sono contenuti rispettivamente nella prima e nella seconda tabella?

Tabella 1									
🌸	✂️	✂️	➡️	✂️	✂️	✂️	✂️	✂️	➡️
✂️	🌸	🌸	➡️	✂️	✂️	✂️	✂️	✂️	🌸
➡️	✂️	✂️	🌸	✂️	✂️	✂️	🌸	✂️	➡️

Tabella 2									
🌸	🌸	✂️	✂️	➡️	🌸	🌸	➡️	🌸	🌸
🌸	✂️	✂️	✂️	➡️	🌸	🌸	➡️	➡️	➡️
➡️	🌸	🌸	🌸	✂️	🌸	✂️	🌸	➡️	✂️

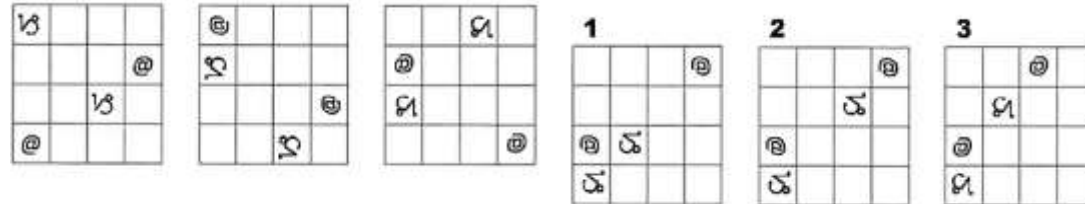
- A) 12. Nella tabella 1 sono contenuti 5 "fiori", nella tabella 2 sono contenuti 8 "fiori".
- B) 12. Nella tabella 1 sono contenuti 6 "fiori", nella tabella 2 sono contenuti 9 "fiori".
- C) 11. Nella tabella 1 sono contenuti 6 "fiori", nella tabella 2 sono contenuti 9 "fiori".

46. Quale delle figure proposte completa la serie?



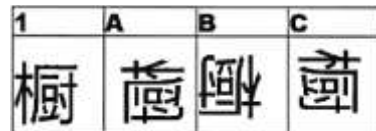
- A) La figura 2.
- B) La figura 3.
- C) La figura 1.

047. Quale delle figure proposte completa la serie ?



- A) La figura 2.
- B) La figura 3.
- C) La figura 1.


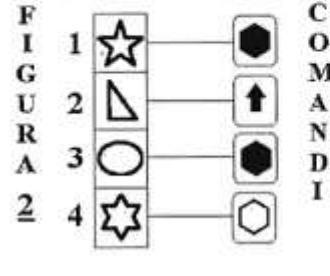

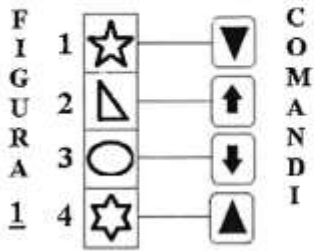
048. In quale dei seguenti quadrati è proposto il disegno 1, dopo essere stato ruotato e ribaltato?



- A) Nel quadrato B.
- B) Nel quadrato A.
- C) Nel quadrato C.

ELENCO COMANDI

-  scambia con il box numero 1
  inverte i colori
  copia nel box numero 4
  scambia con il box subito sopra
-  colora il disegno nel box di bianco
  colora il disegno nel box di nero
  copia nel box subito sotto



049. Quale figura si ottiene applicando alla FIGURA 1 i COMANDI a lato?

- A) La figura C.
- B) La figura B.
- C) La figura A.

050. Quale figura si ottiene applicando alla FIGURA 2 i COMANDI a lato?

- A) La figura B.
- B) La figura C.
- C) La figura A.

**ÖFFENTLICHES AUSWAHLVERFAHREN FÜR DIE EINSTELLUNG AUF UNBEFRISTETE ZEIT VON 15
HÖHEREN BEAMTEN/INNEN IM DRITTEN FUNKTIONSBEREICH, GEHALTSSTUFE F1, BERUFSBILD
HÖHERER/E BEAMTER/IN IM TÄTIGKEITSBEREICH VERWALTUNG UND STEUERN, FÜR DIE ÄMTER
DER AGENTUR DER EINNAHMEN IN DER PROVINZ BOZEN
OBJEKTIVE EIGNUNGSPRÜFUNG – 15. MAI 2019**

FRAGEBOGEN 1

001. Welche Nummer sind anstelle der Punkte einzufügen?

141 - 158 - ... - 192 - ... - 226 - 243.

- A) 176 und 209.
- B) 175 und 209.
- C) 175 und 210.

002. Ich gebe ein Drittel meines Gehalts für die Miete, ein Viertel für die Fixkosten (Rechnungen, Autoversicherung, usw.) und mir bleiben 470 Euro für andere Kosten. Auf welche Höhe beläuft sich mein Gehalt?

- A) 1.128.
- B) 1.812.
- C) 1.218.

003. Welche der folgenden Nummer würden Sie entfernen?

161 - 266 - 287 - 112 - 57.

- A) 161.
- B) 57.
- C) 266.

004. Durch welche Nummer wird die Reihe vervollständigt?

173 - 184 - 178 - 189 - 183 - 194 - ... - ... - 193 - 204

- A) 188 und 199.
- B) 189 und 199.
- C) 188 und 200.

005. Wenn sie mit 400 multipliziert wird und wenn das Ergebnis durch 25 dividiert wird, ist das Ergebnis 512. Die Nummer ist:

- A) 32.
- B) 30.
- C) 34.

006. Durch welche dieser Nummer ist die Reihe zu vervollständigen?

57 - 60 - 54 - 67 - 51 - 74 - 48 - 81 - ... -

- A) 44 und 88.
- B) 45 und 88.
- C) 45 und 89.

007. Welche Operationszeichen sind in der Reihenfolge anstelle der Punkte einzufügen, sodass:

743 ... 432 ... 89 ... 4.325 ... 389 = 5.9781

- A) + - - + + .
- B) + + - - + .
- C) + + + + + .

008. In diesem Moment ist in Bogota 03:20. Dublin ist zeitlich 7 Stunden vor Bogota; in Quito liegt die Uhrzeit 4 Stunden hinter Dublin und Paris ist 5 Stunden vor Quito. Wie spät ist es, in dem Augenblick, in Paris?

- A) 11:20.
- B) 10:20.
- C) 09:20.

009. Opa Gino hat 6 Enkel; Opa Pino hat 7 Enkel; Opa Rino hat 8 Enkel und Opa Dino hat 9. Wie viele Enkel haben die 4 Opas im Durchschnitt?

- A) 8.
- B) 7.
- C) 7,5.

010. Gleichungen mit verschiedenen Ergebnissen werden durch Anwendung der alleinigen Zahl „4“ aufgebaut. In welcher der folgenden Gleichungen ist das Ergebnis „3“?

- A) $? = (4 \times 4 + 4)/4.$
- B) $? = (4 + 4 + 4)/4.$
- C) $? = 44/44.$

Lesen Sie das Stück und antworten Sie den folgenden 6 Fragen. (011-016)

Marta hat beschlossen, ein Buch der Sammlung über die einzigen Frauen zu kaufen, die die Welt verändert haben und sie muss sich unter vier Möglichkeiten entscheiden: „Artemisia“ von M. Montessori; „Leben“ von M. Curie; „Lob“ von R. Levi Montalcini; „Leidenschaft“ von I. Gandhi. Die Preise der Bücher sind, nicht unbedingt in dieser Reihenfolge, 7 Euro, 7,50 Euro, 8 Euro und 9 Euro. Jedes Buch besteht aus einer verschiedenen Seitenzahl und in beliebiger Reihenfolge sind die Seite, woraus die Bücher bestehen: 88, 93, 99 und 101.

Auch ist bekannt, dass: 7 Euro ist der Preis des Buchs, das aus 93 Seiten besteht; „Lob“ besteht aus 99 Seiten; der Preis des Buchs von I. Gandhi ist höher als 8 Euro und besteht nicht aus 88 Seiten; der Preis des Buchs von M. Curie ist nicht 8 Euro.

011. Welches Buch besteht aus 93 Seiten?

- A) Das Buch, dessen Preis 8 Euro ist.
- B) "Artemisia".
- C) "Leidenschaft".

012. 9 Euro ist der Preis:

- A) des Buchs von M. Montessori.
- B) des Buchs, das aus 101 Seiten besteht.
- C) des Buchs "Lob".

013. Anhand der Angaben, kreuzen Sie die richtige Feststellung.

- A) "Leben" besteht aus 88 Seiten.
- B) "Lob" kostet 7,50 Euro.
- C) "Leidenschaft" besteht aus 99 Seiten.

014. Welches Buch würde Marta auswählen, wenn sie das Buch kaufen möchte, das nach dem Preis das erste Buch in aufsteigender Reihenfolge ist?

- A) Das Buch von M. Montessori.
- B) Das Buch von R. Levi Montalcini.
- C) Das Buch, das aus 99 Seiten besteht.

015. Aus wie vielen Seiten besteht das Buch, dessen Preis 8 Euro ist?

- A) 101 Seiten.
- B) 88 Seiten.
- C) 99 Seiten.

016. 7,50 Euro ist der Preis des Buchs:

- A) "Leben".
- B) Von I. Gandhi.
- C) das aus 101 Seiten besteht.

017. Welche der folgenden Wörter richtig ergänzt die Reihenfolge auf Italienisch? Daghe — dannoso — damigella.

- A) Dattilogie.
- B) Dannunziani.
- C) Daltoniche.

018. Aldo, Bruna, Carlo, Dafne und Raul sitzen an einem ovalen Tisch. Wenn Aldo nicht neben Dafne sitzt und wenn Bruna zwischen Carlo und Aldo sitzt, zwischen wem sitzt Raul nachfolgend?

- A) Zwei Männer
- B) Aldo und Dafne.
- C) Bruna und Aldo.

019. Wenn X liegt zwischen A und B; A liegt zwischen Y und X; B liegt zwischen X und K; Y liegt zwischen C und A; K liegt zwischen B und D, es ist sicher richtig, dass:

- A) A ist näher zu Y als zu C.
- B) D ist näher zu X als zu B.
- C) Es ist nicht möglich, festzustellen, ob B näher zu K als zu D sei.

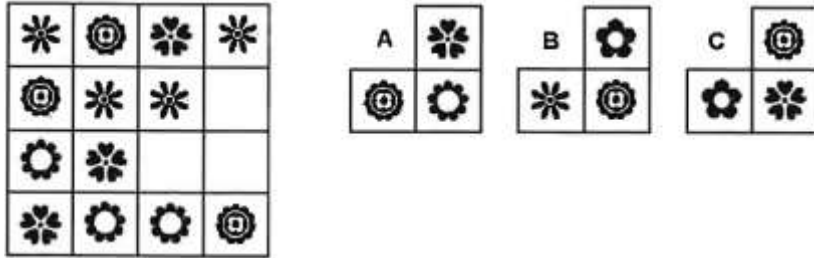
020. Wenn .? . verhält sich zu Bussard, dann ist es logisch, dass sich .? . zu Makrele verhält.

- A) fliegen - schwimmen
- B) gleiten - See.
- C) Flügel - Federn.

021. Vulcano : Sizilien = (X) : Sardinien = Ortles : (Y).

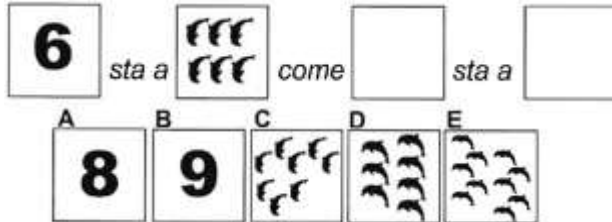
- A) (X) Gennargentu ; (Y) Trentino-Südtirol.
- B) (X) Ätna ; (Y) Piemont.
- C) (X) Madonie ; (Y) Lombardei.

022. Finden Sie das Bild, das das Gitter logisch vervollständigt.



- A) Bild A.
- B) Bild C.
- Bild B.

023. Das Verhältnis ist durch die Elemente zu vervollständigen, die wie folgt bezeichnet werden:



- A) Die Buchstaben A — D.
- B) Die Buchstaben A — C.
- C) Die Buchstaben B — E

024. Finden Sie das Wort, die auf Italienisch das Verhältnis logisch vervollständigt. „bardare“ verhält sich zu „barrare“, wie „gerente“ sich zu...verhält.

- A) Geronte.
- B) Gestante.
- C) Gerenza.

Lesen Sie das Stück und antworten Sie den folgenden 5 Fragen. (025 - 029)

Im dritten Vierteljahr 2018 wird ein konjunkturelles Wachstum der Exporte geschätzt, die weit verbreitet auf territorialer Ebene aber mit unterschiedlicher Intensität in den verschiedenen Gebieten ist: +4,3% im Süden und auf den Inseln, +2,9% im Nordwesten, +0,7% im Zentrum und +0,2% im Nordosten. In dem Zeitraum Januar-September 2018 bleibt die trendmäßige Entwicklung des Exports ausgesprochen stark auf den Inseln und relevant im Nordosten, im Süden und im Nordwesten, während im Zentrum ist ein leichter Rückgang festzustellen. Im selben Zeitraum zeichnen sich unter den auf Jahresbasis exportdynamischsten Regionen Molise, Kalabrien, Basilicata und Aostatal aus, die jedoch eine scharfe sektorspezifische Polarisierung zeigen und die weniger auf die Entwicklung des nationalen Exports auswirken. Sizilien, Friaul-Julisch Venetien, Emilia-Romagna und Lombardei leisten einen Beitrag von fast drei Prozentpunkte zum gesamten Wachstum. Die Verkäufe von Basismetallen und Metallerzeugnissen, Maschinen und Anlagen ausgeschlossen, und von Verkehrsmitteln, Kraftfahrzeuge ausgeschlossen, aus der Lombardei, von raffinierten Erdölzeugnissen aus Sizilien und von Maschinen und Ausrüstungen n. a. c. aus Emilia-Romagna leisten einen Beitrag von fast einem Prozentpunkt zur trendmäßigen Entwicklung des nationalen Exports in den ersten neun Monaten vom Jahr 2018.

025. Der Betrag der Lombardei zur trendmäßigen Entwicklung des nationalen Exports in den ersten neun Monaten vom Jahr 2018 betrifft:

- A) Die Verkäufe von Basismetallen und Metallerzeugnissen, Maschinen und Anlagen ausgeschlossen, und von Verkehrsmitteln, Kraftfahrzeugen ausgeschlossen.
- B) Die Verkäufe von Basismetallen und Metallerzeugnissen, Maschinen und Anlagen ausgeschlossen, und von Verkehrsmitteln, Kraftfahrzeugen eingeschlossen.
- C) Die Verkäufe von Basismetallen und Metallerzeugnissen, Maschinen und Anlagen eingeschlossen, und von Verkehrsmitteln, Kraftfahrzeugen ausgeschlossen.

026. Im dritten Vierteljahr 2018 wird ein konjunkturelles Wachstum der Exporte geschätzt, die weit verbreitet auf territorialer Ebene aber mit unterschiedlicher Intensität in den verschiedenen Gebieten ist. Im welchen Gebiet wird die höchste Intensität geschätzt?

- A) Im Nordwesten, +4,3%.
- B) Im Süden und auf den Inseln, +4,3%.
- C) Im Süden und auf den Inseln, +2,9%.

027. Bezüglich des Zeitraums Januar-September 2018 wird die trendmäßige Entwicklung des Exports in.... als „relevant“ bezeichnet:

- A) Im Nordwesten, im Süden und auf den Inseln.
- B) Auf den Inseln, im Süden und im Nordosten.
- C) Im Nordosten, im Süden und im Nordwesten.

028. Im Zeitraum Januar-September 2018 liegt Emilia-Romagna unter:

- A) den auf Jahresbasis exportdynamischsten Regionen, die jedoch eine scharfe sektorspezifische Polarisierung zeigen.
 - B) den Regionen, die einen Beitrag von fast drei Prozentpunkten zum gesamten Wachstum des nationalen Exports leisten.
 - C) den Regionen, die weniger auf die Entwicklung des nationalen Exports auswirken.
-

029. In den ersten neun Monaten vom Jahr 2018 leisten unter anderem einen Beitrag von fast einem Prozentpunkt zur trendmäßigen Entwicklung des nationalen Exports die Verkäufe von raffinierten Erdölzeugnissen:

- A) Aus Sizilien und aus Emilia-Romagna.
 - B) Aus Emilia-Romagna.
 - C) Aus Sizilien und von Maschinen und Ausrüstungen n.a.c. aus Emilia-Romagna.
-

030. Identifizieren Sie unter den folgenden Schlussfolgerungen diejenige, die zu einem falschen Schluss führt.

- A) Wenn man Englisch spricht, wird man am ersten Vorstellungsgespräch angestellt. Ich wurde am ersten Vorstellungsgespräch angestellt, dann spreche ich Englisch.
 - B) Wenn man Excel richtig benutzt, wird man verglichen mit anderen Kandidaten bevorzugt. Ich benutze Excel richtig, dann wird ich verglichen mit anderen Kandidaten bevorzugt.
 - C) Wenn man pünktlich ist, wird man vom Arbeitgeber nicht vorgeworfen. Ich bin pünktlich, dann wird ich vom Arbeitgeber nicht vorgeworfen.
-

031. Welches der folgenden Wörter kann auf Italienisch das Wort „favellare“ ersetzen, ohne die Bedeutung des Satzes, wo es liegt, zu verändern?

- A) Bofonchiare.
 - B) Parlare.
 - C) Mentire.
-

032. In welches der vorgeschlagenen Paare sind die zwei Vokabeln durch ein Eingliederungsverhältnis verbunden?

- A) Sardegna, Insel.
 - B) Sicilia, Elba.
 - C) Insel, Halbinsel.
-

033. Was bedeutet, den Satz "alle Kaninchen sind energisch" zu verneinen?

- A) Kein Kaninchen ist faul.
 - B) Es gibt mindestens ein faules Kaninchen.
 - C) Es muss mindestens zwei faule Kaninchen geben.
-

034. Welches ist das richtigste italienische Wort für „eine vom logischen Standpunkt falsche Argumentation, die aber wahrhaftig scheint“?

- A) Deduzione.
 - B) Sillogismo.
 - C) Paralogismo.
-

035. Angesichts des Wortes „Flugzeug“, welches der vorgeschlagenen Wörter ist dazu am wenigsten betreffend/damit am wenigsten in Verbindung?

- A) Schokolade.
 - B) Absturz.
 - C) Linie.
-

036. Welche Buchstaben würden Sie nicht in den Lücken einfügen, ein verständliches und gebräuchliches Wort auf Italienisch zu erreichen? P_N__.

- A) A - E.
 - B) U - O.
 - C) E - A.
-

037. Finden Sie den Eindringling unter den vorgeschlagenen Wörtern.

- A) Elle.
 - B) Wadenbein.
 - C) Oberarmknochen.
-

038. Wer in das blaue Haus mindestens einmal getreten ist, kann danach nicht mehr in das gelbe Haus treten. Nur wer in das rote Haus schon getreten ist, kann in das gelbe Haus treten. Wer in das gelbe Haus mindestens einmal getreten ist, kann danach nicht mehr in das grüne Haus treten. Wenn ich in das grüne Haus getreten bin, ...

- A) könnte ich vorher in das blaue Haus getreten sein.
 - B) sicher bin ich vorher in das rote Haus getreten.
 - C) sicher bin ich vorher in das blaue Haus nicht getreten.
-

039. In welchen der folgenden Punkte sind die italienischen Wörter in der Reihenfolge NAME/VERB/ADJEKTIV/ADVERB gegeben?

- A) Quiete/Mantenersi/Elegante/Stortamente.
 - B) Pinguedine/Perpetuare/Sconcezza/Stoicamente.
 - C) Noioso/Inumidire/Uggioso/Turgidamente.
-

040. Wenn die Reihenfolge „Vokal-Konsonant-Konsonant-Vokal“ ist, welcher String ist ordentlich geschrieben?

- A) MPEATROUQLEAGFEURTUO.
- B) AGFEURTUOPOLEEGFAADE.
- C) EGFAADSEEZCAEFBUUNME.

041. Welche der folgenden Reihen von Zahlen zeigt einen einzigen Tippfehler im Vergleich zu der folgenden Reihe? 566678 325537764 — 7773311.

- A) 566678 — 325537763 — 7783311.
- B) 566678 — 325577764 — 7773311.
- C) 566688 — 325537764 — 7773312.

042. Identifizieren Sie die Gruppe von Zahlen, die genau das Gegenteil der folgenden Basis ist: 25071955230119651210.

- A) 01215691103255917052.
- B) 01215961103259517052.
- C) 01216591103255910752.

043. In welcher der folgenden Gruppe kommt der Buchstabe D dem Buchstabe O nicht unmittelbar zuvor und folgt der Buchstabe A den Buchstabe N nicht unmittelbar?

- A) NODAOADAODONAODNDNO.
- B) ODAODADNODANONNODNDN.
- C) ODAODANODNDONODANANO.

044. Welche Zeile zeigt die folgende Reihenfolge: MMRMMMMMR?

- A) RMMMMRMMMMMMRMR.
- B) MRMMRMMMMMMRMM.
- C) MMRMRMMMMRMMMMR

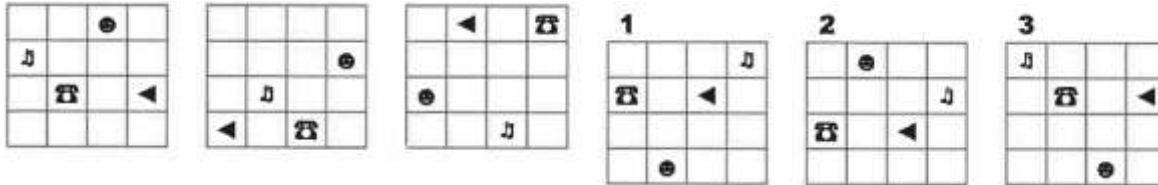
045. Welche ist die Zahl der "Schere" in den Zwei Tabellen? Wie viele "Blumen" sind jeweils in der ersten und in der zweiten Tabelle enthalten?

Tabella 1									
☼	✂	✂	✂	✂	✂	✂	✂	✂	✂
✂	✂	✂	✂	✂	✂	✂	✂	✂	✂
✂	✂	✂	✂	✂	✂	✂	✂	✂	✂

Tabella 2									
☼	☼	✂	☼	☼	✂	☼	☼	✂	☼
☼	☼	✂	☼	☼	✂	☼	☼	✂	☼
✂	☼	☼	☼	✂	☼	✂	☼	✂	✂

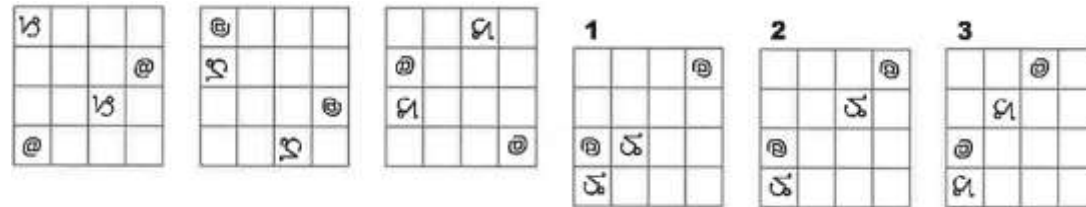
- A) 12. In der Tabelle 1 sind 5 "Blumen", in der Tabelle 2 sind 8 "Blumen" enthalten.
- B) 12. In der Tabelle 1 sind 6 "Blumen", in der Tabelle 2 sind 9 "Blumen" enthalten.
- C) 11. In der Tabelle 1 sind 6 "Blumen", in der Tabelle 2 sind 9 "Blumen" enthalten

046. Welches der vorgeschlagenen Bilder vervollständigt die Reihenfolge?



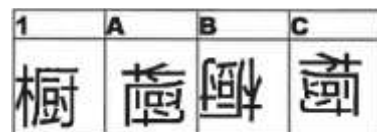
- A) Das Bild 2.
- B) Das Bild 3.
- C) Das Bild 1.

047. Welches der vorgeschlagenen Bilder vervollständigt die Reihenfolge?



- A) Das Bild 2.
- B) Das Bild 3.
- C) Das Bild 1.

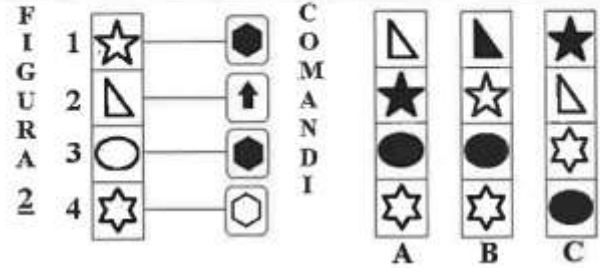

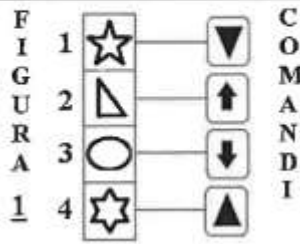
048. In welches der folgenden Quadrate wird die Zeichnung 1 gezeigt, nachdem sie gedreht und umgekippt wurde?



- A) Im Quadrat B.
- B) Im Quadrat A.
- C) Im Quadrat C.

ELENCO COMANDI

-  scambia con il box numero 1
  inverte i colori
  copia nel box numero 4
  scambia con il box subito sopra
-  colora il disegno nel box di bianco
  colora il disegno nel box di nero
  copia nel box subito sotto



049. Welches Bild wird erhalten, wenn dem FIGURA 1 (Bild 1) die nebenstehenden COMANDI (Befehle) angewandt werden?

- A) Das Bild C.
- B) Das Bild B.
- C) Das Bild A.

050. Welches Bild wird erhalten, wenn dem FIGURA 2 (Bild 2) die nebenstehenden COMANDI (Befehle) angewandt werden?

- A) Das Bild B.
- B) Das Bild C.
- C) Das Bild A.